




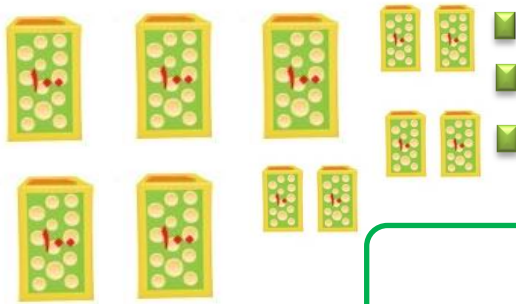
عزیزم این تمرین به کوچولو مربوط به کلاس دومه.
تو کلاس اول یاد گرفتی که وقتی ده تا دسته ی ده تایی داشته باشیم میشه به دسته ی صد تایی
حالا عدد مربوطه را بنویس.



ده تایی	یکی

با عدد.....


با حروف.....



صد تایی	ده تایی	یکی

با حروف.....

با عدد.....



صد تایی	ده تایی	یکی

با حروف.....

با عدد.....

حالا در دفترت برای این اعداد هم شکل بکش هم جدول ارزش مکانی و هم با عدد و حروف
بنویس.

۸۰۵ - ۳۱۲ - ۵۵۳ - ۲۰۸ - ۶۸۴