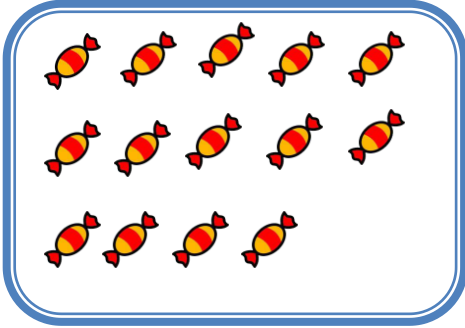



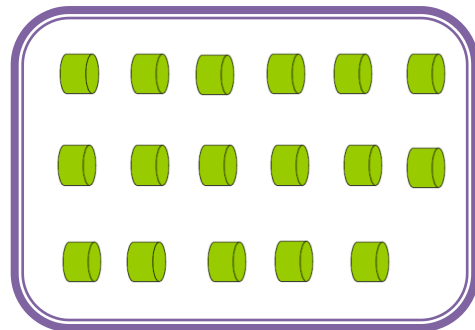
تعداد شکل های هر دسته را با چوب خط بشمار. با شکل ها دسته های ده تایی درست کن؛ جدول را کامل کن و عدد مربوط به هر دسته را بنویس.



یکی	ده تایی



یکی	ده تایی





یکی	ده تایی

۱۶

تم

دور عدد مناسب هر دسته خط بکش .



۱۵

۱۴

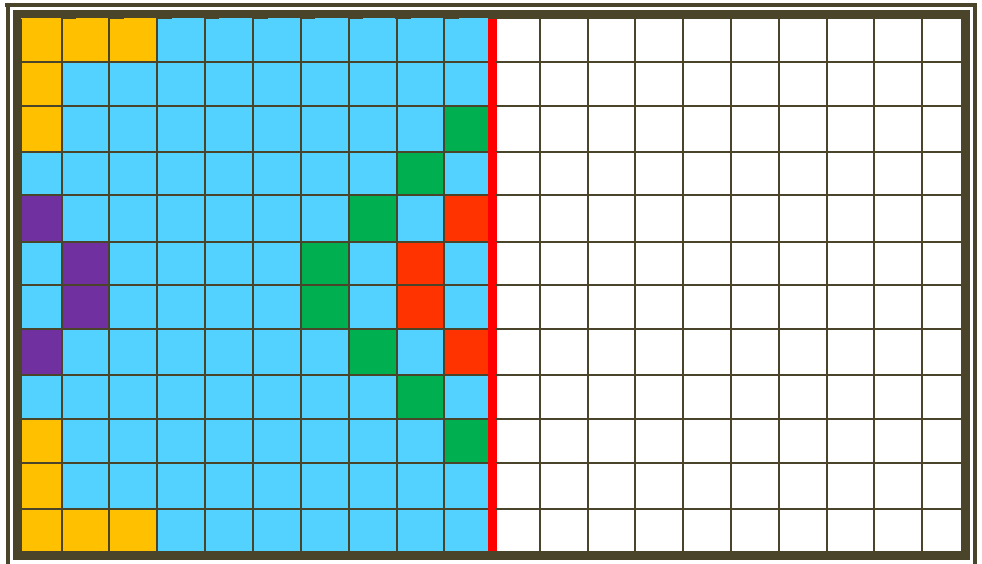
۱۶

۱۲



۱۵

۱۷

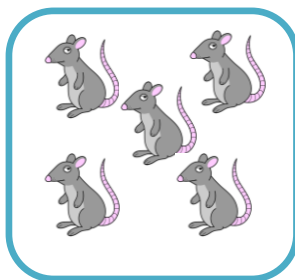

نیمه ی سمت راست جدول را مانند سمت چپ آن کامل و رنگ کن .



به کمک انگشتان خود جواب جمع را پیدا کن و حساب کن دو دسته روی هم چند شکل دارند. یک جمع بنویس.



$$\underline{\quad} + \underline{\quad} = \underline{\quad}$$



$$\underline{\quad} + \underline{\quad} = \underline{\quad}$$

ادامه بده.


۱۱ - ۱۲ - ۱۳ - - - -



۱	۳	۸	۹	۷	۶	۵	۴	
۴	۲	۹	۸	۵	۳	۶		۱
۵	۶	۷	۱	۲	۴		۹	۸
۶	۷	۴	۵	۹		۲	۱	۳
۲	۸	۳	۷		۱	۹	۶	۵
۹	۱	۵		۶	۲	۷	۸	۴
۸	۴		۶	۳	۷	۱	۵	۹
۳		۶	۴	۱	۵	۸	۲	۷
	۵	۱	۲	۸	۹	۴	۳	۶

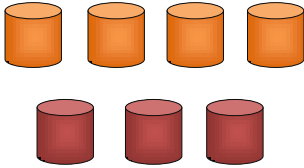


بلندی پادمچان کوتاه تر از است. \longleftrightarrow



بلندی موز کوتاه تر از است. \longleftrightarrow

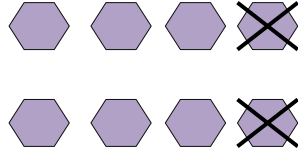
پاسخ هر قسمت را نوشته و مقایسه کن و علامت مناسب کمتری یا بیشتر را انتخاب کن.



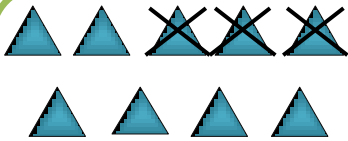
$$\underline{\quad} + \underline{\quad} = \underline{\quad}$$

<

>



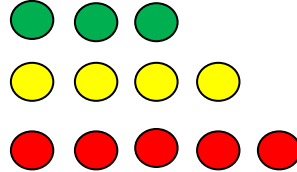
$$\underline{\quad} - \underline{\quad} = \underline{\quad}$$



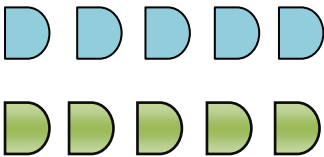
$$\underline{\quad} - \underline{\quad} = \underline{\quad}$$

<

>



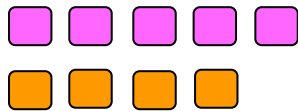
$$\underline{\quad} + \underline{\quad} + \underline{\quad} = \underline{\quad}$$



$$\underline{\quad} + \underline{\quad} = \underline{\quad}$$

<

>



$$\underline{\quad} + \underline{\quad} = \underline{\quad}$$



با توجه به شکل؛ جمع مناسب را بنویس و حاصل را پیدا کن.



$$\text{---} + \text{---} + \text{---} = \text{---}$$



$$\text{---} + \text{---} + \text{---} = \text{---}$$

با توجه به جمع نوشته شده؛ مربع‌ها را با رنگ‌های مختلف رنگ کرده و حاصل را بنویس.



$$۴ + ۳ + ۴ = \text{---}$$



$$۶ + ۲ + ۷ = \text{---}$$



با چوب خط حاصل جمع را پیدا کن و یک جمع بنویس .



$$\text{---} + \text{---} + \text{---} = \text{---}$$



$$\text{---} + \text{---} + \text{---} = \text{---}$$



$$\text{---} + \text{---} + \text{---} = \text{---}$$



با کمک محور جمع یا تفریق کن.



$$5 + 3 = \underline{\quad}$$




$$8 - 6 = \underline{\quad}$$



$$1 + 8 = \underline{\quad}$$

جمله ها را با نوشتن عدد مناسب کامل کن.

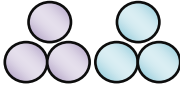


بلندی ساندویچ بین و است.

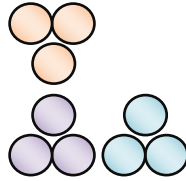
جای خالی را با عدد مناسب کامل کن.



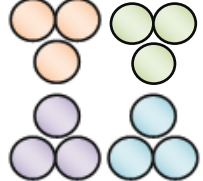
.....



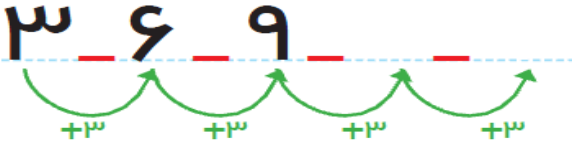
.....



.....



.....



۳ تا بعد از ۶ می شود

۳ تا بعد از ۹ می شود

۳ تا بعد از ۱۲ می شود

یک شکل سه خانه ای در نظر بگیر و ادامه بده.

مجموع شکل‌ها را با چوب خط نشان بده و عبارت جمع را بنویس.



$$\square + \square = \square$$



$$\square + \square = \square$$


در جای‌های خالی عدد مناسب بنویس.



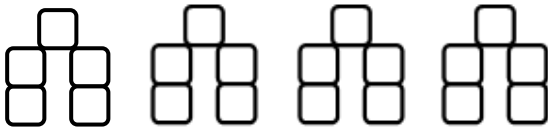
.....

۶ - ۸ - ۱۰ - - - -

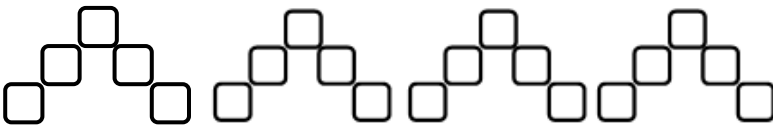
الگوی دو طرف فرش را ادامه بده. با شاپلون دو طرف فرش شکل های یکسان بکش.



با استفاده از دو رنگ مختلف جواب جمع را پیدا کن.


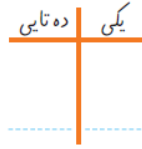
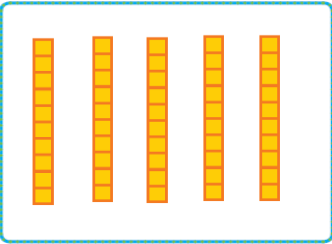

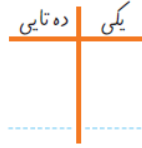
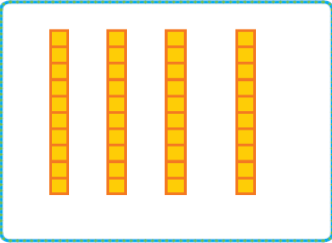

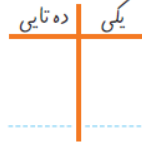
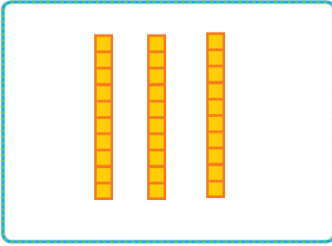


$$12 + 7 = \underline{\quad}$$



$$11 + 6 = \underline{\quad}$$

جدول را کامل کن و عددی را که هر شکل نشان می دهد کنار آن بنویس.



۱۰ ۲۰ ۳۰





۱۹



تم



جواب جمع ها را بنویس .



$$۴۰ + ۱۰ =$$



$$۵۰ + ۳۰ =$$



$$۴۰ + ۳۰ =$$



$$۲۰ + ۵۰ =$$

$$۷۰ - ۱۰ = ۶۰$$

-۱۰ -۱۰

برای هر مسئله یک شکل ساده بکش و جواب را بدست آور و روی محور نشان بده.



۵ گوسفند در دشت چرا می کردند.

۳ گوسفند دیگر به آن ها اضافه شدند.

چند گوسفند در دشت است؟



۸ خرگوش بازی می کردند.

۲ تا از خرگوش ها رفتند.

چند خرگوش باقی مانده است؟



۶ توت در بشقاب بود.

مادر ۴ توت دیگر آورد.

حالا چند توت در بشقاب است؟





۵	۶	۷	۱	۲	۴	۳	۹	۸
۴	۲	۹	۵	۸	۳	۶	۷	۱
۱	۳			۷	۶		۴	۲
۷	۵			۸			۳	۶
۳	۹	۶	۴	۱	۵	۸	۲	۷
۸	۴			۳			۵	۹
۹	۱			۶			۸	۴
۲	۸	۳	۷	۴	۱	۹	۶	۵
۶	۷	۴	۵	۹	۸	۲	۱	۳

$\text{---} + \text{---} = \text{---}$

$\text{---} + \text{---} = \text{---}$



جاهای خالی را با عدد مناسب کامل کن.

یکی ده تایی	
	—
—	—
—	—

یکی ده تایی	
	—
—	—
—	—

یکی ده تایی	
	—
—	—
—	—

یکی ده تایی	
	—
—	—
—	—

۱۱ ۲۱ ۳۱ — — — — ۸۱ ۹۱

+۱۰
+۱۰
+۱۰
+۱۰

یکی ده تایی	
	—
—	—
—	—

یکی ده تایی	
	—
—	—
—	—


یکی ده تایی	
	—
—	—
—	—

یکی ده تایی	
	—
—	—
—	—

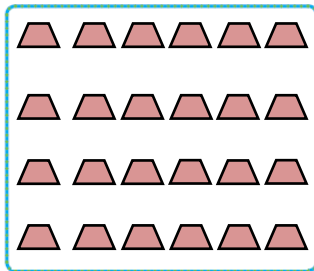
دسته هاس ده تایی درست کن. جدول را کامل و عدد مربوط به آن را بنویس.




یکی ده تایی




یکی ده تایی



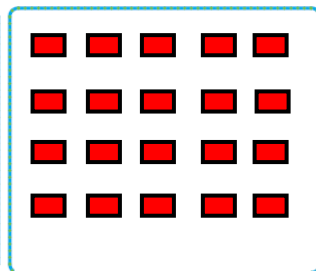
یکی ده تایی



یکی ده تایی



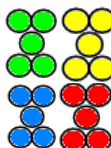
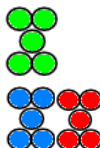

یکی ده تایی



یکی ده تایی



جایهای خالی را کامل کن.



.....

.....

.....

.....

۵۳ - ۵۴ - ۵۵ -

۵ ۱۰ ۱۵



۴۰

۵۵ ۶۰ ۶۵



.....

.....

.....

.....

۲۰

تم

حاصل جمع ها را به صورت ذهنی پیدا کن.

$$۲۵ + ۱۰ = \square$$

$$۱۰ + ۵ = \square$$

$$۲۰ + ۵ + ۵ = \square$$

$$۵ + ۵ = \square$$

$$۱۰ + ۱۰ + ۵ + ۵ + ۱۰ = \square$$

۶۵ ۷۰ ۷۵



۵ ۱۰ ۱۵ ۲۰ ۲۵ ۵۵



۳ بسته ده تایی ماهی در آب شنا می کردند.

۵ ماهی دیگر به آن ها اضافه شدند.

حالا چند ماهی در حال شنا هستند؟

