




به نام خدای مهربان

آزمون مداد کاغذی کتاب ریاضی

پایه ی پنجم ابتدایی

(فصل اول)

۱	<p>کدام یک از اعداد نوشته شده ی زیر ، عدد « سیصد و هشتاد میلیون و دویست و نوزده هزار » می باشد ؟</p> <p> <input type="checkbox"/> ۳۸۰/۲۱۹/۰۰۰ <input type="checkbox"/> ۳۸۲/۱۹۰/۰۰۰ <input type="checkbox"/> ۳۸۰/۰۰۰/۲۱۹ </p>
۲	<p>جاهای خالی را با اعداد یا کلمه های مناسب کامل کنید.</p> <p>۴۲۰ تا صد هزار ، برابر است با یعنی عدد</p> <p>۸ تا یک میلیون ، برابر است با یعنی عدد</p>
۳	<p>بنفشه می خواهد اتومبیل خود را که ۲۷۴۵۳۰۰۰ تومان قیمت دارد ، بفروشد و یک اتومبیل دیگر به قیمت ۳۰ میلیون تومان خریداری کند . او چند تومان دیگر باید پردازد ؟</p>
۴	<p>رضا دسته ی یک میلیون ریالی و دسته صد هزار ریالی و دسته هزار ریالی را با هم جمع کرد و مبلغ ۵۳۴۰۰۰۰۰ ریال به دست آمد .</p>
۵	<p>عدد های زیر با هم مقایسه کنید .</p> <p> <input type="radio"/> ۳۰۰۰۰۳۰۰ <input type="radio"/> ۳۰۰۰۳۰۰ <input type="radio"/> ۱۹۰۰۵۰۱ <input type="radio"/> ۱۹۰۰۵۱۰۰ <input type="radio"/> ۹۹۹۹۹۹ <input type="radio"/> یک میلیون </p>
۶	<p>با رقم های ۹ ، ۶ ، ۲ ، ۱ بدون تکرار ارقام ، عددهای دو رقمی بسازید به طوری که :</p> <p>الف : حاصل جمع آن ها بیش ترین مقدار ممکن باشد .</p> <p>ب : حاصل ضرب آن ها بیش ترین مقدار ممکن باشد .</p> <p>ج : حاصل تفریق آن ها بیش ترین مقدار ممکن باشد .</p>
۷	<p>با توجه به محور ها ، در جاهای خالی اعداد یا کلمه های مناسب بنویسید .</p> <p> </p> <p> </p>

<div style="display: flex; justify-content: space-around; align-items: center;"> <div style="border: 1px solid black; padding: 5px; text-align: center;">۱۶۰ میلیون</div> <div style="border: 1px solid black; padding: 5px; text-align: center;">۳ میلیارد</div> <div style="border: 1px solid black; padding: 5px; text-align: center;">۱۰۰ میلیارد</div> </div>	<p>۸ با توجه به عددهای داخل مستطیل ، جمله های زیر را کامل کنید .</p> <p>الف : تعداد سلول های عصبی در مغز انسان تقریباً تا می باشد .</p> <p>ب : طول کل رگ های بدن یک انسان تقریباً متر می باشد .</p> <p>ج : تعداد ضربان قلب یک انسان در طول عمرش تقریباً دفعه می باشد .</p>
<p>۹</p> <p>حاصل جمع و تفریق های زیر را به دست آورید .</p> $\begin{array}{r} ۳:۴':۹" \\ - ۱:۹':۱۵" \\ \hline \end{array}$	$\begin{array}{r} ۱۴:۴۰':۱۰" \\ + ۸:۱۲':۱۹" \\ \hline \end{array}$
<p>۱۰</p> <p>رکورد روز اول دونه ، " ۱۰ : ۱ : ۳۰ " و رکورد روز دوم " ۷ : ۱۰ : ۱ " بوده است . مجموع رکورد دو روز این دونه ، چند ساعت و چند دقیقه و چند ثانیه است ؟</p>	
<p>۱۱</p> <p>دور اعدادی که مربوط به الگوی مثلثی هستند ، یک \triangle دور اعدادی که مربوط به الگوی مربعی هستند یک \square بکشید</p> <p>۱۰۰ ، ۹ ، ۳ ، ۶۴ ، ۱۶ ، ۲۱ ، ۲۸ ، ۲۵ ، ۳۶</p> <p>الف : عدد دهم از الگوی مثلثی چند است ؟</p> <p>ب : عدد دهم از الگوی مربعی چند است ؟</p>	
<p>۱۲</p> <p>به الگوی رو به رو توجه کنید .</p> <div style="display: flex; justify-content: space-around; align-items: center;">    </div> <p>.....</p> <p>ب : در این الگو شکل پنجاه و هفتم از چند کمان ساخته شده است ؟</p>	