

نام و نام خانوادگی :

پایه چهارم ابتدایی

کار در خانه ۸/

۱- مقایسه کنید .

$$\frac{9}{10} \square \frac{4}{5}$$

$$\frac{2}{5} \square \frac{4}{25}$$

$$\frac{4}{15} \square \frac{1}{3}$$

$$\frac{6}{8} \square \frac{12}{16}$$

$$\frac{48}{60} \square \frac{8}{10}$$

$$\frac{4}{7} \square \frac{24}{42}$$

۲- کسرهای زیر را جمع و تفریق کنید .

$$\frac{1}{4} - \frac{1}{12} =$$

$$\frac{5}{8} + \frac{1}{4} =$$

$$\frac{18}{20} - \frac{6}{10} =$$

$$\frac{1}{6} + \frac{4}{24} =$$

$$\frac{16}{50} - \frac{3}{10} =$$

$$\frac{5}{10} + \frac{2}{100} =$$

۳- جای خالی را پر کنید .

$$\frac{2}{7} = \frac{4}{\square}$$

$$\frac{4}{5} = \frac{\square}{10}$$

$$\frac{4}{10} = \frac{20}{\square}$$

$$\frac{70}{80} = \frac{7}{\square}$$

$$\frac{20}{28} = \frac{5}{\square}$$

$$\frac{3}{9} = \frac{\square}{45}$$

..... , ..... , ۴۰ , ۱۳ , ۴ , ۱

۴- الگوی زیر را ادامه بده

۱۰۰۰۲۳

۱۰۰۲

۱۰۰۰۰

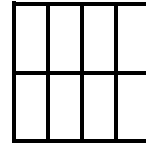

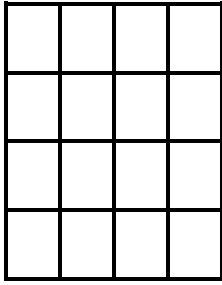
۵- تفریق کنید .

-۶۷

-۸۸

-۹۶

۶-  $\frac{3}{4}$  شکل های زیر را رنگ بزن.



۷- متن زیر از چند جمله درست شده است . فعل ها را مشخص کن .  
آرش با تمام توان خود از قلّه بالا رفت . و با امید به خداوند تیر را پرتاب کرد . تیر در نزدیکی رود جیحون در کنار درختی تناور به زمین نشست .

۸- جغرافی دان کیست ؟

۹- برای استفاده از نقشه باید به چه چیز آن توجه کرد؟

راهها

راهنمای نقشه

دریاها

کوهها

۱۰- کدام گروه از مهره دارن خوراکی هستند . نام آنها را بنویس .

۱۱- ستاره دریایی در چه گروهی از بی مهره داران قرار دارد؟

۱۲- حروف مقطعه چیست؟ و در چند سوره قرآن آمده است .

۱۳- کرم کدو و کرم آسکاریس چه تفاوتها و چه شباهتهایی دارند با توجه به کتاب بنویس.

۱۴- تخم کدام کرم همراه سبزی یا میوه نشسته وارد معده می شود؟

۱۵- جنوب شرقی بین جهت های اصلی ..... و ..... قرار دارد .

خوب سوال پرسیدن نیمی از دانش است