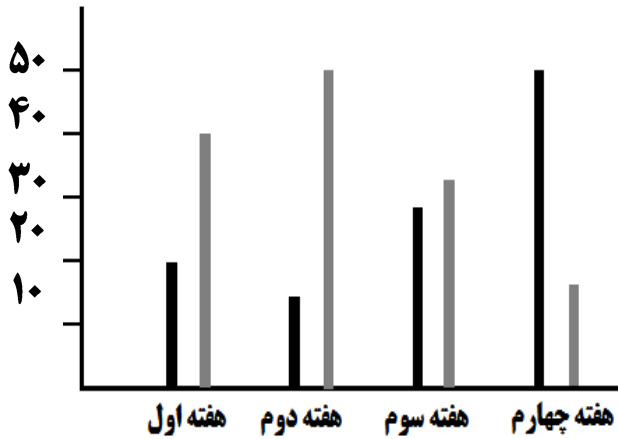



۱- این نمودار میزان امتیاز کسب شده یک دانش آموز در مطالعه کتابهای درسی و نیز میزان اوقات فراغت او را در طول یک ماه نشان می دهد.



فراغت رنگ طوسیامتیاز رنگ مشکی

- در کدام هفته بیشترین امتیاز را کسب کرده است؟
- در کدام هفته کمترین امتیاز را کسب کرده است؟
- بیشترین اوقات فراغت مربوط به کدام هفته است؟
- هفته دوم و چهارم را با هم مقایسه کن.



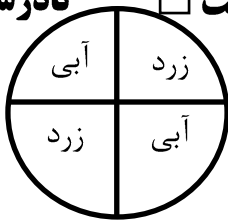
شکل (۲)

سفید: ۵
زرد: ۸
نارنجی: ۴

شکل (۱)

سفید: ۲
زرد: ۵
نارنجی: ۷

نادرست درست



- ۲- در دو کیسه تعدادی گوی رنگی داریم. رنگ سبز رنگ زرد رنگ نارنجی
- احتمال آمدن سبز در کیسه ی ۱ بیش تر است یا کیسه ی ۲؟
 - احتمال آمدن کدام رنگ در کیسه ی دوم از همه بیش تر است؟
 - احتمال آمدن کدام رنگ در کیسه ی اول از همه کم تر است؟

۳- درست یا نادرست بودن جمله ی زیر را مشخص کنید.
در چرخنده زیر، احتمال ایستادن عقربه روی رنگ آبی بیش تر است.

۴- عددها یا عبارات های مناسب را به هم وصل کنید.

- (الف) در پاییز روز آفتاب غروب خواهد کرد.
- (ب) تاس را می اندازیم، زوج یا فرد می آید.
- (ج) در تیرماه در یزد باران بیارد.

- به طور حتم اتفاق می افتد.
- به احتمال کمتر
- به احتمال برابر
- به طور حتم اتفاق می افتد