
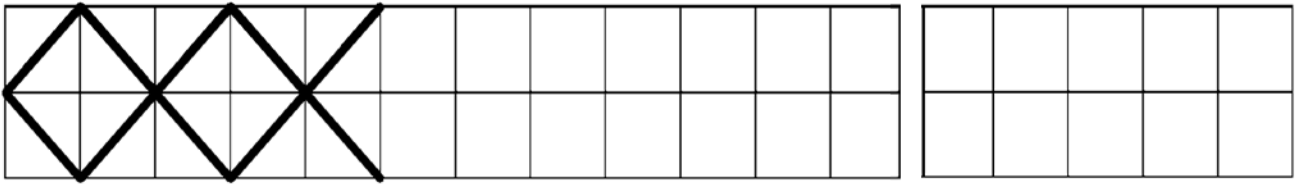

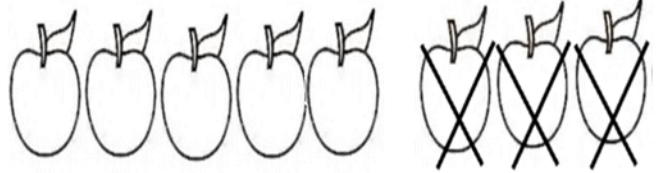
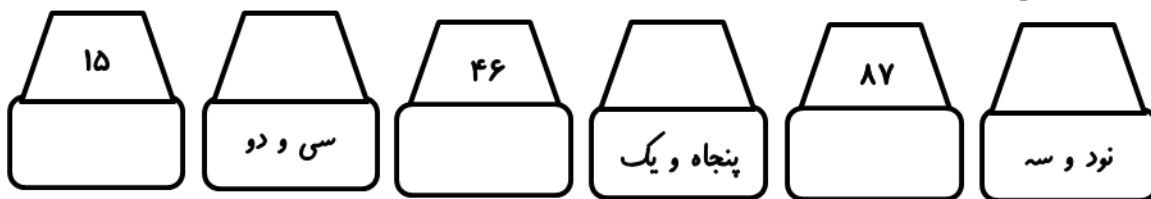
	<p>۱ ماهی های سمت چپ را رنگ بزن.</p> 
<p>۲ الگو را ادامه بده و در سمت راست الگویی را که تکرار می شود را رسم کن.</p> 	
<p>۳ بین عدد ها علامت مناسب <=> بگذار.</p> <p>۱۰ ○ ۱۵ ۹۱ ○ ۱۹ ۳۰ ○ ۲۲ ۴۵ ○ ۴۵</p>	
<p>۴ نوشتن عددها را ادامه بده.</p> <p>۲۷ - ۳۰ - ○ - ○ - ○ - ○ ۴۰ - ۴۵ - ○ - ○ - ○ - ○</p>	
<p>۵ با کمک انگشت ها و شانه هایت جمع کن.</p> <p>۷ + ۸ = □ ۷ + ۶ = □ ۹ + ۹ = □ ۵ + ۸ = □</p>	
 <p>□ - □ = □</p>	<p>۶ برای شکل های زیر یک تفریق بنویس.</p>  <p>□ - □ = □</p>
<p>۷ از عدد ۶ تا ۳۶ شش تا شش تا بنویس.</p> <p>.....</p>	

۸

با عدد یا حروف بنویس.

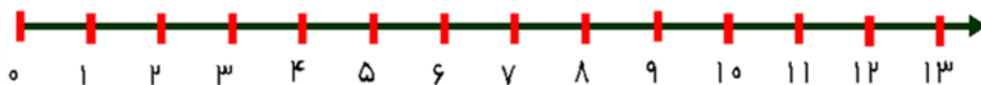


۹

۷ سرباز در سنگر بودند. ۴ سرباز دیگر به کمک آن ها آمدند.



(با رسم شکل و روی محور حل کن.)

سربازها چند تا شدند؟



۱۰

نام هر شکل را بنویس.



.....

.....

.....

.....

۱۱

جاهای خالی را با عدد مناسب کامل کن.

$$5 + 5 + 5 + 5 = \bigcirc$$

$$10 - 5 + 3 = \bigcirc$$

$$25 + 10 - 5 + 10 - 15 = \bigcirc$$

$$20 + 10 + 5 + 3 = \bigcirc$$

$$10 + 10 + 10 - 10 + 5 = \bigcirc$$

۱۲

در کلاس اول ۲۹ دانش آموز نشسته بودند. ۹ نفر از آن ها از کلاس بیرون رفتند چند نفر در کلاس ماندند؟ با استفاده از شکل حل کن.

..... در کلاس ماندند.

۱۳

کامل کن.

۲۵ می شود ده تایی و یکی

۱ ده تایی و ۶ یکی می شود.....

۱۷ می شود ده تایی و یکی

۸ ده تایی و ۰ یکی می شود.....