

- ۱- چرا حکومت هخامنشیان در اواخر حکومت شان ضعیف شدند؟
- ۲- هخامنشیان در حدود چند سال پیش بر ایران حکومت کردند؟
- ۳- آریوبرزن که بود؟
- ۴- جانشینان اسکندر در ایران چه حکومتی را تشکیل دادند؟
- ۵- دولت سلوکی چگونه از ایران رانده شد سعی کرد چه فرهنگی را در ایران رواج دهند؟
- ۶- جنگ بین ایران و روم در زمان اشکانیان بر سر چه سرزمینی بود؟
- ۷- آثار تاریخی کرمانشاه را بنویسید.
- ۸- پادشاهان ساسانی را نام ببرید.
- ۹- حکومت ساسانیان چگونه تشکیل شد؟
- ۴- در زمان کدام پادشاه ساسانی ایران وسعت زیادی یافت؟
- ۵- به دستور چه کسی دانشگاه جندی شاپور ساخته شد؟
- ۶- کتاب مقدس زرتشتیان چه نام دارد؟
- این کتاب بر چه پایه هایی استوار است؟
- ۷- دعوت پیامبر اسلام(ص) به دین اسلام، در زمان کدام پادشاه ساسانی اتفاق افتاد؟
- پاسخ اوبه دعوت پیامبر چگونه بود؟

۸- دولت ساسانیان چگونه از بین رفتند؟

۹- دین اسلام چه ارمغانی برای مردم به هدیه آورد؟

۱۰- در نقشه همیشه ..... در بالا و ..... در پایین و ..... در سمت راست و ..... در سمت چپ قرار دارد؟

۱۱- رشته کوه چیست؟

۱۲- ناهمواری چیست؟

۱۳- در نقشه رنگ قهوه ای پررنگ نشانه چیست؟

۱۴- دو رشته گوه مهم ایران را نام ببرید؟

۱۵- کوهپایه را تعریف کنید؟

۱۶- رشته کوه شمال ایران چه نام دارد؟

۱۷- بلند ترین قله رشته کوههای شمال ایران چه نام دارد؟

۱۸- بلندترین قله های رشته کوههای مغرب ایران چه نام دارد؟

۱۹- چرا به کوههای زاگرس رشته کوه می گویند؟

۲۰- دشت یعنی چه؟

۲۱- فرق دشت با دشت کویر را بنویسید. و دو نمونه دشت کویر در ایران را نام ببرید.

۲۲- جویبار چگونه به وجود می آید؟

۲۳- رود چگونه تشکیل می شود؟

۲۴- خاکهای آبرفتی چگونه به وجود می آیند؟

۲۵- جلگه چگونه به وجود می آید؟

۲۶- جلگه های ایران را نام ببرید. پهناورترین آن کدام است؟

۲۷- چه چیزهایی مهم ترین نقش را در تعیین آب و هوای یک منطقه دارند؟ .....

۲۸- برای اندازه گیری دمای هوا از چه چیزی استفاده می کنند؟ .....

۲۹- برای اندازه گیری مقدار ریزش باران از چه چیزی استفاده می کنند؟ .....

۳۰- معمولا در چه موقع از روز هوا گرم تر است؟ .....

۳۱- به چه دلیل می گوییم آب و هوای شهر یزد، جزء آب و هوای گرم و خشک است؟

۳۲- پرباران ترین ماه در یزد چه ماهی است؟

۳۳- واحد اندازه گیری میزان بارش چیست؟

۳۴- واحد اندازه گیری میزان گرمای هوا چیست؟

۳۵- گرم ترین و سرد ترین ماه در شهر یزد چه ماه هایی است؟

۳۶- در چه ماه هایی از سال در یزد معمولا باران نمی بارد؟

۱- بلند ترین قله ایران چه نام دارد؟

الف) سبلان      ب) دنا      ج) البرز      د) دماوند

۲- به بلند ترین نقطه کوه می گویند.

الف) کوهپایه      ب) دامنه کوه      ج) قله      د) رشته کوه

۳- به زمین های پای کوه می گویند.

الف) کوهپایه      ب) دامنه کوه      ج) قله      د) رشته کوه

۴- در نقشه، دریای خزر در کوهپایه های شمالی کدام رشته کوه قرار دارد.

الف) سهند      ب) زاگرس      ج) البرز      د) دماوند

-جملات صحیح و غلط را مشخص کنید.

ص	غ
<input type="radio"/>	<input type="radio"/>
<input type="radio"/>	<input type="radio"/>
<input type="radio"/>	<input type="radio"/>

۱-رنگ قهوه ای در نقشه جای دریا ها را نشان می دهد.

۲-سرزمین های پست کنار کوهها برای زندگی انسان مناسب است.

۳-شهر تهران در کوهپایه جنوبی رشته کوههای البرز قرار دارد

الف) با توجه به تصاویر استان های زیر، آب و هوای هر کدام را نام ببرید.



کردستان (.....)



یزد (.....)



مازندران (.....)

ب) با توجه به نقشه به سوالات زیر پاسخ دهید.

۱- نام جهتی است (.....).

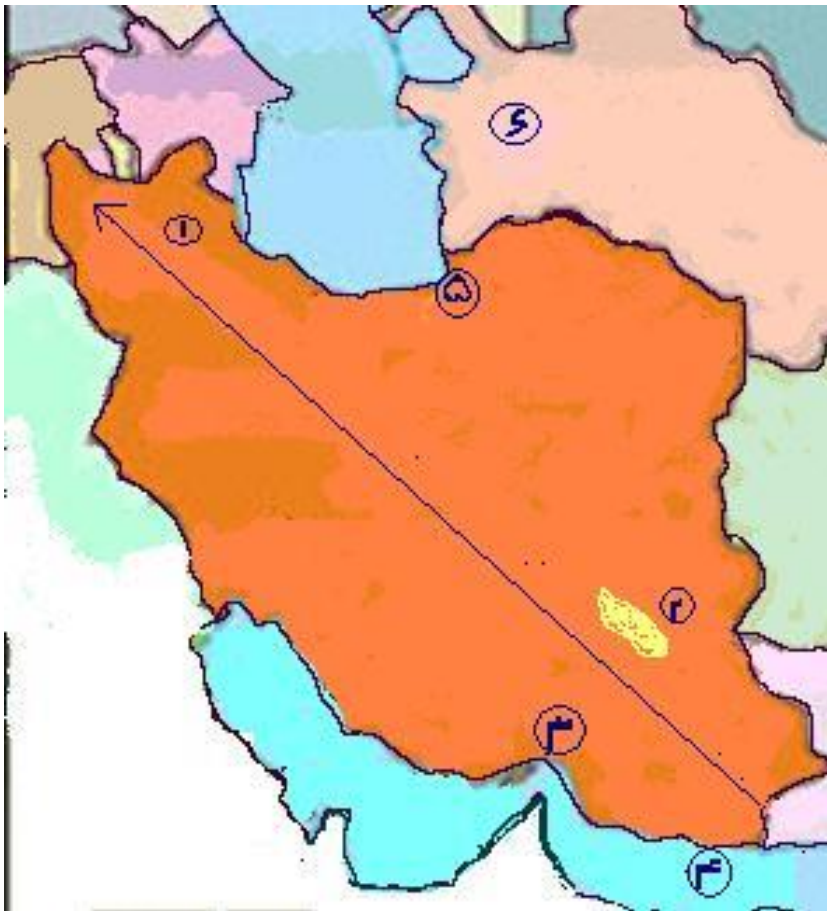
۲- نام کویری است (.....).

۳- تنگه ای مهم است (.....).

۴- نام دریایی است (.....).

۵- بندر مهم بازرگانی (.....).

۶- نام همسایه ایران است (.....).





ج) با توجه به تصویر قسمت های مختلف این کوه را بنویسید.

(.....).

(.....)

(.....)





د) راجع به این تصویر توضیح کامل دهید؟(.....)

ه) این وسیله چه نام دارد؟(.....)

-از آن چه استفاده هایی می کنند؟.....

-بالا ترین نقطه ی آن چه نام دارد؟(.....)



و)-موارد استفاده ی این دو وسیله را بنویسید.

.....

.....

ز)-این کودک در کدام آب و هوا زندگی می کند؟.....

-درایران کدام استان دارای این نوع آب و هوا است؟.....



ح)-این آقا پسر در کدام منطقه ی آب و هوایی استراحت می کند؟

-یک شهر یا استان که آب و هوای شبیه به این منطقه را داشته

باشد نام ببرید.....



فرزندان گلم برایتان تعطیلات خوبی را آرزومندم