

۱- اعداد زیر را بخوانید و بنویسید .

- شش میلیارد و پنجاه میلیون و پنج هزار و صدونود و چهار =

- صد و هشت میلیارد و پانزده میلیون و هفتاد و پنج =

$$۱۲۳۵۶۰۸۰۵۰۰۴ =$$

$$۷۸۹۷۱۲۰۵۱۸۰ =$$

۲- عدد های زیر را به رقم بنویسید .

- ۱۲ تا هزار تایی و ۵۴ تا صد هزار تایی می شود =

- ۵۰ تا یک میلیون تایی و ۶۰ تا صد هزار تایی می شود =

۳- اعداد زیر را به صورت مرکب بنویسید .

- ۴۹ ماه =

- ۶۴۲۵ گرم =

- ۴۸۰ روز =

۴- اعداد مرکب زیر را جمع و تفریق کنید .

$$\begin{array}{r} ۳ \quad ۴ \quad ۹ \\ - \quad ۱ \quad ۹ \quad ۱۵ \\ \hline \end{array}$$

$$\begin{array}{r} ۴ \quad ۲ \quad ۴۰ \\ + \quad ۲ \quad ۲۰ \quad ۳۷ \\ \hline \end{array}$$

تن	کیلوگرم	گرم
۵	۶۰۰	۸۷۰
+۳	۵۰۰	۴۸۰

$$\begin{array}{r} ۱۸ \quad ۸ \quad ۴۰ \\ - \quad ۱۱ \quad ۲۶ \quad ۱۶ \\ \hline \end{array}$$

$$\begin{array}{r} ۱۳ \quad ۱۹ \quad ۲۵ \\ + \quad ۷ \quad ۴۰ \quad ۳۵ \\ \hline \end{array}$$

۵- اعداد مرکب زیر را مقایسه کنید .

$$۶۳۵^{\circ} \square ۶۲۰^{\circ} ۵۴^{\circ}$$

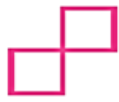
$$۱۰۰^{\circ} ۲۸^{\circ} \square ۹۶۰^{\circ} ۲۸^{\circ}$$

۶- خورشید در ساعت $۱۲^{\circ} ۴۵'$ غروب کرد ، اگر طول روز $۴۵^{\circ} ۵۶'$ باشد . خورشید در آن روز چه ساعتی طلوع کرده است ؟

۷- وزن امیر علی ۴۵ کیلو گرم و ۴۰۰ گرم است . وزن کیف او ۲ کیلو گرم ۲۰۰ گرم است . وزن امیر علی با کیف چند کیلو گرم و چند گرم است ؟

۸- تاریخ دقیق تولد خود را یادداشت کنید و حساب کنید تا دوم آبان ۱۳۹۴ چند سال و چند ماه و چند روز سن دارید ؟

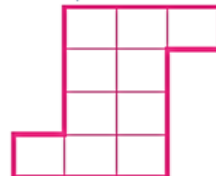
۹- با توجه به شکل الگوی های بعدی را رسم کنید .



شکل (۱)



شکل (۲)



شکل (۳)

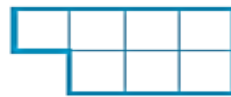
شکل (۴)



شکل (۱)



شکل (۲)



شکل (۳)

شکل (۴)

۱۰- عدد های بعدی الگو را بنویسید .

۱, ۳, ۶, ۱۰, ۱۵, , ,

۳۶, ۴۹, ۶۴, ۸۱, , ,