

۱. با رسم شکل حاصل جمع و تفریق را بدست آورید.

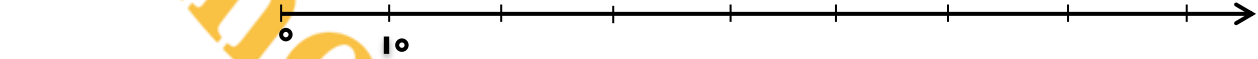
$$5 + 6 =$$

$$13 - 9 =$$

۲. روی محور جواب جمع و تفریق را نشان دهید و پاسخ را بنویسید.

$$80$$

$$- 30$$




$$60$$

$$+ 20$$



۳. شکل را با استفاده از مداد رنگی به دسته های ده تایی تبدیل کنید و تعداد شکل را بنویسید.



۴. رضا ۱۵ ساله است. خواهرش سارا ۷ سال از او بزرگتر است. سارا چند سال دارد؟

سارا ساله است.

۵. حاصل جمع و تفریق را به دست آورید.

$$10$$

$$+ 30$$

$$50$$

$$+ 20$$

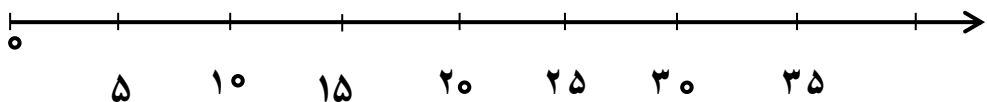
$$90$$

$$- 50$$

$$70$$

$$- 60$$

۶. عددهای ۱۶ و ۳۴ را روی محور نشان دهید.



۷. الگوی عددی را ادامه دهید.

۸۳ - ۸۴ - ۸۵ - - - - -

۲ - ۴ - ۶ - ۸ - - - - -

۸. در یک اتوبوس ۴۰ مسافر نشسته بودند. در ایستگاه ۱۰ مسافر پیاده شدند. چند مسافر در اتوبوس باقی ماندند؟


..... مسافر در اتوبوس ماندند.

۹. به طور منظم مانند نمونه جمع هایی را بنویسید که حاصل آنها ۸ بشود. $0 + 8 = 8$

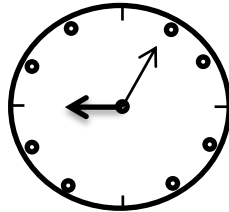
----- + ----- = ----- + ----- = ----- + ----- =
----- + ----- = ----- + ----- = ----- + ----- =

۱۰. ۲ دسته ده تایی به اضافه ۴ دسته ده تایی می شود
۶ دسته ده تایی منهای دسته ده تایی می شود ۳ دسته ده تایی

۱۱. ساعت از چند گذشته است؟



.....



.....

۱۲. با رقم های ۵ و ۴ هر چند تا عدد ۲ رقمی که می توانید، بنویسید.

.....

۱۳. در کدام عدد رقم دهگان ۳ تا بیشتر از رقم یکان است؟

۳۱ (۳)

۹۶ (۲)

۶۹ (۱)

نیاز به تلاش بیشتر

قابل قبول

خوب

خیلی خوب