



به نام خدا

تکلیف ترمیمی ریاضی پنجم ، تا پایان صفحه ی ۱۰

تاریخ اجرا:

نام معلم :

نام و نام خانوادگی :


۱ با رقم و حروف بنویسید .

۳۰۰۰۰۲۳	
	پنج میلیارد و هفت میلیون و دوازده هزار و ده

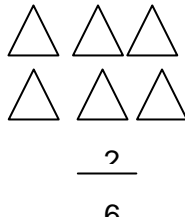
۲ حاصل ضرب های زیر را به دست آورید .

$$\begin{array}{r} \times 72 \\ \hline 54 \end{array}$$
$$\begin{array}{r} \times 208 \\ \hline 93 \end{array}$$

۳ با توجه به اندازه ی داده شده رنگ آمیزی کنید .


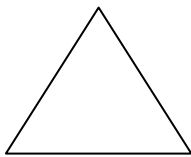


$\frac{1}{2}$



$\frac{2}{6}$

۴ هر یک از شکل های زیر را به سه قسمت مساوی تقسیم کنید .



۵ مناسب ترین گزینه را از داخل کمانک انتخاب کرده و در جای خالی قرار دهید .

( ربع ، خمس ، ثلث ، نصف )

محمد حسین پول تو جیبی خود را به این صورت خرج کرد . یک پنجم پول جیبی خود را کتاب یعنی ----- و یک دوم را صرف لوازم التحریر یعنی ----- خریده است .

۶ ثلث ۲۷ بیشتر است یا خمس ۲۵ ؟ ( با راه حل )

۷ جاهای خالی را پر کنید .

۲ تا  $\frac{1}{6}$  می شود : -----  
----- تا ----- یعنی  $\frac{4}{5}$

	$\frac{0}{0} \square \frac{1}{1}$	$\frac{3}{5} \square \frac{8}{5}$	مقایسه کنید . ربع ۲۰ تا $\square$ تا ۳۵	۸
	$\frac{4}{8} + \frac{2}{8} =$		پاسخ جمع و تفریق های زیر را بنویسید . $\frac{9}{6} - \frac{3}{6} =$	۹
	$\square \square \square \square$	$\square \square \square \square$ و $\square \square$	با توجه به شکل جمع یا تفریق مناسب را بنویس .	۱۰

موفقیت شما آرزوی من است انکیوبی