












تعداد جانوران را مانند نمونه با چوب خط و عدد نشان بده. (هدف ارزشیابی از مفاهیم عدد نویسی) **فعالیت ریاضی**




								
### //								
۷	_____	_____	_____	_____	_____	_____	_____	_____

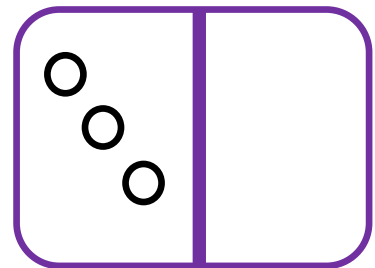
در طرف راست هر قسمت آن قدر شکل بکش تا دو طرف با هم برابر شوند سپس عدد هر دسته را بنویس و بخوان .



\_\_\_\_\_ = \_\_\_\_\_





\_\_\_\_\_ = \_\_\_\_\_





\_\_\_\_\_ = \_\_\_\_\_

عدد هر دسته را بنویس و از علامت کمتر، بیشتر به طور مناسب استفاده کن.


فعالیت ریاضی















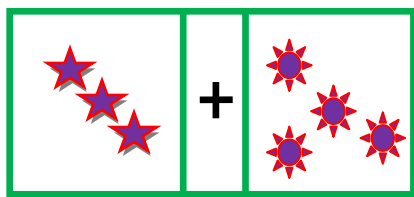




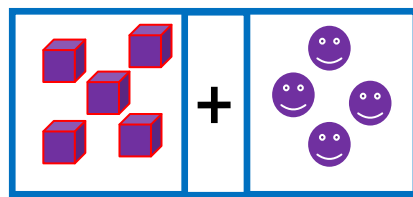

مربع شگفت انگیز را کامل کن.

۶	۷	۹	۲	۴	۵	۸	۳	
۳	۵	۸	۱		۶		۲	۴
۴	۲	۱	۸	۹	۳	۷	۶	
۷	۳	۶	۹	۵	۱	۲	۴	۸
۵	۱	۴	۷	۲		۶		۳
۹	۸		۶	۳	۴	۱	۵	
۲	۶	۳	۴	۸	۷	۵	۱	۹
۱		۷	۵	۶	۹	۳	۸	۲
	۹	۵	۳		۲	۴	۷	۶

عدد هر دسته را بنویس با چوب خط حساب کن و حاصل را بنویس.



+  =



+  =

میزان رضایت شما از فعالیت فرزندان : عالی: [ ] بسیارخوب: [ ] خوب: [ ] متوسط: [ ] ضعیف: [ ]