



## کار برگ ریاضی تم ۲۳


به نام خدا

پایه اول ابتدایی


نام و نام خانوادگی:




در جاهای خالی عدد مناسب بنویس.



.....



.....



.....

جاهای خالی را با عدد مناسب کامل کن.



$$۲۰ + ۵ + ۱۰ + ۵ = \dots\dots\dots$$

$$۵ + ۱۰ + ۲۰ + ۲۰ = \dots\dots\dots$$

$$۲۰ + ۱۰ - ۵ = \dots\dots\dots$$

به صورت عددی بنویس.



..... چهل و پنج

..... پانزده

..... پنجاه و هفت

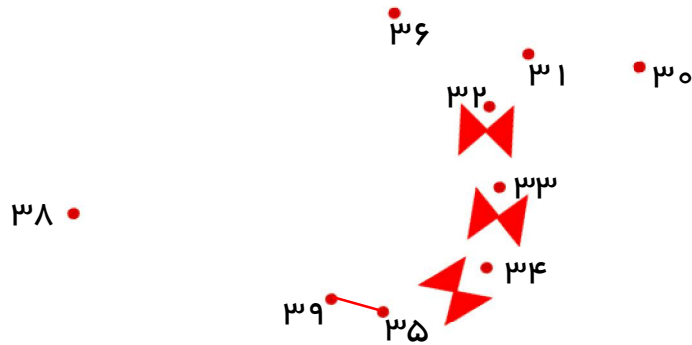
..... هیجده

..... شصت و سه

عدد ها را به ترتیب وصل کن.



۳۷ •



جواب ها را بنویس و با هم مقایسه کن.

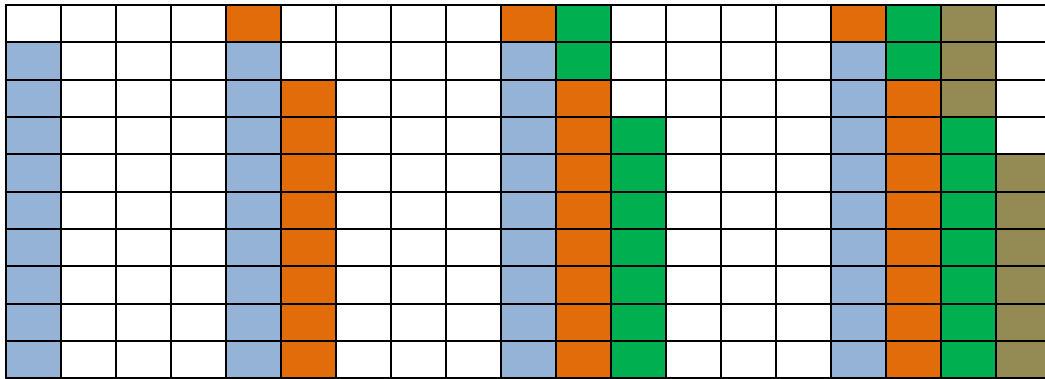


$40 + 20 = \dots\dots\dots$

< = >

$30 + 15 = \dots\dots\dots$

جاهای خالی را کامل کن.



مسئله را با هر روشی که می خواهی، حل کن.



رضا ۱۵ شکلات و محمد ۷ شکلات دارد. آن ها روی هم چند شکلات دارند؟

..... شکلات دارند.

خسته نباشی.



باز خورد معلم: