

بیک تابستانه شماره ۲

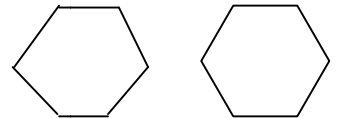


۱- جدول زیر را کامل کن .

شکل	نام شکل	تعداد ضلع	تعداد گوشه
	متوازی الاضلاع		
	مستطیل		
	بیضی		

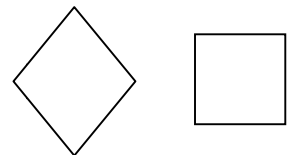
۲- تفاوت و شباهت هر دو شکل زیر را با هم بنویس .

تفاوت :



شباهت :

تفاوت :

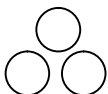


شباهت :

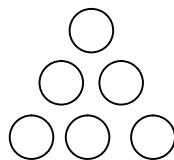
۳- اگر کشیدن شکل‌ها را به ترتیب زیر ادامه دهیم ، شکل پنجم چند دایره خواهد داشت .



(شکل ۱)



(شکل ۲)



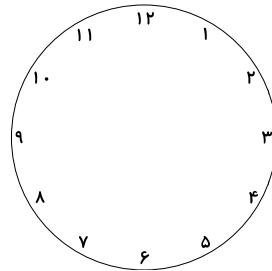
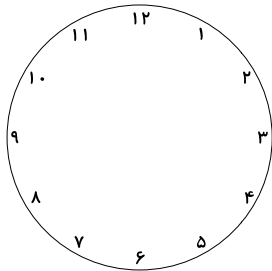
(شکل ۳)

(شکل ۴)

(شکل ۵)

بیک تابستانه شماره ۲

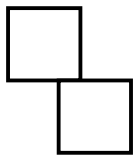
۴- به وسیله‌ی رنگ کردن روی ساعت‌های زیر نیم ساعت و یک ربع را نشان دهید .




۵- اکنون ساعت ۱۴ است . سه ساعت و نیم بعد ساعت چند است ؟

۶- اگر شما ساعت هشت و ربع به مدرسه بیایید و بعد از ۸ ساعت و نیم به خانه برگردید چه ساعتی مدرسه تمام می شود ؟

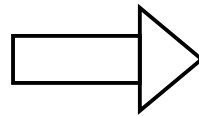
۷- برای شکل زیر با توجه به عدد نوشته شده خط تقارن رسم کن .



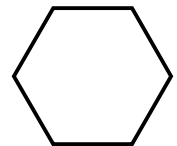
۲



۴

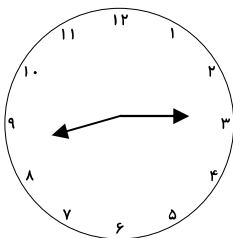


۱



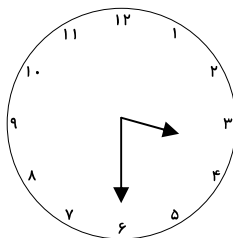
۸

۸- ساعت‌های زیر را به ۲ صورت بنویس .



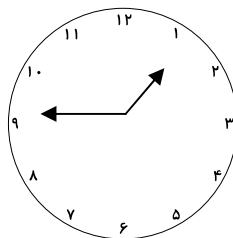
.....

.....



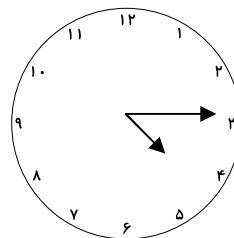
.....

.....



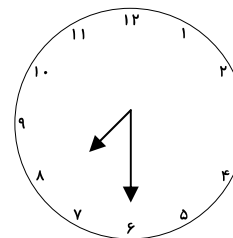
.....

.....



.....

.....



.....

.....

۹- اگر زهرا ۴ سکه‌ی صد ریالی به بانک بدهد چند سکه‌ی ۱۰ ریالی می‌گیرد ؟ چند سکه‌ی یک ریالی می‌گیرد ؟

پیک تابستانه شماره ۲

۱۰- علی می خواهد ۲۰ سکه ی یک ریالی خود را با سکه ی ۱۰ ریالی عوض کند . چند سکه می گیرد ؟

۱۱- در جای خالی عدد مناسب بنویس .

$۳۰ + \dots = ۱۰۰$

$۱۰۰ - ۲۰ = \dots$

$۴۰ + \dots = ۱۰۰$

$۱۰۰ - ۶۰ = \dots$

۱۲- برای عددهای زیر شکل رسم کن و آن را به حروف بنویس .

..... ۹۷۰

..... ۵۶۳

..... ۴۸۶

..... ۹۰۷

۱۳- از صد تا نه صد ، ۱۰۰ تا ۱۰۰ تا بنویس .

۱۴- پنج عدد بعدی را بنویس .

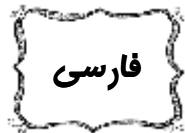
۷۰۶ - ۷۰۷ - ۷۰۸ - - - -

۴۹۶ - ۷۰۷ - ۷۰۸ - - - -

۱۵۲ - ۲۵۲ - ۳۵۲ - - - -

۵۹۴ - ۵۹۶ - ۵۹۸ - - - -

بیک تابستانه شماره ۲



۱- با استفاده از کلمه‌های زیر جمله‌ها را کامل کن .

« همکلاس - هم‌گروه - هم فکر - همکار - همسایه - هم سفر »

* رضا و محمد در یک کلاس درس می‌خوانند و هستند .

* ستاره با خواهرش بودند و با هم به شیراز رفتند .

* من و سامان در زنگ ریاضی بودیم و توانستیم یک الگو بسازیم .

* آقای فضلی و آقای سروش در یک بانک کار می‌کنند و با هم هستند .

* دیروز مهرداد در حیاط پسر را دید و از او یک کتاب داستان امانت گرفت .

۲- کامل کن .

خانه‌ای یعنی یک خانه
پرنده‌ای یعنی
گردویی یعنی
کوهی یعنی
یک لحظه یعنی
یک ستاره یعنی
یک نگاه یعنی
یک کلاه یعنی

۳- در جدول زیر کلمه‌هایی را بنویس که نشانه‌ی مورد نظر در آن باشد .

ظ	ذ	ض	ز

پیک تابستانه شماره ۲

۴- با هر کدام از کلمه‌های زیر یک جمله بنویس .

دقیقه :

هفته‌ای :

کلمه‌های :

انتخاب کردیم :

۵- با گذاشتن نقطه کلمه‌های جدید درست کن .

کک	کک	نار	نار	رس	رس
		ناره	ناره	حدا	حدا

۶- ۳ کلمه بنویس که در آن حرف (و) صدای آ بدهد . ۳ کلمه بنویس که در آن حرف (و) هیچ صدایی نداشته باشد .

۷- از درس‌های خرس کوچولو و مدرسه‌ی خرگوش‌ها ۶ خط دیکته بنویس .

.....

.....

.....

.....

.....

.....

پیک تابستانه شماره ۲



۱- مراحل تصفیه آب را توضیح دهید .

۲- چرا باید در مصرف آب صرفه جویی کنیم . ۲ مثال از صرفه جویی آب بزنید .

۳- روز و شب چگونه به وجود می آید ؟

۴- چند ساعت طول می کشد تا زمین یک دور کامل به دور خودش بچرخد ؟

۵- دمای محل سایه و محل آفتاب چه فرقی با یکدیگر دارد؟

۶- برای اندازه گیری دمای هوا از چه چیزی استفاده می کنیم ؟ طرز کار آن را شرح دهید .