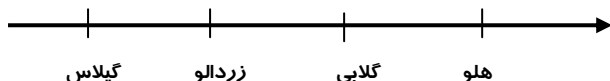


۱- مهدی درختان باغ پدر بزرگش را شمرد و تعداد آنها را در جدول زیر نوشت .
جدول را کامل کن برای هر ۱۰ درخت یک \triangle بکش .

نام درخت	گیلاس	زردآلو	گلابی	هلو
تعداد	۴۵	۳۷	۲۳	۵۲
تعداد تقریبی				



الف (باغ پدر بزرگ مهدی تقریباً چند درخت دارد ؟

ب (تعداد درختان هلو بیشتر است یا زردآلو ؟

چند تا بیشتر است ؟

۲) با کارتهای ۳ و ۶ و ۵ تمام اعداد ۳ رقمی را بنویس - حالا دور اعداد فرد خط بکش .

.....

۳) پریسا برای خرید به فروشگاه رفت او ۹۰۰ تومان پول داشت . یک کتاب ۴۶۵ تومانی و یک دفتر

۳۶۸ تومانی خرید . چند تومان باید به فروشنده بدهد ؟


- حالا حساب کن چند تومان برایش باقی می ماند ؟

۴) حسین ساعت ۱۰:۳۰ بعد از ظهر شروع به مطالعه کرد و یک ساعت و نیم بعد خوابش برد . او چه ساعتی

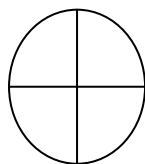
خوابیده است ؟ : یا دقیقه مانده به (روی ساعت روبرو نشان بده)

الف (اگر عقربه ی بزرگ یک ربع جلو برود ساعت می شود. (رنگ بزن)


ب (یک ربع چه کسری از صفحه ی ساعت است ؟



۵) کامل کن.



۳ قسمت از ۸ قسمت مساوی رنگ شده



.... قسمت از قسمت مساوی رنگ شده

۶) الگوها را کامل کن.


۲۶۵	۲۷۵	۲۸۵				
-----	-----	-----	--	--	--	--

۴۹۳	۴۹۶					
-----	-----	--	--	--	--	--

۱۲	۱۴	۱۸			
----	----	----	--	--	--

۷) برای عبارت سمت چپ شکل بکش و عبارت زیر

را با توجه به شکل کامل کن.



..... تا تایی می شود

۸ تا ۱ تایی می شود


۸) جمع و تفریق کن.

$$۵۸۰ - ۲۱۰ = \dots\dots\dots \quad ۱۶۰ + ۳۲۰ = \dots\dots\dots$$

$\begin{array}{r} ۴۱۰ \\ -۲۷۶ \\ \hline \dots\dots\dots \end{array}$	$\begin{array}{r} ۷۲۶ \\ -۱۸۱ \\ \hline \dots\dots\dots \end{array}$	$\begin{array}{r} ۳۵۹ \\ +۲۶۸ \\ \hline \dots\dots\dots \end{array}$
--	--	--

گل نازم از تلاشت

بسیار سپاسگزارم



انتظارات	فوب	فیلی	قابل قبول	نیاز به تلاش بیشتر
اطلاعات وارقام تقریبی را با نمودار تصویری نمایش می دهد.				
اعداد زوج و فرد را می شناسد.				
مساله را با هوصله حل می کند.				
ربع و نیم را می شناسد وساعت را صهیح می فواند.				
مفهوم کسر را درک کرده است.				
انواع الگوها را صهیح انجام می دهد.				
مفهوم ضرب را درک کرده وشکل می کشد.				
جمع وتفریق ها به روش تکنیکی را صهیح انجام می دهد.				