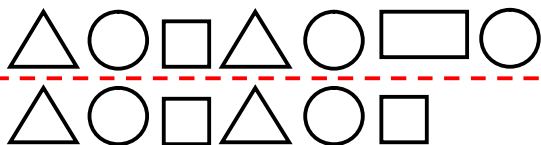




ردیف

سوالات

ردیفی که الگوی منظم دارد را انتخاب کن و آن را ادامه بده .



۱

در جاهای خالی عدد مناسب بنویس تا مربع شگفت انگیز کامل شود .

| | | | | | |
|---|---|---|---|---|---|
| ۵ | ۱ | | ۳ | ۲ | ۶ |
| ۶ | ۳ | | | ۴ | ۵ |
| ۴ | | ۳ | ۵ | ۱ | |
| ۱ | | ۵ | ۴ | ۶ | ۳ |
| ۲ | ۵ | ۱ | ۶ | | ۴ |
| ۳ | ۴ | | ۲ | ۵ | ۱ |




۲

عددهای نوشته شده در جدول رابه شکلی که خواسته شده (رقم و حروف) بنویس و جدول را کامل کن.

| | | | |
|----|----------|----|----------|
| ۱۸ | | ۹۲ | |
| | شصت و شش | | چهل و نه |

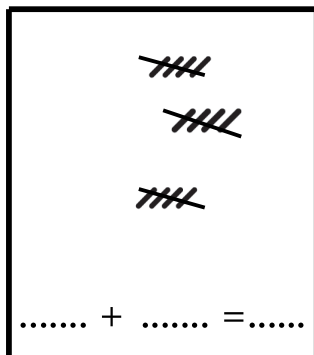
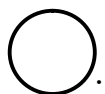
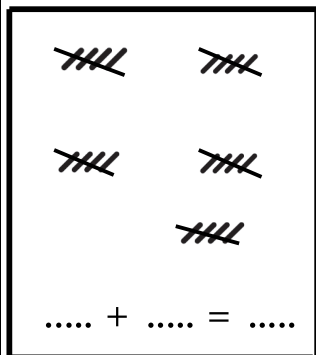
۳

نیمه ی دیگر شکل را کامل کن .

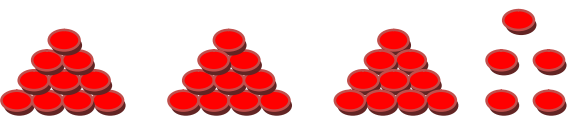

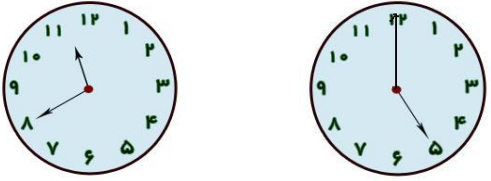
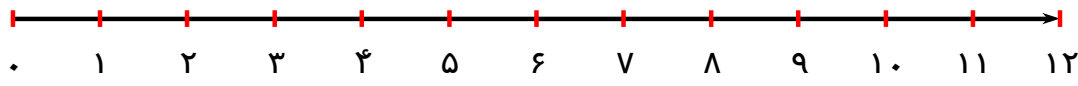


۴

جمع کن و در جاهای خالی عدد و علامت < = > مناسب بگذار.



۵

| | | |
|--|--|----|
| | <p>الگورا پیداکن و گام های بعدی الگورا ادامه بده</p> <p>۵۵ - - - ۲۵ - ۳۰ - ۳۵ -</p> <p>۶۶ - ۶۴ ۶۲ - - -</p> | ۶ |
| | <p>باتوجه به شکل در جاهای خالی عددی عبارت مناسب بنویس</p> <p>با عدد : با حروف :</p> <p>یکی ده تایی</p>  | ۷ |
| | <p>نام هر یک از شکل هارا بنویس</p>  <p>.....</p> | ۸ |
| | <p>زمانی که هر یک از ساعت هانشان میدهد را بنویس.</p>  <p>ساعت است کمی به ساعت مانده است</p> | ۹ |
| | <p>مهرشاد ۹ بسته ی ده تایی مداد خرید ، مهرشاز چند عدد مداد خریده است ؟</p> | ۱۰ |
| | <p>نگین ۱۱ شاخه گل به کلاس آورد و ۵ شاخه راروی میز آموزگار گذاشت ، با کمک محور نشان دهید که چند شاخه گل هنوز در دستش باقی مانده است ؟</p>  | ۱۱ |
| | <p>تعداد : با آرزوی موفقیت برای شما دانش آموز سخت کوش</p> | |

نتیجه ی ارزشیابی : خیلی خوب خوب قابل قبول نیاز به تلاش بیشتر