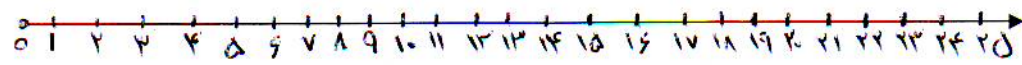


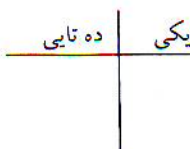
نام:	باسمه تعالی	آزمون: ریاضی
نام خانوادگی:	اردیبهشت ماه ۱۳۹۵	پایه: اول
	دبستان دخترانه الزهرا	طراح: فاطمه سادات شاهمرادیان


۱ جمع و تفریق های زیر را روی محور انجام بدهید.


$9+6=$  

$17-5=$  


۲ جاهای خالی را با عدد مناسب پر کنید.


به حروف: 

به رقم: 



۳ جواب جمع ها را با استفاده از چوب خط بنویس.

$5+2+7=$  

$4+9+2=$  

۴ علامت  $<=>$  بگذار

$11-5 \square 9+7$        $15 \square 10+10$

$5 \square 1+2$        $20+20+20 \square 60$

۵ با کشیدن شکل جواب بده. علی ۱۵ عدد تخم مرغ خرید ۵ تا ی آن را نیمرو کرد علی اکنون چند تخم مرغ سالم دارد؟

حروف یا رقم بنویس.

۶

۹۰

هفتادوسه

سی و چهار

۶۵

۹۹

با استفاده از چوب خط جواب بده.

۷

فاطمه هفته قبل ۱۴ صفحه از کتاب داستان را خوانده بود این هفته هم ۱۱ صفحه از آن خواند فاطمه چند صفحه از کتابش را خوانده؟

هر کدام که جوابش عدد بالای ستون می شود را رنگ بزن.

۸

۱۰

۵+۴

۳+۶

۲+۸

۳+۴

۹+۱

۸

۴+۴

۵+۲

۲+۶

۷+۲

۳+۵

موضوع	بازخورد	بلی	خیر
۱- عددها را به حروف و رقم نوشته است			
۲- مفهوم مسئله را درک می کند			
۳- مفهوم علامت های $\leftarrow$ را می داند.			
۴- مفهوم جمع را می داند.			

بازخورد دانش آموز:

بازخورد اولیاء: