


ارزشیابی پیشرفت تحصیلی - درس علوم
پایه ی اول ابتدایی - اردیبهشت ماه سال ۹۵
تاریخ:

مدیریت آموزش و پرورش
شهرستان:

به نام خدا
نام و نام خانوادگی دانش آموز:
.....
faridbagherzadeh.blogfa.com


۱- کدام یک از حیوانات زیر حس بینایی قوی دارد؟ علامت (x) بزن.




۲- کدام یک از حیوانات زیر حس بویایی قوی دارد؟ علامت (x) بزن.





۳- دایره ی مربوط به جانورانی که به ما آسیب می رساند را رنگ کن.



۴- دایره ی مربوط به حیواناتی که می خزند را رنگ کن.



۵- برای رشد و محکم شدن استخوان و دندان ها، کدام یک را هر روز باید استفاده کنیم؟ علامت (x) بزن.



۶- وجود کدام یک از موجودات زیر به خاک وابسته است؟ علامت (x) بزن.



۷- کدام یک از افراد زیر برای کار به خاک احتیاج دارد؟ علامت (x) بزن.



۸- کدام یک از وسایل زیر جذب آهن ربا می شوند؟ علامت (x) بزن.



۹- وسایل حمل و نقل از گذشته تا امروز چگونه بوده اند به ترتیب شماره گذاری کن.



۱۰- وسایل روشنایی زیر را به ترتیب ساخته شدن آن ها را شماره گذاری کن.

