

دبستان شهید مؤذنی

به نام خالق بی همتا

سال تحصیلی ۹۵-۹۴


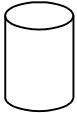


نام و نام خانوادگی: آزمون مدادی کاغذی ریاضی اردیبهشت پایه ی سوم

هدف: شناخت اشکال هندسی، انجام صحیح تقسیم با باقی مانده، تشخیص زاویه راست، رسم صحیح نمودار دایره ای و ستونی

فرزندم! جملات صحیح را با «ص» و جملات غلط را با «غ» مشخص کن.

- احتمال این که بعد از پرتاب تاس عدد ۴ رو باشد $\frac{1}{4}$ است.
- اگر دو قطر یک دایره را رسم کنیم ۶ پاره خط درست می شود.
- به اندازه ی سطح هر شکل محیط می گویند.
- ۵ س و $\frac{7}{1}$ س همان ۵۷ میلی متر است.

۲- هر کسر ستون " الف " را به کسر مساوی خودش در ستون " ب " وصل کن .

" ب "	" الف "
	مربع
	مثلث
	استوانه
	مکعب

۳- در هر سوال گزینه ی صحیح را انتخاب کن .

❖ طول و عرض یک اتاق به ترتیب ۹ و ۸ متر است . می خواهیم آن را با موکتی به طول ۹ متر و عرض ۷ متر پوشانیم.

چند متر مربع از اتاق خالی می ماند ؟

الف) ۷۲ متر مربع ب) ۶۳ متر مربع ج) ۸ متر مربع د) ۹ متر مربع

❖ اگر مرا در ۵ ضرب کنی و بعد با ۸ جمع کنی عدد هشت می شوم . من چه عددی هستم ؟

الف) ۱ ب) ۱۰ ج) ۰ د) ۸

❖ عددی را دو برابر کردیم سپس حاصل را با ۱۵ جمع کردیم جواب ۵۵ شد. آن عدد کدام است؟

(د) ۱۰

(ج) ۵۰

(ب) ۲۰

(الف) ۱۵

❖ خارج قسمت و باقی مانده ی کدام تقسیم به ترتیب ۹ و ۶ می باشد؟

$$\begin{array}{r} 8 \\ 78 \overline{) 78} \\ \underline{78} \\ 0 \end{array}$$

(د)

$$\begin{array}{r} 8 \\ 75 \overline{) 75} \\ \underline{75} \\ 0 \end{array}$$

(ج)

$$\begin{array}{r} 9 \\ 75 \overline{) 75} \\ \underline{75} \\ 0 \end{array}$$

(ب)

$$\begin{array}{r} 8 \\ 72 \overline{) 72} \\ \underline{72} \\ 0 \end{array}$$

(الف)

❖ کدام دسته از شکل های زیر زاویه ی راست دارند؟

(ب) مربع - لوزی

(الف) مثلث متساوی الاضلاع - دایره

(د) مثلث متساوی الاساقین - مربع

(ج) مستطیل - مربع

❖ محیط یک مربع به ضلع ۶ متر با محیط یک مستطیل به عرض ۴ متر برابر است. طول این مستطیل چند متر است؟

(د) ۱۶ متر

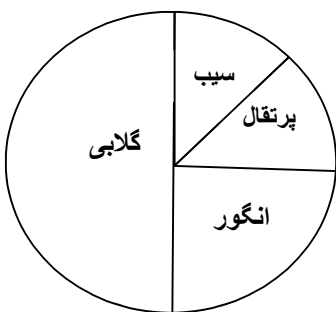
(ج) ۱۲ متر

(ب) ۸ متر

(الف) ۴ متر

۴- بلندی یک ساختمان ۹ متر و ۵۴ سانتی متر و ۷ میلی متر است. بلندی این ساختمان چند میلی متر است؟

۵- نمودار دایره ای درخت های موجود در یک باغ به شرح زیر است. با توجه به نمودار دایره ای نمودار ستونی آن را رسم کنید. تعداد کل درخت ها ۷۲ است.



نیاز به تلاش	قابل قبول	خوب	خیلی خوب	
				اشکال هندسی را به درستی تشخیص می دهد
				تقسیم با باقی مانده را به درستی انجام می دهد.
				نمودار دایره ای و ستونی را به درستی رسم می کند.
				زاویه درست را در اشکال هندسی به درستی تشخیص می دهد

❖ خود سنجی

- من یاد گرفته ام.....
 - اما یاد نگرفته ام.....
 - آنچه باید انجام دهم تا بهتر یاد بگیرم.....
 - من از درس یاد گرفتم.....
- ❖ بازخورد توصیفی آموزگار.....

از سخنان دکتر قره باغی

کار ، عمل و تجربه کردن کودک را به کمال می رساند.