



بسمه تعالی

نام و نام خانوادگی :

پایه دوم

دبستان پسرانه غیر دولتی معرفت هستی

پیک آدینه شماره ۲۰

تاریخ: ۹۵/۰۱/۱۸

۱) کتاب احمد ۸۲۵ صفحه دارد. احمد هفته اول ۱۴۸ صفحه و هفته دوم ۱۲۵ صفحه از کتاب را خواند. او چند صفحه از کتابش را خوانده و چند صفحه را نخوانده؟

۲) حاصل جمع و تفریق های زیر را از راه جدول ارزش مکانی به دست بیاور .

۲۴۷

+ ۱۲۹

۳۰۶

- ۱۲۵

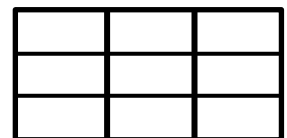

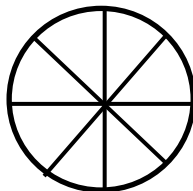

۴۸۴

+ ۲۲۵

۷۶۴

- ۲۸۹

۳) کدام یک از شکل های زیر قسمت های نامساوی را نشان می دهد؟ (رنگ کن)





نام و نام خانوادگی :

بسمه تعالی

پایه دوم

پیک آدینه شماره ۲۰

تاریخ: ۹۵/۰۱/۱۸

دبستان پسرانه غیر دولتی معرفت هستی

۴) عبارت های زیر را با رسم شکل نشان بده .

۲ قسمت از ۸ قسمت مساوی

.....

.....

۵ قسمت از ۱۰ قسمت مساوی

.....

.....

۲ قسمت از ۵ قسمت مساوی

.....

.....

۳ قسمت از ۴ قسمت مساوی

.....

.....

۷ قسمت از ۱۰ قسمت مساوی

.....

.....

۴ قسمت از ۶ قسمت مساوی

.....

.....

۵) قد رضا ۱۸۵ سانتی متر است که از قد علی ۱۹ سانتی متر بلند تر است . قد علی چند سانتی متر است ؟

.....

.....

۶) حاصل جمع هر عبارت را بنویس .

$$۳۰۰ + ۱۰۰ + ۴۰ + ۱۰ + ۶ + ۱ =$$

$$۸۰۰ + ۴۰ + ۷ =$$

$$۲۰۰ + ۷ =$$