



دبستان دخترانه غیر دولتی هستی

بِسْمِ تَعَالَى

تکلیف آدینه

شماره ۲۳

تاریخ: ۹۵/۰۱/۱۹

پایه: اول

نام و نام خانوادگی:

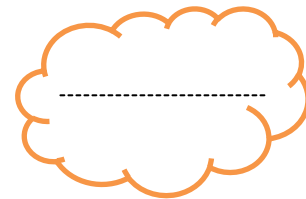
فارسی

۱ بخش های هر کلمه را در جدول پیدا کرده و رنگ کن سپس با بخش های باقی مانده کلمه ی جدید بساز.

مَ	زار	صوص	اح	ضا
صَد	زیز	مه	ر	ژه
تا	لی	حو	نید	مَخ
عَ	له	ساس	شا	بی

منیژه-مخصوص-رضا-احساس-

عزیز-حوصله-شالیزار



کلمه جدید:

۲ نشانه ی جا افتاده را بنویس.

شرو.....

.....ربه

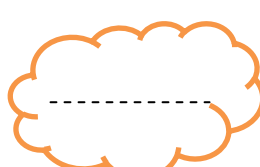
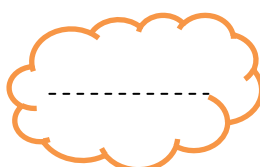
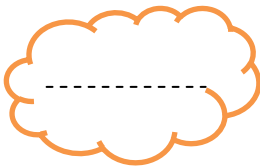
.....انیه

بع.....ی

م.....لم

۳- کلمه بساز.

پان - ژا - خوا - له - چو - هش



۴- با توجه به درس ها، جاهای خالی را کامل کن.

حلزون خیلی آرام می کند.

من در مسجد، کنار وضو گرفتم.

مدیر، روزهای انقلاب را تعریف کرد.

۵- با این ۲ کلمه زیباترین جمله را بساز.

معلم - عزیز -
.....

ریاضی


۱- با رقم یا حروف بنویس.

هفده		سی و هشت		پنجاه و شش	
	۱۲		۴۹		۹۰

۲- اعداد را با رسم چوب خط جمع کن (از ۳ رنگ مختلف استفاده کن)

$$۵ + ۴ + ۶ = \bigcirc$$

۳- اعداد قبل و بعد عدد را بنویس.



۴- کامل کن.

۷۹ یعنی بسته ی ده تایی و یکی

۳۶ یعنی بسته ی ده تایی و یکی

۴ بسته ده تایی و ۵ یکی می شود

۹ بسته ده تایی می شود

۱۰ بسته ده تایی می شود

۵- شکل را کامل کن و در جای خالی عدد مناسب بنویس.



$$۸ + \dots = ۱۶$$

۶- فرزانه ۱۵ سال دارد. برادرش محمد ۵ سال از او کوچکتر است. ستاره خواهر آن هاست و سال

دیگر ۸ ساله می شود ، مهدی ۲ ساله است.

الف) محمد چند سال دارد؟

ب) ستاره امسال چند سال دارد؟

ج) محمد چند سال از مهدی بزرگتر است؟

۷- در مزرعه ۲ خروس و ۴ گاو هستند. اگر بخواهیم پاهای آن ها را بشماریم کلاً چند پا وجود دارد؟

علوم

۱- در زمان قدیم آدم ها برای روشن شدن خانه ی خود در شب آتش روشن می کردند به نظر شما

آنان با چه مشکلاتی رو به رو می شدند؟

۲- در حال حاضر با پیشرفت دانش و فناوری ، شما از چه وسایلی برای روشنایی استفاده می کنید؟

۳- اگر برق خانه ی شما قطع شود ، از چه وسیله روشنایی استفاده می کنید؟