



دبستان دخترانه غیردولتی هستی

نام و نام خانوادگی:

بسمه تعالی

تکلیف آدینه

شماره ۲۳

تاریخ: ۹۵/۰۱/۱۹

پایه: دوم

۱- در مربع عدد مناسب بنویسید.

۴۰ میلی متر = سانتی متر

سانتی متر = ۹۰ میلی متر

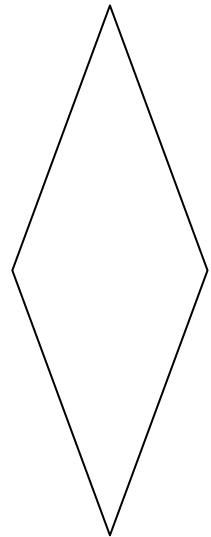

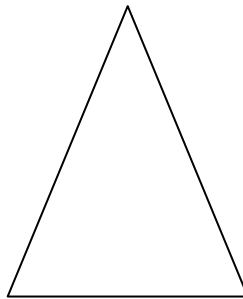

میلی متر = ۳ سانتی متر و ۴۹ میلی متر

سانتی متر و میلی متر = ۶۳ میلی متر

۴ سانتی متر و ۶ میلی متر = میلی متر

سانتی متر = ۸۰ میلی متر

۲- بطور دقیق اضلاع شکل های زیر را اندازه بگیرید.



۳- مقایسه کنید.

۴ سانتی متر و ۸ میلی متر ۴۸ میلی متر

۶۴ سانتی متر ۶ متر

۷ سانتی متر و ۹ میلی متر ۷۹ سانتی متر

۴ با حدس زدن و آزمایش کردن در جای خالی عدد مناسب قرار دهید؟

$$\triangle - ۳۲ = ۴۶$$

$$\bigcirc + ۲۷ = ۵۳$$

۵ شش نفر ماشین یا دوچرخه سوار شده اند. روی هم ۱۶ چرخ دیده می شود. در آنجا چند ماشین و چند دوچرخه وجود دارد؟

۶ در یک مزرعه ۶ گوسفند و مرغ هستند آن ها روی هم ۱۶ پا دارند. چند گوسفند، چند تا مرغ هستند؟

۷ در یک پارکینگ ۸ دوچرخه و سه چرخه وجود دارد. آن ها روی هم ۲۱ چرخ دارند. چندتا دوچرخه ، چند تا سه چرخه هستند؟

۸ در یک پارکینگ ۹ ماشین سواری و موتور سیکلت پارک شده است. تعداد چرخ های آن ها ۲۸ تا است. چند ماشین سواری وجود دارد؟

۹ - هنگامی که ویانا متولد شد، پدرش ۲۱ ساله بود. اگر اکنون مجموع سن ویانا و پدرش ۳۵ سال باشد، در حال حاضر ویانا چند سال دارد؟ (حدس و آزمایش)

۱۰- امتحان وحید در ساعت ۱۰:۰۵ دقیقه شروع شده است. اگر مدت امتحان نیم ساعت باشد، اکنون عقربه ی بزرگ روی عدد ۴ باشد. وحید چه قدر تا پایان امتحان زمان دارد؟ (با رسم ساعت)

۱۱- در مربع عدد مناسب بنویسید. ابتدا جواب را حدس بزنید. امتحان کنید و با تکرار این برنامه به جواب برسید؟

$$۷۲ + \square = ۸۶$$

$$\square + ۶۷ = ۹۲$$

$$۵۷ - \square = ۳۲$$

$$۶۸ - \square = ۲۸$$

$$\square - ۳۰ = ۶۰$$

$$\square - ۴۳ = ۲۵$$

واژه سازی


۱- اگر حرف "ی" به آخر اسم شهر یا کشور اضافه شود، چه معنی را می دهد؟ مثال خود را در

جدول زیر بنویسید؟

معنی	+	کلمه

۲ اگر حرف "ی" به آخر اسم جنس اضافه شود. چه معنی را می دهد؟ مثال خود را در جدول بنویسید.

معنی	ی +	کلمه



۳ با کلمه های مناسب کامل کنید.

شیر است.

فیل از شیر است.

فیل حیوان جنگل است.

۴ مخالف کلمه های زیر را بنویسید.

- | | | |
|--------------------|------------------|--------------|
| سال گذشته \neq | بزرگ \neq | دیدیم \neq |
| نزدیکی \neq | با ارزش \neq | رفت \neq |
| جمعیت زیادی \neq | خداحافظی \neq | دور \neq |
| شهر قدیمی \neq | زحمت کشید \neq | |

۵ کلمه های هم آهنگ بنویسید.

- | | | |
|----------------|--------|------|
| حرف ← | لباس ← | پل ← |
| سال رله ساخت ← | ← | ← |

۶ جمله ها را با یکی از کلمه های داخل کمانک کامل کنید.

الف دانش آموزان (هر هفته،هرماه) پنج روز به مدرسه می روند .

ب) ایرانیان (هر ماه ، هر سال) چهار فصل دارند.


۷ به کلمه هایی که از نظر شکل و تلفظ شبیه به هم هستند، اما معنا متفاوت دارند را واژه های

..... می گویند.

حالا با مثال خود جدول را کامل کنید.

معنی	جمله	کلمه

۸ با توجه به تصویر کامل کنید.



این گلدان یعنی گلدانی که است.

آن گلدان یعنی گلدانی که است.

..... همین گلدان یعنی

..... همان گلدان یعنی

۹ داستان زیر را در سه خط ادامه دهید.

روز جمعه زهرا و خانواده اش به پارک جنگلی رفتند . هنگام برگشتن، وسایل خود را جمع

کردند و تصمیم گرفتند زباله های خود را

.....

.....

.....

۱۰ - این جمله ها را کامل کنید.

ای کاش من

ای کاش دوستم

دلم می خواهد مادرم.....

دلم می خواهد آموزگارم



علوم

الف) به سوالات زیر پاسخ دهید.

۱) شرایط نگهداری آرد را بنویسید؟

۲) از ضایعات نان چه استفاده ای می شود؟

۳) مدت زمان پخت نان به چه عواملی بستگی دارد؟

۴) گندم های آرد شده را در چه جایی نگه داری می کنند؟

۵) آسیاب ها در گذشته با چه نیرویی کار می کردند؟

۶) ۲ مورد از ویژگی های نان سبوس دار را بنویسید؟

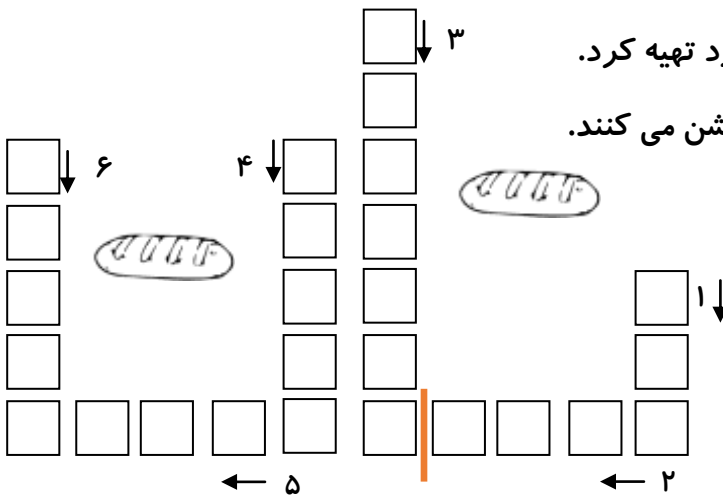
۷) برای خرید نان باید به چه نکاتی توجه کنیم؟

۸) مراحل تهیه نان را به ترتیب بنویسید؟

۹) نان را به چند روش می توان ننگه داری کرد؟

۱۰) تغییر و پیشرفت وسایل پخت نان چه تاثیری داشته است؟

۱۱) جدول را حل کنید.



۱ - گیاهی غیر از گندم که می توان از آن آرد تهیه کرد.

۲ - جایی که در آن برای پخت نان آتش روشن می کنند.

۳ - مکانی که در آن نان می پزند.

۴ - وسیله ای که با آن گندم آرد می کنند.

۵ - از نان های سنتی می باشد.

۶ - از مخلوط آب و آرد به دست می آید.