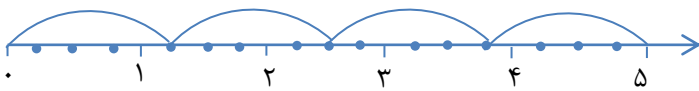
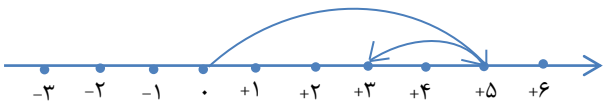
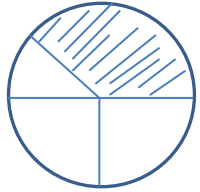




« به جز کشته خویش ندروی »

بارم	شرح سوالات	ردیف
۰/۲۵	الف) صحیح و یا غلط بودن جملات زیر را با علامت (x) در داخل <input type="checkbox"/> مشخص کنید. نسبت ضلع مربع به محیط آن همواره عددی ثابت می باشد. <input type="checkbox"/> ص <input type="checkbox"/> غ <input type="checkbox"/>	۱
۰/۲۵	همه ی اعداد صحیح منفی از صفر بزرگ ترند. <input type="checkbox"/> ص <input type="checkbox"/> غ <input type="checkbox"/>	۲
۰/۵	ب) گزینه های صحیح را با علامت (x) در داخل <input type="checkbox"/> مشخص نمایید. کدام عبارت زیر مربوط به محور روبه رو می باشد؟ 	۳
۰/۵	الف) <input type="checkbox"/> 5×1 ب) <input type="checkbox"/> $5 \div 1/25$ ج) <input type="checkbox"/> $5 \times \frac{4}{5}$ د) <input type="checkbox"/> $4 \times \frac{5}{4}$	۴
۰/۵	ساده ترین شکل کسر زیر کدام گزینه می باشد؟ $\frac{5 \times 6 \times 16}{20 \times 45}$	۴
۰/۵	الف) <input type="checkbox"/> $\frac{15}{8}$ ب) <input type="checkbox"/> $\frac{15}{18}$ ج) <input type="checkbox"/> $\frac{60}{24}$ د) <input type="checkbox"/> $\frac{8}{15}$	۵
۰/۵	جمع متناظر با محور زیر کدام گزینه می باشد؟ 	۵
۰/۵	الف) <input type="checkbox"/> $+2+5$ ب) <input type="checkbox"/> $-2+5$ ج) <input type="checkbox"/> $+5+(-2)$ د) <input type="checkbox"/> $-2+(-5)$	۶
۰/۵	چند تا $0/75$ می شود $6\frac{3}{4}$ ؟ الف) <input type="checkbox"/> ۸ ب) <input type="checkbox"/> ۹ ج) <input type="checkbox"/> $0/8$ د) <input type="checkbox"/> $\frac{9}{4}$	۶
۰/۵	کدام عدد اعشاری زیر، نشان دهنده ی قسمت رنگی شکل است؟ 	۷
۰/۳۷۵	الف) <input type="checkbox"/> $0/325$ ب) <input type="checkbox"/> $0/375$ ج) <input type="checkbox"/> $0/3$ د) <input type="checkbox"/> $0/03$	۷

جمع: ۳

نمره تجدید نظر کننده

جمع نمره

با عدد: با حروف:

با عدد: با حروف:

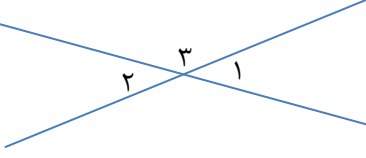

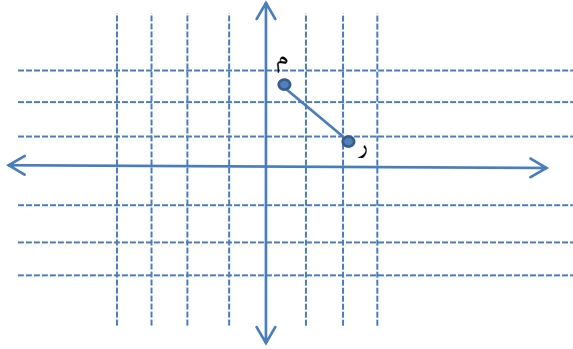
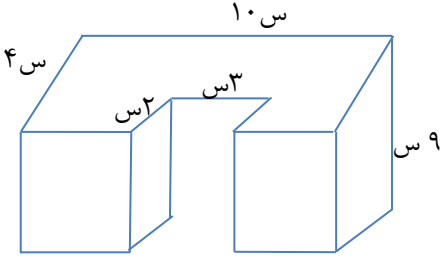
نام و نام خانوادگی آموزگار:

نام و نام خانوادگی آموزگار:

امضاء:

امضاء:

۰/۵	ج) در جاهای خالی عدد مناسب قرار دهید.	۸
۰/۵	قطع شده ی کسر $\frac{29}{8}$ با تقریب کم تر از $0/01$ برابر می باشد.	۹
۰/۵	باقی مانده ی تقسیم $4/823$ بر $0/3$ برابر می باشد.	۱۰
۰/۵	$3/2$ سانتی مترمربع برابر است با دسی مترمربع.	۱۱
۰/۵	اندازه ی یک زاویه ی 5 ضلعی منتظم درجه می باشد.	
۰/۷۵	د) هر یک از عبارتهای سمت راست را با کشیدن خط به واحدهای مناسب در سمت چپ وصل کنید.	۱۲
	<ul style="list-style-type: none"> ● حجم یک حبه قند ● مساحت یک فرش ● سانتی متر ● طول یک صفحه از کتاب ریاضی ● سانتی مترمکعب ● دسی مترمکعب ● مترمربع 	
۱/۵	حاصل عبارت های زیر را به دست آورید.	۱۳
	$5 - \frac{1}{1 - \frac{1}{5}} =$ $1 + 3 \times 5 \div (6 - 1) =$	
۱	هر یک از اعداد داده شده را روی محور زیر نشان دهید.	۱۴
	$0/6$ ، $2\frac{2}{3}$	
۱	چگونه می توانید با کمک خط کش و مداد ثابت کنید که نقطه ی « د » روی نیمساز زاویه ی « م » قرار دارد یا نه؟ (همراه با توضیح و رسم)	۱۵
۱	با استفاده از رقم های (۳ ، ۶ ، ۰ ، ۱ ، ۹) دو عدد بسازید که اگر با تقریب کم تر از 10 گردشان کنیم عدد 100 به دست آید.	۱۶
جمع :		
۷/۲۵		

۱	<p>در شکل مقابل: دو زاویه ی \hat{A} و \hat{B} متمم یکدیگرند. زاویه ی \hat{C} چند درجه می باشد؟</p> 	۱۷
۱/۵	<p>مختصات ۴ رأس مربعی که هر ضلع آن ۲ سانتی متر است را بنویسید و رسم کنید.</p>  <p>م () د () ر () ب ()</p>	۱۸
۰/۵	<p>قرینه ی پاره خط (م ر) را نسبت به مرکز مختصات رسم نمائید.</p> 	۱۹
۱	<p>حجم شکل روبه رو چند سانتی مترمکعب است؟</p> 	۲۰
۱	<p>هـ) مسائل زیر را حل نمائید.</p> <p>مدرسه ای ۳۶۰ تا شیر پاکتی دارد. اگر $\frac{2}{5}$ آن ها را بین دانش آموزان تقسیم کنیم و هر دانش آموز یک شیر بر دارد؛ ۱۲ پاکت شیر باقی می ماند. تعداد کل دانش آموزان چند نفر می باشد؟</p>	۲۱
جمع: ۵		

۱/۲۵	نسبت سن اکرم به مریم $\frac{2}{3}$ به ۴ و نسبت سن مریم به سارا $\frac{2}{5}$ به $\frac{1}{3}$ می باشد. اگر مجموع سن آن ها ۴۸ سال باشد، سن هر یک چه قدر است؟	۲۲
۱/۲۵	اگر ضلع مکعبی را ۵ برابر کنیم، مساحت دیواره های آن چند برابر می شود؟ (مساحت جانبی)	۲۳
۱/۲۵	قیمت یک کفش ۲۰۰۰۰ تومان می باشد. به این کفش ۴٪ مالیات (قبل تخفیف) تعلق می گیرد. فروشنده این کفش را با چند درصد تخفیف بفروشد تا بتواند ۱۶۶۴۰ تومان دریافت کند؟	۲۴
۱	محمد در یک روز تعطیل $\frac{2}{3}$ از $\frac{1}{3}$ یک کتاب ۶۰۰ صفحه ای را مطالعه کرده است. او چند صفحه از کتاب را مطالعه کرده است؟ (با رسم شکل)	۲۵

جمع: ۴/۷۵

نمره تجدید نظر کننده		جمع نمره	
با عدد:	با حروف:	با عدد:	با حروف:
نام و نام خانوادگی آموزگار:		نام و نام خانوادگی آموزگار:	
امضاء:		امضاء:	