
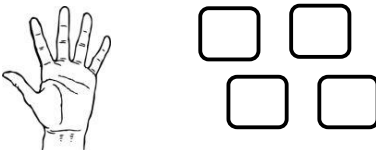


۱ - در هر قسمت ، به تعداد شکل های سمت راست از انگشتان ببند ؛ سپس تفریق را کامل کن .

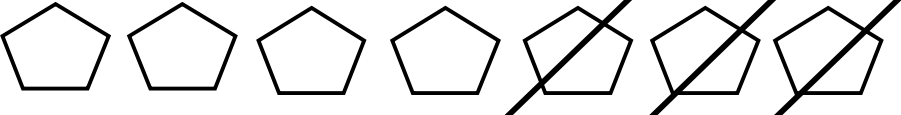


..... - =



..... - =

۲ - با توجه به شکل ، تفریق را بنویس .



..... - =

۱	۴	۶	۳	۲	۵
۲			۱	۴	۶
۶	۱				۴
۵	۳		۲	۶	۱
۳	۶		۴	۵	۲
۴	۲	۵	۶	۱	۳

	۵	۱	۶	۳	۴
۳	۴		۲		۱
۱	۲	۵	۴	۶	۳
۴	۶		۵	۱	۲
۵	۱		۳		۶
	۳	۲	۱	۴	۵

۳ - مربع های شگفت انگیز را کامل کن .


۴ - با ۳ رنگ چینه ها را رنگ کن و عبارت جمع آن را بنویس .

_____ + _____ + _____ = _____ .

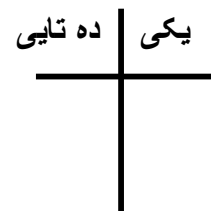

۵ - برای عبارت جمع ، شکل بکش و جواب را بنویس .

$$۲ + ۴ = \dots\dots$$

$$۶ + ۳ = \dots\dots$$



۶ - دسته ی ده تایی درست کن و در جای خالی عدد مناسب بنویس .



دسته ی ده تایی و _____

یکی _____

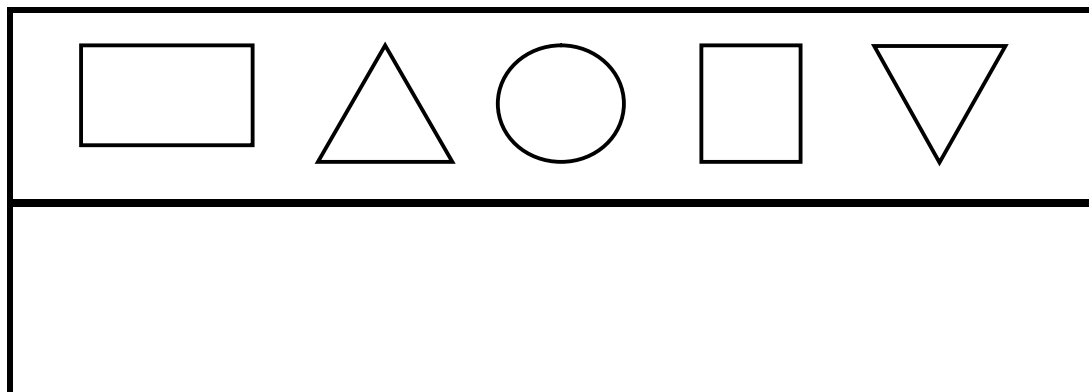
۷ - جدول را کامل کن .

۷	
۵	
۳	

۸	
۶	
۸	

۹	
۴	
۰	

۱۰	
۷	
۵	



۸ - نیمه ی پایین

را مانند نیمه ی

بالا کامل کن .

ضعیف

متوسط

خوب

بسیار خوب