

۱ - متن زیر را بخوان و در جاهای خالی علامت های نگارشی صحیح را قرار بده و به سوال ها پاسخ بده .

لقمان را گفتند ادب از که آموختی گفت از بی ادبان هرچه از ایشان در نظرم ناپسند آمد ، از انجام آن دوری کردم

*لقمان گفت ادب از چه کسانی آموخته است ؟

*لقمان از انجام چه کارهایی دوری کرده است ؟

۲ - به داستان کوتاه که از روزگار گذشته برجای مانده است و با پند و نصیحت همراه است

می گویم .

۳ - معنی کلمات زیر را بنویس .

امرا : سماط : پشته :

۴ - حروف به هم ریخته را با توجه به درس یار مهربان و نویسنده ی بزرگ مرتب کن .

ک - ی - ا - ش - ت : ا - ض - ر - ب - ن :

آ - ش - و - غ : د - س - و - د - م - ن :

ذ - ه - م - ب - ی : ط - م - ا - س :

ت - ه - م : ح - ث - ا - د - ی - ا :

۵ - جمله های ناقص زیر را کامل کن .

شاخ و برگ درختان را دلم برای دوستم

هیچ وقت معلم سال قبل را مادر جان از شما

۶ - کلمه ی مناسب را از داخل پراکنده انتخاب کن و در جای خالی بنویس .

روزی چند ساعت مطالعه برای همه است . (یک نواخت / سودمند)

من که شما هم دروغ گفتن را دوست ندارید . (دل تنگ / پی برده ام)

چرا با رفتار ناشایست دوستت را کردی ؟ (خسته / آزرده)

۷ - کدام یک بازتابش نامنظم دارد ؟

الف : کاغذ سفید ب : قاشق فلزی ج : آینه ی معمولی د : کاغذ آلومینیومی صاف

۸ - از آینه ی برآمده در چه جاهایی استفاده می شود ؟

۹ - در دندانپزشکی از چه آینه ای استفاده می شود؟

۱۰ - رود چگونه به وجود می آید ؟

۱۱ - جرم را تعریف کنید ؟

۱۲ - انجماد را تعریف کنید ؟

۱۳ - واحد اندازه گیری حجم مایعات است .

۱۴ - بخار یک است که اگر به اندازه ی کافی سرد شود به تبدیل می شود .

۱۵ - ذوب یعنی شدن .

۱۶ - تبدیل مایع به گاز را می گویند .

۱۷ - تبدیل گاز به مایع را می گویند

۱۸ - اقیانوس را تعریف کنید ؟

۱۹ - منبع نور را تعریف کنید ؟

۲۰ - پارسا ۵۰۰ تومان داشت . او ۷ مداد ۹ تومانی و یک خط کش ۲۴۵ تومانی خرید :

الف : پارسا چند تومان خرج کرده است ؟

ب : چند تومان برای او باقی مانده است ؟

۲۱ - نرگس ۳۶ شکلات را بین ۹ نفر تقسیم کرد . به هر نفر چند شکلات رسیده است ؟


۲۲ - برای ضرب های زیر دو تقسیم بنویس .

$$۴ \times ۶ =$$

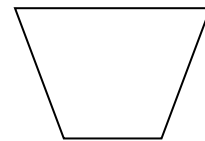
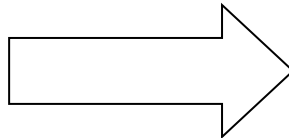

$$۶ \times ۸ =$$

۲۳ - تقسیم زیر را بر روی محور نشان بده .

$$۱۵ \div ۳ =$$



۲۴ - ضلع های موازی را با یک رنگ مشخص کن .



۲۵- آرزو در هر شبانه روز ۳ بار مسواک می زند . او در هفته ی گذشته به دلیل تمام شدن خمیردندان یک روز نتوانست مسواک بزند . آرزو هفته ی گذشته چندبار مسواک زده است ؟

حکایت:

قصر بی سقف

ثروتمند بخیلی به واعظی انگشتر بی نگین داد و به او التماس دعا گفت. واعظ هنگام دعا بر بالای منبر گفت: الهی! این شخص را که به من انگشتری داد، قصری به او بده که چهار دیوار داشته باشد و سقف نداشته باشد. وقتی واعظ از منبر پایین آمد، آن شخص گفت: من قصری را که سقف نداشته باشد، می خواهم چه کنم؟ واعظ گفت: هر وقت انگشتر من بانگین شد، چهار دیوار تو هم سقف دار خواهد شد.

پاسخ نامه

۱- : ؟ : ! . { از بی ادبان - از هر کاری که ناپسند بود }

۲- حکایت ۳ - فرمانروایان ، سفره ، توده

۴ - شکایت - ضربان - آغوش - سودمند - مذهبی - سماط - همت - احادیث

۶ - سودمند - پی برد ام - آزرده

۷ - الف ۸ - سر پیچ جاده ها - فروشگاه های بزرگ - پارکینگ های بزرگ

۹ - فرورفته

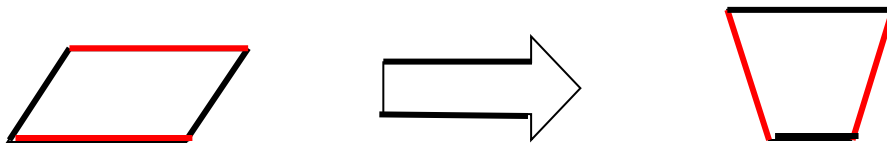
۱۰ - آبی که از باران یا ذوب شدن برف ها به وجود می آید در سرازیری ها به راه افتاده و جوی را تشکیل می دهند. از اتصال جوی ها به یکدیگر رود تشکیل می شود

۲۰ - الف : ابتدا ۷ ضربدر ۹ حاصل با ۲۴۵ جمع شود = ۳۰۸

ب : ۳۰۸ - ۲۴۵

۲۱ - ۳۶ تقسیم بر ۹ = ۴

۲۴ -



۲۵ - ۶ ضربدر ۳ = ۱۸