


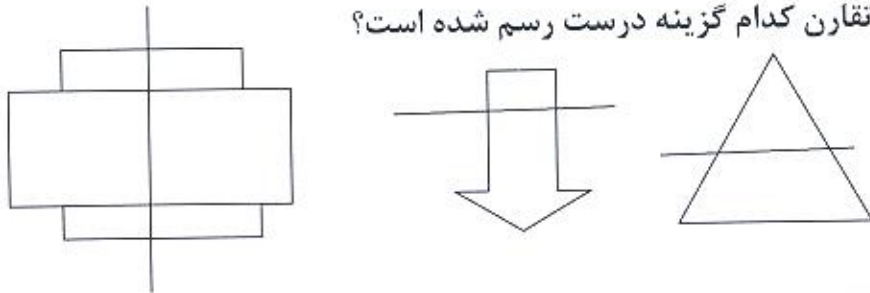
۱- به خطی که شکل را به دو قسمت مساوی تقسیم می کند می گویند.

۲- نام هر یک از شکل های زیر را بنویس سپس خط تقارن آن ها را رسم کن .

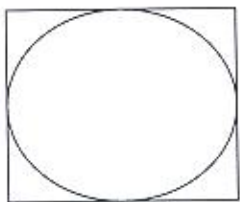


.....

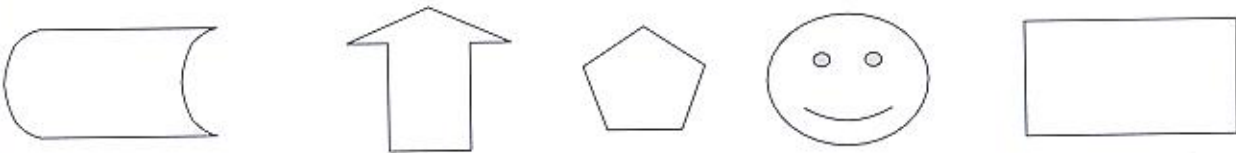
۳- خط تقارن کدام گزینه درست رسم شده است؟



۴- برای شکل روبه رو چند خط تقارن می توان کشید؟ آن ها را رسم کن .



۵- کدام یک از شکل های زیر یک خط تقارن و کدام یک دو خط تقارن دارند؟ آن ها را رسم کن.



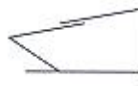
۶- کدام یک از اعداد زیر دو نیمه مثل هم دارند؟ دور آن ها خط بکش.

۷۸-۱۰۰۱-۳۳-۶۹-۹۹

۷- کدام یک از حروف الفبای فارسی دو نیمه مثل هم دارند؟ آن ها را بنویس.

۸- یک خورشید بکش که چهار قسمتش مثل هم باشد.

۹- برای کدام شکل نمی توان خط تقارن کشید؟



۱۰- یک موشک بکش که دو نیمه اش مثل هم باشد

۱۱- یک گل بکش که دو نیمه اش مثل هم باشد.

۱۲- یک خانه بکش که دو نیمه اش مثل هم باشد.

۱۳- یک پروانه بکش که دو نیمه اش مثل هم باشد.

۱۴- یک ماشین بکش که دو نیمه اش مثل هم باشد.

۱۵- با استفاده از چسب، مداد و شکل های هندسی که قبلا درست کرده ای در پایین برگه

تصویرهایی درست کن که خط تقارن داشته باشند.

باز خورد آموزگار: