

به نام خداوند جان آفرین

دبستان نبوت

www.takhteseah.blogfa.com

بهمن ماه

آزمون ریاضی پنجم ابتدایی

نام و نام خانوادگی :

1

نمایش اعشاری عددهای زیر را بنویسید.

- دوازده و سه صدم:

- هشت و دو دهم:

2

مقایسه کنید.

$1/02 \square 1/2$

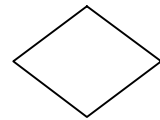
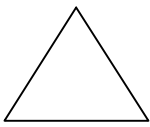
$0/28 \square 1/02$

$1/1 \square 0/98$

$0/2 \square 0/20$

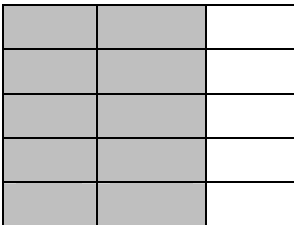
3

خط تقارن هر یک از شکل های زیر را رسم کنید.



4

برای شکل زیر ضرب مناسب بنویسید.



5

جمع و تفریق های زیر را انجام دهید.

$5/16 + 3/4 =$

$1/019 + 0/28 =$

6

ضرب زیر را انجام دهید و در صورت امکان جواب را ساده کنید.

$4 \frac{8}{13} \times 6 \frac{1}{5} =$

7

در جاهای خالی عدد مناسب بنویسید.

1/33 متر = سانتی متر

0/41 متر = میلی متر

0/4 متر = سانتی متر

30 سانتی متر = متر

8

وزن یک لیوان خالی 0/17 کیلو گرم است. اگر وزن یک لیوان پر از آب 0/381 کیلو گرم باشد. وزن آب داخل لیوان چقدر است؟

9	<p>دانش آموزان کلاس پنجم در یک مسابقه علمی شرکت کرده اند. این کلاس 32 نفر دانش آموز دارد. چند نفر در این مسابقه شرکت کرده اند؟</p> <p style="text-align: center;">$\frac{3}{4}$</p>
10	<p>از 28 نفر از دانش آموزان کلاسی 21 نفر قبول شده اند. چند درصد دانش آموزان از کلاس قبول شده اند؟</p>
11	<p>برای پنجره ای به شکل مستطیل شیشه ای لازم است که طول آن $\frac{1}{7}$ متر و عرض $\frac{0}{68}$ متر است. مساحت این شیشه چند متر مربع است؟</p>
12	<p>کتاب فروشی کتاب های خود را با 20% تخفیف می فروشد. او کتابی را که قیمت روی جلد آن 24000 ریال است با چند ریال تخفیف می فروشد؟ برای خرید این کتاب چند ریال باید پرداخت؟</p>
	<p>بازخورد آموزگار :</p>