

به نام خداوند جان آفرین

دبستان نبوت

www.takhteseah.blogfa.com

بهمن ماه

آزمون ریاضی پنجم ابتدایی

نام و نام خانوادگی :

جدول زیر را کامل کنید.

به حروف	به رقم
	7/049
پنج میلیون و بیست و سه هزار و صد و چهل و شش	

1

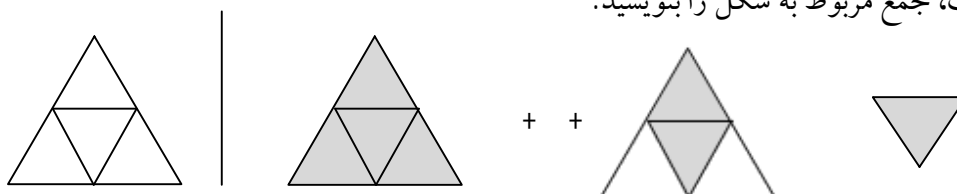
در عدد زیر رقم 8 در چه مرتبه ای قرار دارد؟

9481257

(1) صدگان □ (2) یکان هزار □ (3) دهگان هزار □ (4) یکان میلیون □

2

با توجه به واحد سمت چپ، جمع مربوط به شکل را بنویسید.



..... + ..... = .....

3

با رقم های (3، 2، 1، 7) دو عدد سه رقمی بنویسید که بر 6 بخش پذیر باشد. ....

4

مقایسه کنید و در داخل □ علامت &lt; = &gt; بگذارید.

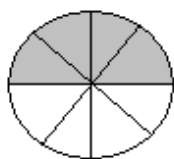
17/03 □ 1/705

$$\frac{7}{8} \square \frac{5}{6}$$

$$\frac{13}{4} \square 3 \frac{3}{4}$$

5

برای شکل روبرو دو کسر مساوی بنویسید.



6

عبارت های زیر را کامل کنید.

(الف) فاصله ی شهرها را با واحدی به نام ..... اندازه می گیرند.

(ب) مثلث متساوی الاضلاع ..... خط تقارن دارد. (ج) عدد "35' 48" 2 را یک عدد ..... می گویند.

7

قرینه ی شکل زیر را نسبت به خط تقارن (الف ب) رسم کنید.



8

با توجه به ضرب  $43 \times 27$  کدام جواب به حاصل نزدیک تر است؟

□1800 (د)

□1500 (ج)

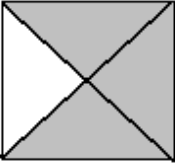
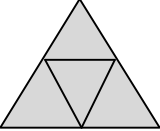

□1200 (ب)

□1000 (الف)

9

در جاهای خالی عدد مناسب بنویسید.

10

الف) 9 سانتی متر = ..... میلی متر (ب) 20000 مترمربع = ..... هکتار (ج) 2 کیلومتر = ..... متر	
ضرب زیر را انجام دهید. سپس حاصل را به عدد اعشاری بنویسید.	11
$1 \frac{7}{10} \times 4 =$	
حاصل عبارت های زیر را بدست آورید. (پاسخ را در صورت امکان ساده کنید و به عدد مخلوط بنویسید).	12
$2 \frac{4}{5} + 3 \frac{1}{3} =$ $9 - 4 \frac{5}{6} =$	
چند درصد شکل روبرو رنگی است؟ (راه حل را بنویسید).	13
	
شکل روبرو، گسترده ی کدام یک می باشد؟ الف) مکعب مستطیل <input type="checkbox"/> ب) مکعب <input type="checkbox"/> ج) چهار وجهی منتظم <input type="checkbox"/> د) سه وجهی منتظم <input type="checkbox"/>	14
	
دانش آموزی در ساعت $7^{\text{س}} 25' 12''$ صبح برای رفتن به مدرسه از خانه خارج شد و در ساعت 12 به منزل بازگشت. او چه مدتی در خارج از خانه بوده است؟	15
حسین و علی روی هم 4500 تومان پول دارند. اگر نسبت پول حسین به علی 7 به 2 باشد. پول هر یک چند تومان است؟	16
مساحت بخش رنگی را به دست آورید.	17
	
زمینی است به شکل مربع که هر ضلع آن 700 متر است. مساحت این زمین چند هکتار است؟	18