



شکل ها را به دسته های ده تایی تقسیم کن و جاهای خالی را پر کن.



به عدد:

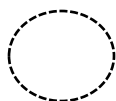
به حروف:



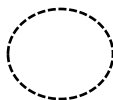
به عدد:

به حروف:

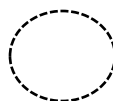
در هر قسمت عدد مناسب بنویس.



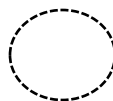
یک عدد دو رقمی بنویس که یکان آن ۵ و دهگان آن ۶ باشد.



یک عدد دو رقمی بنویس که یکان آن ۴ و دهگان آن ۵ تا بیشتر از یکان آن باشد.



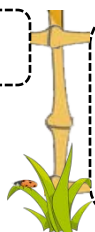
سه عدد دو رقمی بنویس که دهگان آن ۸ باشد.



سه عدد دو رقمی بنویس که یکان آن ۳ باشد.


با رقم های مشخص شده، عددهای دورقمی بنویس.

۶ و ۵



۷ و ۸





رقم های آن را نام ببر.

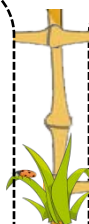


عدد ۶۷ چند رقمی است؟

حاصل جمع ها را با رسم چوب خط پیدا کن.



$$12 + 7 =$$



$$9 + 4 =$$



حاصل تفریق ها را با رسم شکل پیدا کن.



$$19 - 7 =$$



$$14 - 9 =$$

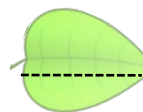
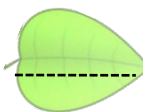
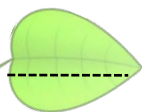
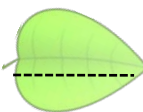
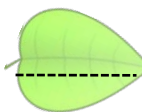


الگوها را کامل کن.



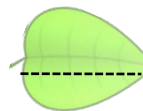
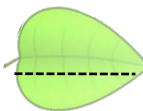
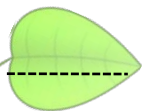
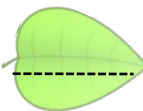
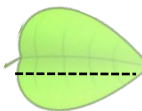
۳۵

۴۰

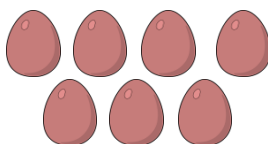
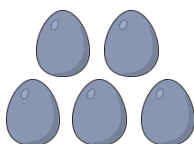
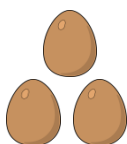


۷

۱۰



با توجه به شکل عبارت جمع را بنویس و حاصل را بدست بیاور.



ریستان نمونه

[Dabestanenemone.blogfa.com](http://Dabestanenemone.blogfa.com)

مجید مهدی خانی  
فروزان علمشاهی

+

+

=

بازخورد آموزگار :  خیلی خوب  خوب  قابل قبول  نیاز به تلاش بیشتر