

بسمه تعالی


گروه های آموزشی منطقه ۱۱ پایه ی پنجم

کاربرگ پیشنهادی ریاضی دی ۹۲

موضوع: درصد و تقارن

کلاس :

نام. نام خانوادگی :

چند درصد از شکل های زیر  است؟



۱

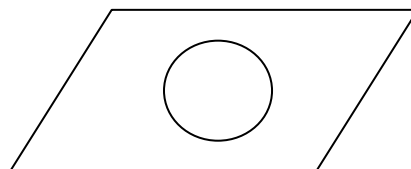
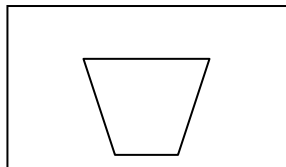
۲۵ درصد دانش آموزان یک دبستان در کلاس پنجم درس می خوانند . اگر تعداد این دانش آموزان ۷۵ نفر باشند ، کل دانش آموزان این دبستان چند نفر هستند.

۲

۳ دوچرخه ای را با ۲۰٪ تخفیف به قیمت ۷۲۰۰۰ تومان خریده ایم . قیمت اصلی آن چند تومان بوده است؟

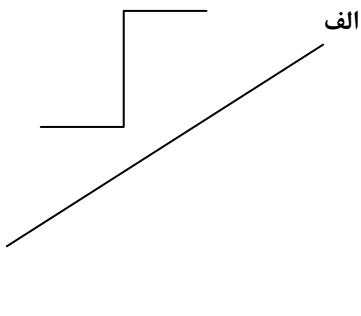
۳

۴ هریک از شکل های زیر چند خط تقارن دارد؟ در صورت امکان ، آن را رسم کنید.



۴

۵ قرینه ی شکل های زیر را نسبت به خط ( الف ب ) رسم کنید.



الف \_\_\_\_\_ ب

۵

بازخورد آموزگار :