


به تعداد شکل ها ، ۵ تا اضافه کن، دسته های ده تایی بساز و جاهای خالی را کامل کن.



به عدد:

به حروف:

با توجه به شکل ، پاسخ بده.



الف) عدد را با توجه به شکل بنویس.

ب) این عدد چند رقم دارد؟

ج) رقم های آن را نام ببر. و

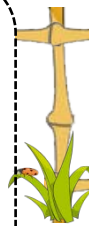
حاصل جمع و تفریق های زیر را بنویس. (با هر روشی که می خواهی پاسخ را پیدا کن).



$$۲ + ۸ =$$

$$۷ + ۶ =$$

$$۶ + ۶ + ۶ =$$




$$۱۶ - ۹ =$$

$$۱۲ - ۶ =$$



حاصل عبارت زیر را با استفاده از محور اعداد به دست بیاور.

$$۳ + ۸ - ۴ =$$





یک عدد دو رقمی بنویس که یکان آن ۴ تا بیشتر از دهگان‌ش باشد.

مسئله‌های زیر را حل کن.



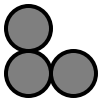
❖ مادر ۹ بستنی خریده بود. بچه‌ها ۴ تا از بستنی‌ها را خوردند. مادر ۶ بستنی دیگر خرید. حالا مادر چند بستنی دارد؟ (با رسم شکل حل کن و جواب بده).



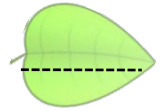
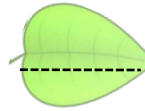
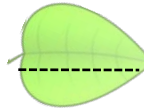
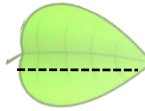
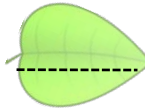
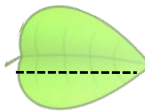
❖ در اتوبوسی ۷ مسافر نشسته بود. در ایستگاه ۹ مسافر دیگر سوار شدند ولی ۴ مسافر از اتوبوس پیاده شدند. حالا در اتوبوس چند مسافر نشسته است؟ (با رسم محور حل کن).



این الگو را با رسم شکل یک بار ادامه بده.



از عدد ۱۷، ۵ تا ۵ تا بشمار و بنویس تا به ۴۷ برسی.



عدد‌های زیر چند رقمی هستند؟

۵۹

۷

۳۱۲

در جاهای خالی عدد مناسب بنویس.

۵۳ یعنی ده تایی و یکی

۸۰ یعنی ده تایی و یکی

۳۱ یعنی ده تایی و یکی

بازخورد آموزگار : خیلی خوب خوب قابل قبول نیاز به تلاش بیشتر