

پایه ی اول

به نام خدای خوب

تکلیف ریاضی

تم ۲


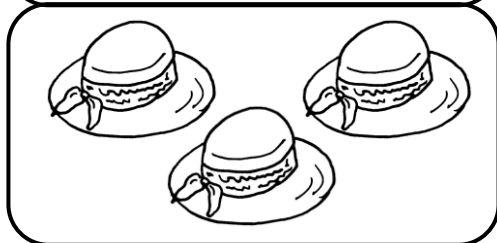

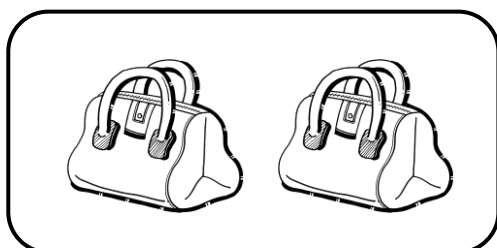
دبستان

شهید بهشتی



نام زیبای من:

تاریخ:

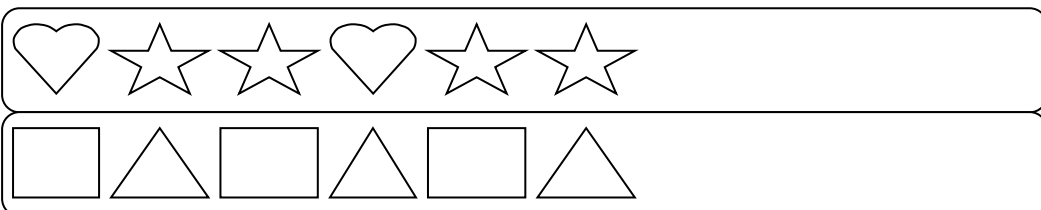
۱- به تعداد شکل های سمت چپ از شکل های سمت راست رنگ بزن.











۲- جدول های شگفت انگیز را با شکل های داده شده کامل کن.





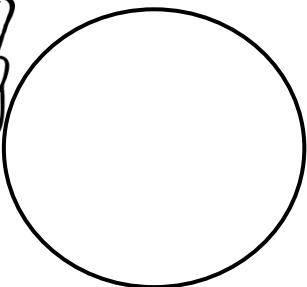
۳- الگوهای منظم زیر را ادامه بده.



۴- تعداد شکل های دسته ی سمت راست را با انگشتان دست راست و تعداد شکل های دسته ی سمت چپ را با انگشتان دست چپ خود نشان بده و داخل دایره ها مثلث بکش.



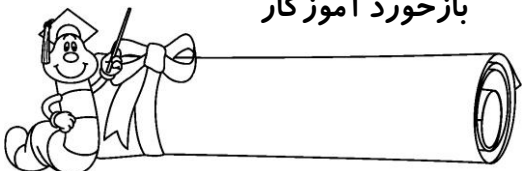
۵- اگر به انگشتان هر دست یکی اضافه شود چند می شود؟ (برای آن دایره بکش.)



۶- خانه هایی را که یک نقطه دارد، سبز و خانه هایی را که دو نقطه دارد، قرمز کن.

	••				••			••
•		•		•		•		•
	•				•			•

باز خورد آموزگار



وبلاگ مدرسه ی آینه
Dabestaneaby.blogfa.com
تهیه کننده : لیلا توکلی

خود سنجی

