

w  
w  
w  
.  
t  
a  
k  
h  
t  
e  
s  
e  
a  
h  
.  
b  
l  
o  
g  
f  
a  
.  
c  
o  
m

۴۷- به کسی که می خواهد درباره ی یک موضوع علمی مطالعه کند ، چه می گویند ؟  
 الف ( درس خوان  ب) پژوهشگر  ج) دانشمند  د) دانشجو

۴۸- املائی کدام گزینه غلط است ؟  
 الف) نیاز گزار  ب) خاستم بلند شوم   
 ج) خواهم آمد  د) گذشتم

۴۹- در جمله ی ( همه ی مردم ایران زمین کشور خود را دوست دارند ) نهاد کدام است ؟  
 الف) همه ی مردم ایران زمین  ب) همه   
 ج) کشور خود را دوست دارند  د) دوست دارند

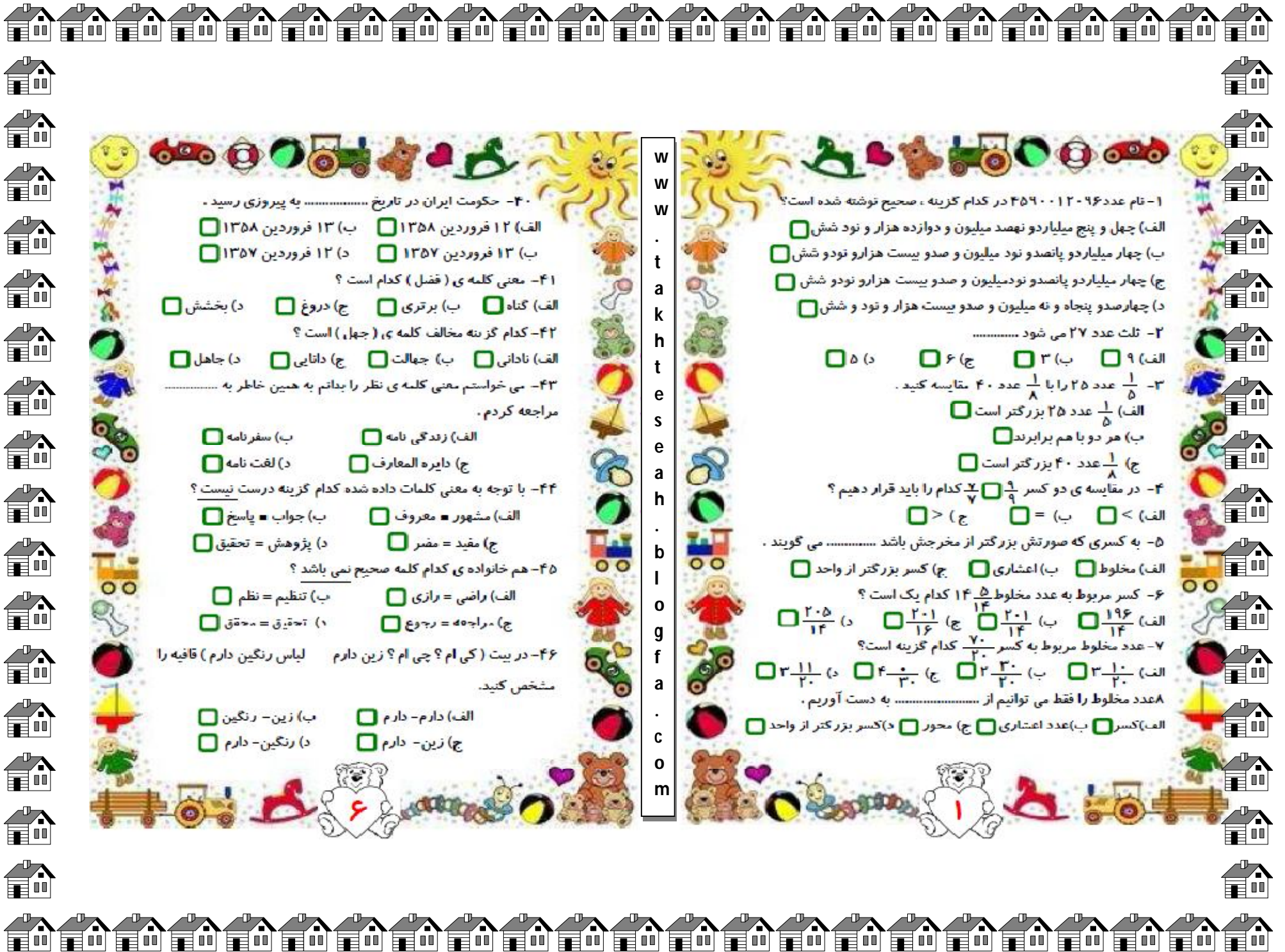
۵۰- مخالف کدام گزینه صحیح نمی باشد ؟  
 الف) درون = بیرون  ب) پاکیزه = کثیف   
 ج) ثروتمند = دارا  د) وحشی = اهلی

تعداد پاسخ های صحیح : .....

تعداد پاسخ های غلط : .....

نظر آموزگار : .....





W  
W  
W  
.  
t  
a  
k  
h  
t  
e  
s  
e  
a  
h  
.  
b  
l  
o  
g  
f  
a  
.  
c  
o  
m

۴۰- حکومت ایران در تاریخ ..... به پیروزی رسید -

- الف) ۱۲ فروردین ۱۳۵۸  ب) ۱۳ فروردین ۱۳۵۸   
 ب) ۱۳ فروردین ۱۳۵۷  د) ۱۲ فروردین ۱۳۵۷

۴۱- معنی کلمه ی ( فضل ) کدام است ؟

- الف) گناه  ب) برتری  ج) دروغ  د) بخشش

۴۲- کدام گزینه مخالف کلمه ی ( جهان ) است ؟

- الف) نادانی  ب) جهالت  ج) دانایی  د) جاهل

۴۳- می خواستم معنی کلمه ی نظر را بداتم به همین خاطر به ..... مراجعه کردم .

- الف) زندگی نامه  ب) سفرنامه   
 ج) دایره المعارف  د) لغت نامه

۴۴- با توجه به معنی کلمات داده شده کدام گزینه درست نیست ؟

- الف) مشهور = معروف  ب) جواب = پاسخ   
 ج) مفید = مضر  د) پژوهش = تحقیق

۴۵- هم خانواده ی کدام کلمه صحیح نمی باشد ؟

- الف) راضی = رازی  ب) تنظیم = نظم   
 ج) -مراجه = رجوع  د) تحقیق = -محقق

۴۶- در بیت ( کی ام ؟ چی ام ؟ زین دارم ) لباس رنگین دارم ( قافیه را مشخص کنید.

- الف) دارم- دارم  ب) زین- رنگین   
 ج) زین- دارم  د) رنگین- دارم

۱- تام عدد ۹۶۰۰۱۲۰۴۵۹۰ در کدام گزینه ، صحیح نوشته شده است؟

- الف) چهل و پنج میلیاردو نهصد میلیون و دوازده هزار و نود شش   
 ب) چهار میلیاردو پانصدو نود میلیون و صدو بیست هزارو تودو شش   
 ج) چهار میلیاردو پانصدو نودمیلیون و صدو بیست هزارو نودو شش   
 د) چهارصدو پنجاه و نه میلیون و صدو بیست هزار و تودو شش

۲- ثلث عدد ۲۷ می شود .....

- الف) ۹  ب) ۳  ج) ۶  د) ۵

۳-  $\frac{1}{5}$  عدد ۲۵ را با  $\frac{1}{8}$  عدد ۴۰ مقایسه کنید .

- الف)  $\frac{1}{5}$  عدد ۲۵ بزرگتر است   
 ب) هر دو با هم برابرند   
 ج)  $\frac{1}{8}$  عدد ۴۰ بزرگتر است

۴- در مقایسه ی دو کسر  $\frac{9}{7}$  و  $\frac{7}{9}$  کدام را باید قرار دهیم ؟

- الف)  $<$   ب)  $=$   ج)  $>$

۵- به کسری که صورتش بزرگتر از مخرجش باشد ..... می گویند .

- الف) مخلوط  ب) اعشاری  ج) کسر بزرگتر از واحد

۶- کسر مربوط به عدد مخلوط  $14\frac{5}{14}$  کدام یک است ؟

- الف)  $\frac{196}{14}$   ب)  $\frac{201}{14}$   ج)  $\frac{201}{16}$   د)  $\frac{205}{14}$

۷- عدد مخلوط مربوط به کسر  $\frac{70}{20}$  کدام گزینه است؟

- الف)  $3\frac{1}{20}$   ب)  $3\frac{2}{20}$   ج)  $4\frac{0}{20}$   د)  $3\frac{11}{20}$

۸ عدد مخلوط را فقط می توانیم از ..... به دست آوریم .

- الف) کسر  ب) عدد اعشاری  ج) محور  د) کسر بزرگتر از واحد





w  
w  
w  
.  
t  
a  
k  
h  
t  
e  
s  
e  
a  
h  
.  
b  
l  
o  
g  
f  
a  
.  
c  
o  
m



۲۴- زرد شدن برگ درختان یک تغییر..... و پاره کردن کاغذ یک تغییر ..... است .

الف) شیمیایی- شیمیایی  (ب) شیمیایی- فیزیکی   
ج) فیزیکی- شیمیایی  (د) فیزیکی- فیزیکی

۲۵- مولکول های ..... یکدیگر را نمی ربایند و آزادانه به هر طرف می روند.  
الف) جامد  (ب) مایع  (ج) گاز

۲۶- کشور ایران به قسمت های مختلفی تقسیم شده که به آن ..... می گوئیم .  
الف) شهر  (ب) روستا  (ج) استان  (د) منطقه

۲۷- وقتی مردم برای زندگی یا کار از جایی به جای دیگر می روند..... صورت گرفته است .  
الف) کوچ  (ب) ییلاق   
ج) مهاجرت  (د) قشلاق

۲۸- در کدام مناطق جمعیت بیشتری زندگی می کنند ؟  
الف) کوهستان  (ب) گویابه  (ج) گویر  (د) جلگه ها

۲۹- عشایر برای یافتن چراگاه مناسب در فصل تابستان به ..... و در فصل زمستان به ..... کوچ می کنند .  
الف) دشت ها - کوه ها  (ب) ییلاق - قشلاق   
ج) قشلاق - ییلاق  (د) گرمسیر - سردسیر

۳۰- کار اصلی عشایر کدام است؟  
الف) دامپروری  (ب) کشاورزی  (ج) باغداری  (د) بافندگی

۳۱- بیشتر برنج ایران در استان های ..... و ..... کشت می شود.  
الف) گلستان- مازندران  (ب) گیلان - مازندران   
ج) گلستان - گیلان  (د) خراسان - گلستان

۳۲- اگر مولکول های یک ماده از دو یا چند نوع اتم ساخته شده باشند به آن ماده ..... می گوئیم .  
الف) ترکیب  (ب) عنصر  (ج) اتم  (د) مولکول

۳۳- مولکول آب از ترکیب دو اتم ..... و یک اتم ..... ساخته شده است.  
الف) نیتروژن- اکسیژن  (ب) مایع- گاز   
ج) اکسیژن- نیتروژن  (د) نیتروژن- اکسیژن

۳۴- تبخیر یک تغییر..... و ذوب شدن یک تغییر..... است .  
الف) شیمیایی- شیمیایی  (ب) شیمیایی- فیزیکی   
ج) فیزیکی- شیمیایی  (د) فیزیکی- فیزیکی



۱۶- به جمع آوری اطلاعات درباره ی محیط اطراف ..... می گوئید .  
الف) طبقه بندی  (ب) مشاهده  (ج) آزمایش  (د) فرضیه

۱۷- پیشنهاد راه حل های معقول و قابل آزمایش در باره ی یک مسئله کدام است ؟  
الف) نتیجه گیری  (ب) مشاهده   
ج) اندازه گیری  (د) فرضیه سازی

۱۸- مولکول ها را می توان به وسیله ی ..... مشاهده کرد .  
الف) تلسکوپ  (ب) میکروسکوپ  (ج) منشور  (د) ذره بین

۱۹- در مواد ..... مولکول ها به هم نزدیکند و نمی توانند آزادانه حرکت کنند و از جایی به جای دیگر بروند و فقط در جای خود می لرزند .  
الف) جامد  (ب) مایع  (ج) گاز

۲۰- مولکول ها از ذرات کوچکتری به نام ..... تشکیل شده اند .  
الف) ذره  (ب) سلول  (ج) اتم  (د) عنصر

۲۱- اگر مولکول های یک ماده از دو یا چند نوع اتم ساخته شده باشند به آن ماده ..... می گوئیم .  
الف) ترکیب  (ب) عنصر  (ج) اتم  (د) مولکول

۲۲- مولکول آب از ترکیب دو اتم ..... و یک اتم ..... ساخته شده است.  
الف) نیتروژن- اکسیژن  (ب) مایع- گاز   
ج) اکسیژن- نیتروژن  (د) نیتروژن- اکسیژن

۲۳- تبخیر یک تغییر..... و ذوب شدن یک تغییر..... است .  
الف) شیمیایی- شیمیایی  (ب) شیمیایی- فیزیکی   
ج) فیزیکی- شیمیایی  (د) فیزیکی- فیزیکی

۲۴- زرد شدن برگ درختان یک تغییر..... و پاره کردن کاغذ یک تغییر ..... است .  
الف) شیمیایی- شیمیایی  (ب) شیمیایی- فیزیکی   
ج) فیزیکی- شیمیایی  (د) فیزیکی- فیزیکی

۲۵- مولکول های ..... یکدیگر را نمی ربایند و آزادانه به هر طرف می روند.  
الف) جامد  (ب) مایع  (ج) گاز

۲۶- کشور ایران به قسمت های مختلفی تقسیم شده که به آن ..... می گوئیم .  
الف) شهر  (ب) روستا  (ج) استان  (د) منطقه

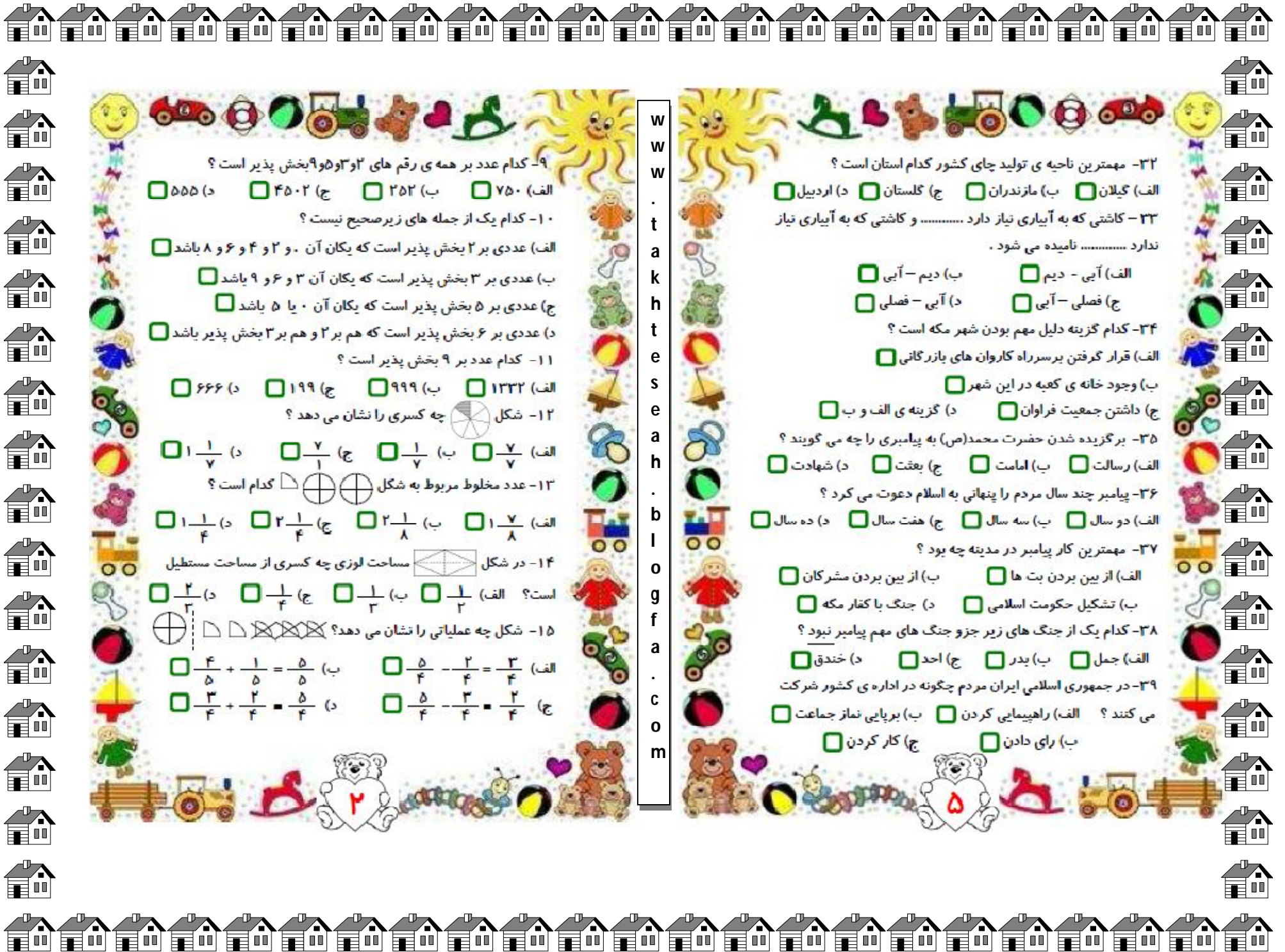
۲۷- وقتی مردم برای زندگی یا کار از جایی به جای دیگر می روند..... صورت گرفته است .  
الف) کوچ  (ب) ییلاق   
ج) مهاجرت  (د) قشلاق

۲۸- در کدام مناطق جمعیت بیشتری زندگی می کنند ؟  
الف) کوهستان  (ب) گویابه  (ج) گویر  (د) جلگه ها

۲۹- عشایر برای یافتن چراگاه مناسب در فصل تابستان به ..... و در فصل زمستان به ..... کوچ می کنند .  
الف) دشت ها - کوه ها  (ب) ییلاق - قشلاق   
ج) قشلاق - ییلاق  (د) گرمسیر - سردسیر

۳۰- کار اصلی عشایر کدام است؟  
الف) دامپروری  (ب) کشاورزی  (ج) باغداری  (د) بافندگی





w  
w  
w  
.  
t  
a  
k  
h  
t  
e  
s  
e  
a  
h  
.  
b  
l  
o  
g  
f  
a  
.  
c  
o  
m

۹- کدام عدد بر همه ی رقم های ۲ و ۳ و ۵ و ۹ بخش پذیر است ؟  
(الف) ۷۵۰  (ب) ۲۵۲  (ج) ۴۵۰۲  (د) ۵۵۵

۱۰- کدام یک از جمله های زیر صحیح نیست ؟  
(الف) عددی بر ۲ بخش پذیر است که یکان آن ۰ و ۲ و ۴ و ۶ و ۸ باشد


(ب) عددی بر ۳ بخش پذیر است که یکان آن ۳ و ۶ و ۹ باشد

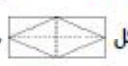
(ج) عددی بر ۵ بخش پذیر است که یکان آن ۰ یا ۵ باشد


(د) عددی بر ۶ بخش پذیر است که هم بر ۲ و هم بر ۳ بخش پذیر باشد

۱۱- کدام عدد بر ۹ بخش پذیر است ؟  
(الف) ۱۳۳۲  (ب) ۹۹۹  (ج) ۱۹۹  (د) ۶۶۶

۱۲- شکل  چه کسری را نشان می دهد ؟  
(الف)  $\frac{7}{7}$   (ب)  $\frac{1}{7}$   (ج)  $\frac{7}{1}$   (د)  $\frac{1}{7}$

۱۳- عدد مخلوط مربوط به شکل  کدام است ؟  
(الف)  $1\frac{7}{8}$   (ب)  $2\frac{1}{8}$   (ج)  $2\frac{1}{4}$   (د)  $1\frac{1}{4}$

۱۴- در شکل  مساحت لوزی چه کسری از مساحت مستطیل است ؟  
(الف)  $\frac{1}{2}$   (ب)  $\frac{1}{3}$   (ج)  $\frac{1}{4}$   (د)  $\frac{2}{3}$

۱۵- شکل چه عملیاتی را نشان می دهد؟   
(الف)  $\frac{3}{4} - \frac{2}{4} = \frac{1}{4}$   (ب)  $\frac{4}{5} + \frac{1}{5} = \frac{5}{5}$

(ج)  $\frac{2}{4} - \frac{3}{4} = \frac{1}{4}$   (د)  $\frac{3}{4} + \frac{2}{4} = \frac{5}{4}$

۳۲- مهمترین ناحیه ی تولید چای کشور کدام استان است ؟  
(الف) گیلان  (ب) مازندران  (ج) گلستان  (د) اردبیل

۳۳- کاشتی که به آبیاری نیاز دارد ..... و کاشتی که به آبیاری نیاز ندارد ..... نامیده می شود .  
(الف) آبی - دیم  (ب) دیم - آبی

(ج) فصلی - آبی  (د) آبی - فصلی

۳۴- کدام گزینه دلیل مهم بودن شهر مکه است ؟  
(الف) قرار گرفتن بزرگراه کاروان های یازرگانی

(ب) وجود خانه ی کعبه در این شهر

(ج) داشتن جمعیت فراوان  (د) گزینه ی الف و ب

۳۵- برگزیده شدن حضرت محمد(ص) به پیامبری را چه می گویند ؟  
(الف) رسالت  (ب) امامت  (ج) بعثت  (د) شهادت

۳۶- پیامبر چند سال مردم را پنهانی به اسلام دعوت می کرد ؟  
(الف) دو سال  (ب) سه سال  (ج) هفت سال  (د) ده سال

۳۷- مهمترین کار پیامبر در مدینه چه بود ؟  
(الف) از بین بردن بت ها  (ب) از بین بردن مشرکان

(ب) تشکیل حکومت اسلامی  (د) جنگ با قفار مکه

۳۸- کدام یک از جنگ های زیر جزو جنگ های مهم پیامبر نبود ؟  
(الف) جمل  (ب) بدر  (ج) احد  (د) خندق

۳۹- در جمهوری اسلامی ایران مردم چگونه در اداره ی کشور شرکت می کنند ؟  
(الف) راهپیمایی کردن  (ب) برپایی نماز جماعت

(ب) رای دادن  (ج) کار کردن