



تاریخ: 93/8/19

بسمه تعالی
اداره آموزش و پرورش منطقه میمه
دستان حسین کریمی لایمید

نام و نام خانوادگی
کلاس پنجم

زمان: 40 دقیقه

چهار صد و بیست و نه میلیون و شانزده هزار و بیست و یک \leftarrow به عدد

..... \leftarrow به حروف ۳۵۱۴۰۰۷۱۰۵

۲- محمد ۲۰۰ تومان پول داشت. $\frac{1}{4}$ پولش را خرج کرد. چند تومان از پولش را خرج کرده است؟
چند تومان برایش باقی مانده است؟

۳- کسرها را باهم مقایسه کنید.

$$\frac{8}{8} \square 1$$

$$\frac{0}{7} \square \frac{5}{5}$$

$$\frac{5}{3} \square 1$$


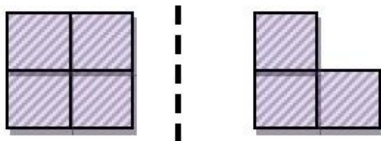
$$\frac{12}{7} \square \frac{4}{7}$$

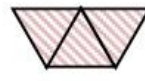
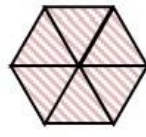
۴- حاصل کسره‌های زیر را بنویسید.

$$\frac{2}{6} + \frac{5}{6} =$$

$$1 - \frac{3}{7} =$$

۵- در هر ردیف شکل سمت چپ به عنوان واحد انتخاب شده است. کسر مربوط به شکل‌هایی را که مقابل هر واحد کشیده شده‌اند، بنویسید.





۶- کسرهای زیر را به عدد مخلوط تبدیل کنید.

$$\frac{۳۶}{۷} =$$

$$\frac{۳۵}{۱۵} =$$

۷- عددهای مخلوط زیر را به کسر تبدیل کنید.

$$۲ \frac{۳}{۷} =$$

$$۷ \frac{۴}{۸} =$$

۸- دور اعدادی که بر ۲ بخش پذیر هستند خط بکشید.

۷۷

۱۲۴

۳۸۰

۴۵۷

۵۱۸

۹- دور اعدادی که بر ۶ بخش پذیر هستند خط بکشید.

۳۶

۱۴۲

۴۶۸

۵۲۵

۶۵۴

۱۱- برای هر یک از کسرهای زیر دو کسر مساوی بنویسید.

$$\frac{۳}{۱۵}$$

$$\frac{۷}{۸}$$

۱۲- کسرهای زیر را تا جایی که امکان دارد ساده کنید.

$$\frac{۳۰۰۰}{۱۵۰۰۰}$$

$$\frac{۳۶}{۵۴}$$

نظر آموزگار:

موفق و پیروز باشید
نادر بهبهانی

