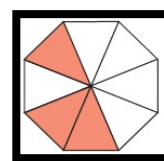

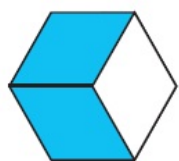


۱- چه کسری از شکل های زیر رنگ شده است؟



۲- شکل ها را با توجه به کسر داده شده رنگ کنید؟



$$\frac{7}{10}$$

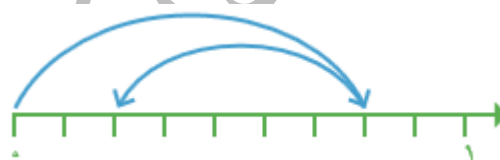


$$\frac{3}{8}$$



$$\frac{4}{6}$$

۳- برای هر شکل جمع یا تفریق بنویسید؟



۴- در جای خالی عدد مناسب بنویسید؟

$$\frac{8}{15} - \frac{\quad}{15} = \frac{1}{15}$$

$$\frac{4}{11} + \frac{\quad}{11} = \frac{9}{11}$$


$$\frac{\quad}{8} + \frac{3}{8} = \frac{7}{8}$$

$$\frac{10}{13} - \frac{\quad}{13} = \frac{8}{13}$$

$$\frac{\quad}{12} + \frac{5}{12} = \frac{7}{12}$$

$$\frac{7}{8} - \frac{\quad}{8} = \frac{5}{8}$$

۵- باتوجه به واحد داده شده ، عدد مخلوط مربوط به هر شکل را بنویسید؟



ن	ق	خ	خ	کسر ها را با توجه به رنگ آنها درست می نویسد
				با توجه به رنگ ، کسر مربوط به آن را می نویسد
				جمع و تفریق کسر ها را با توجه به شکل انجام می دهد
				جاهای خالی را با دقت کامل می کند
				عدد مخلوط هر شکل را می نویسد