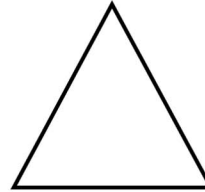
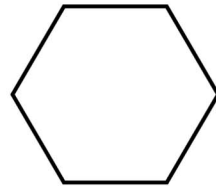

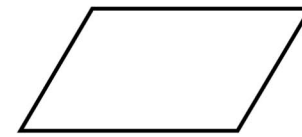
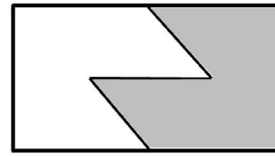
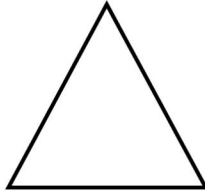
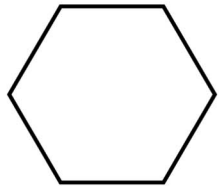

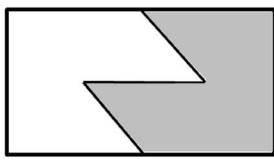

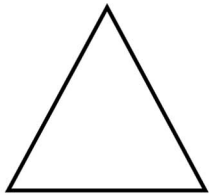


۱- مانده نمونه،  $\frac{1}{2}$  هر یک از شکل‌های زیر را رنگ کنید. (با روش‌های مختلف)




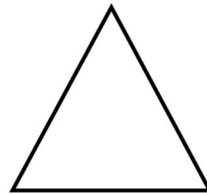
۲- اشکال زیر را به قسمت‌های تقریباً مساوی تقسیم کنید.



۸ قسمت

۵ قسمت

۳ قسمت

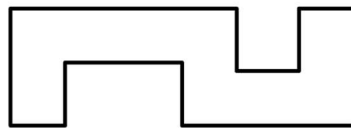
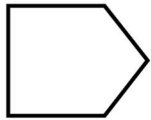

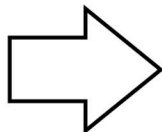
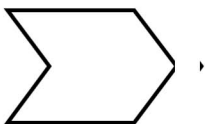


۸ قسمت

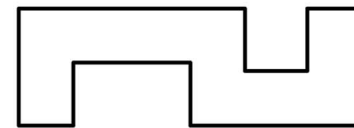
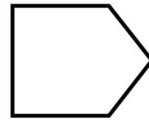

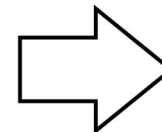
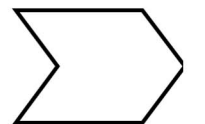
۵ قسمت

۳ قسمت

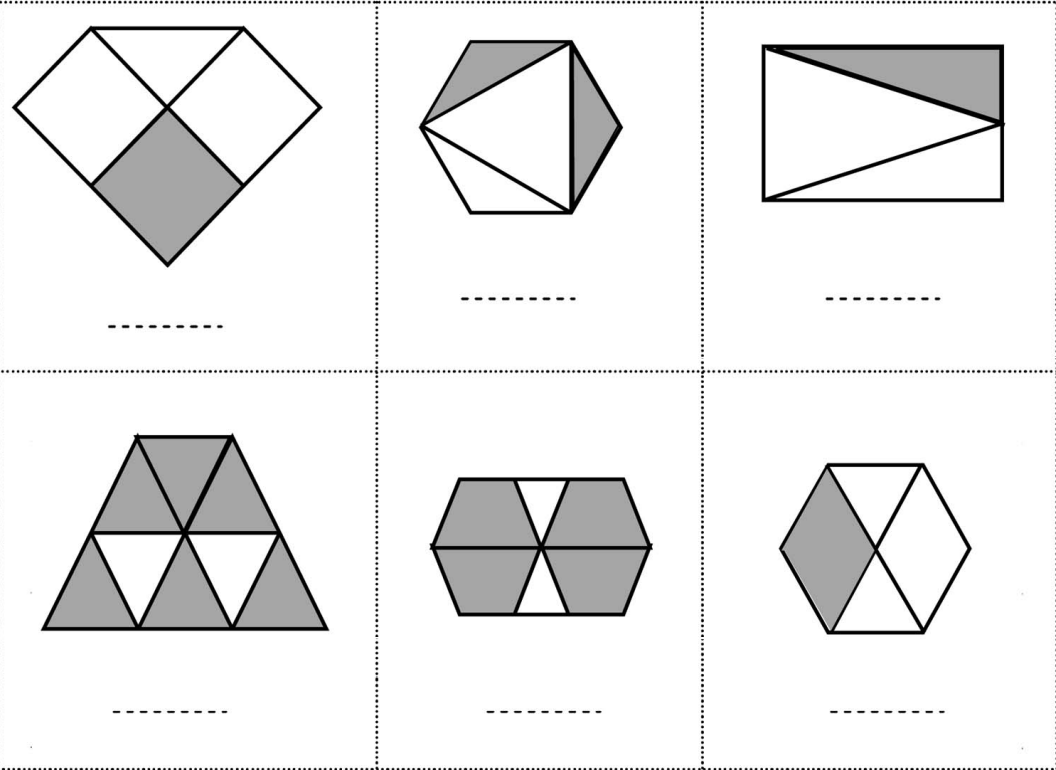
۳- در هر یک از شکل‌های زیر، کسر خواسته شده را رنگ کنید.

 $\frac{3}{5}$  $\frac{5}{9}$  $\frac{3}{6}$  $\frac{3}{4}$  $\frac{1}{4}$  $\frac{7}{10}$ 

۳- در هر یک از شکل‌های زیر، کسر خواسته شده را رنگ کنید.

 $\frac{3}{5}$  $\frac{5}{9}$  $\frac{3}{6}$  $\frac{3}{4}$  $\frac{1}{4}$  $\frac{7}{10}$

۳- هریک از شکل‌های زیر چه کسری را نشان می‌دهند؟



۴- جمله‌های درست را با علامت ✓ و جملات غلط را با علامت × مشخص کنید.

الف) عدد کسری قسمتی از کل یک شیء را نشان می‌دهد.

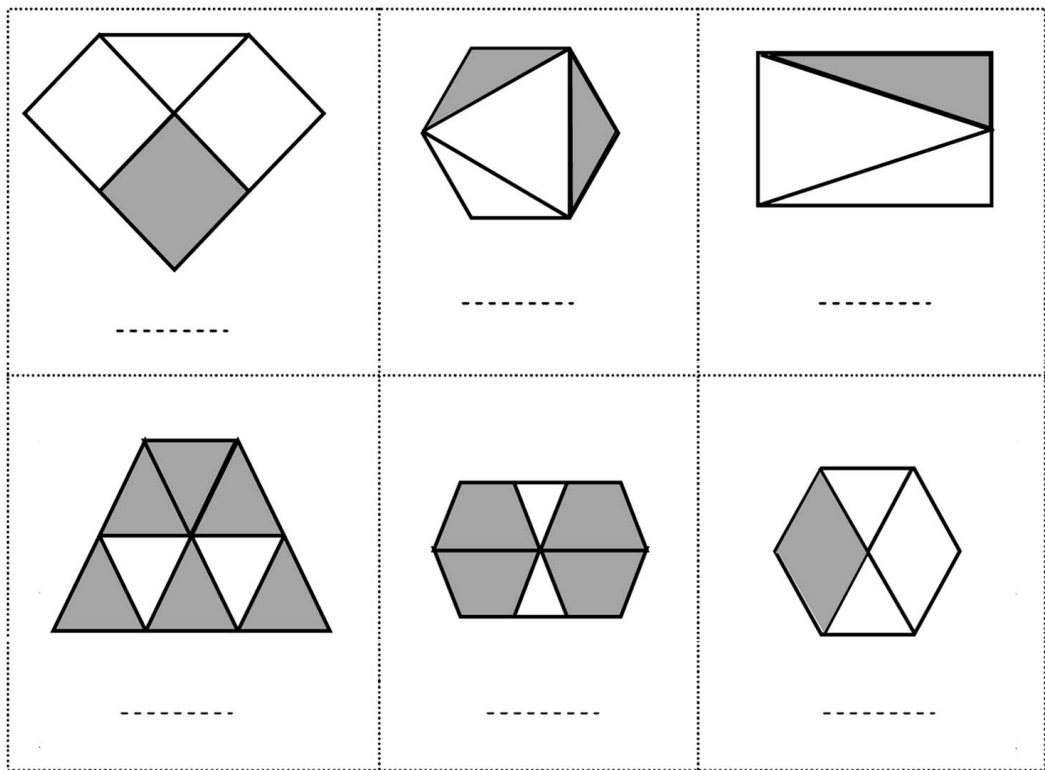
ب) عددهای کسری و عددهای مخلوط دو نمایش مختلف از یک عدد هستند.

ج) عدد مخلوط  $3\frac{2}{3}$  را می‌توان به صورت  $3 + \frac{2}{3}$  نیز نشان داد.

د) عدد مخلوط  $4\frac{7}{15}$  با کسر  $\frac{67}{15}$  برابر است.

ح) عدد کسری  $\frac{97}{15}$  با عدد مخلوط  $6\frac{7}{15}$  برابر است.

۳- هریک از شکل‌های زیر چه کسری را نشان می‌دهند؟



۴- جمله‌های درست را با علامت ✓ و جملات غلط را با علامت × مشخص کنید.

الف) عدد کسری قسمتی از کل یک شیء را نشان می‌دهد.

ب) عددهای کسری و عددهای مخلوط دو نمایش مختلف از یک عدد هستند.

ج) عدد مخلوط  $3\frac{2}{3}$  را می‌توان به صورت  $3 + \frac{2}{3}$  نیز نشان داد.

د) عدد مخلوط  $4\frac{7}{15}$  با کسر  $\frac{67}{15}$  برابر است.

ح) عدد کسری  $\frac{97}{15}$  با عدد مخلوط  $6\frac{7}{15}$  برابر است.