

به نام خدا
دبستان پسرانه فروغ نکونام (۱)

تکلیف هفته دوم مهر



نام:

نام خانوادگی:

کلاس سوم

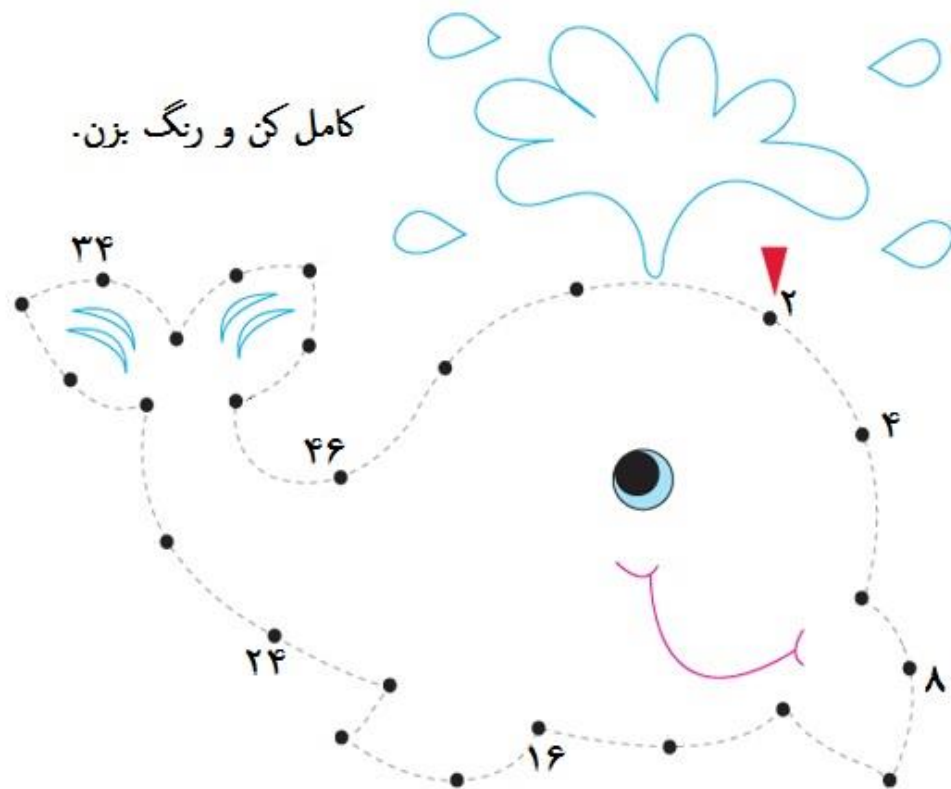
سال تحصیلی ۹۴-۹۳

طراح: رحمان نژاد

شاید چیزایی که میخوایم واسمون اتفاق بیفتن و نیفتن
واسه اینه که در حد ما نیستن ، از اون بهتر لیاقت ماست!

Creativeclass.blogfa.com

کامل کن و رنگ بزن.



چیستان

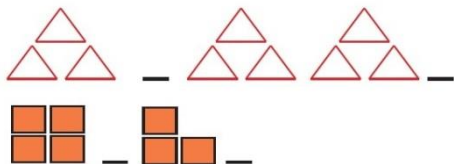
۱- اون چیه که خیلی تیغ داره ولی نه ساقه، نه برگ و نه ریشه داره؟

۲- کشاورزی ۱۰۱ تا گوسفند داشت.

همه به جز ۹ تای آن ها مردند. او حالا چند تا گوسفند دارد؟

نظر ولی محترم :
.....
.....
.....





الگوی شکلی زیر را ادامه دهید.


در جای خالی عدد مناسبی بنویس.

۵ - ۱۰ - - ۲۰ - - ۳۰

۷ - ۱۴ - - - - ۴۲

۲۳۱ - - ۴۳۱ - ۵۳۱ - -

برای الگوی عددی زیر شکل مناسب بکش.



بستنی فروشی هر بستنی را ۵۵۰ تومان می خرد و ۶۰۰ تومان می فروشد.

الف) از فروش هر بستنی چقدر سود می کند؟


ب) فروش هر سه بستنی چقدر سود برایش دارد؟

ج) اگر یک بستنی آن آب شود چند تا بستنی باید

بفروشد تا ضرر آن بستنی جبران شود؟



به این زنبورهای تپلی کمک کنید جای خالی را پر کنند.



..... = + پسر

..... = + درخت

..... = + کتاب

..... = + لحظات

..... کلمات یعنی

..... دختران یعنی

..... سیب ها یعنی

متن درس محله ما را بخوان و کلمات خواسته شده را بنویس.

کلماتی که تشدید دارند	کلماتی که صدای ص دارند	کلماتی که صدای ط دارند
