

۱. اولین کار یک پژوهشگر است.

الف) یادداشت برداری (ب) آزمایش

ج) گزارش نویسی (د) مشاهده ی دقیق



۲. سه دوست وقتی گیاه را دیدند، هر یک درباره ی گیاه جمله ای گفتند.
به نظر تو کدام جمله علمی تر است؟ برای پاسخ خود دلیل بنویس.

چه بوی خوبی دارد، ولی خوش رنگ نیست .

خیلی زیباست ، ولی کج است.

گل برگ دارد و برگ ها دندانه دارند .

به نام خدا

دبستان پسرانه فروغ نکونام (۱)

تکلیف هفته سوم مهر ۹۳

نام : نام خانوادگی : کلاس سوم



کوچولوی نازنین ، روزت مبارک

طراح: رحمان نژاد

Creativeclass.blogfa.com

۱. فکر می کنید چگونه می توانیم شکر گزار نعمت های خدا باشیم؟

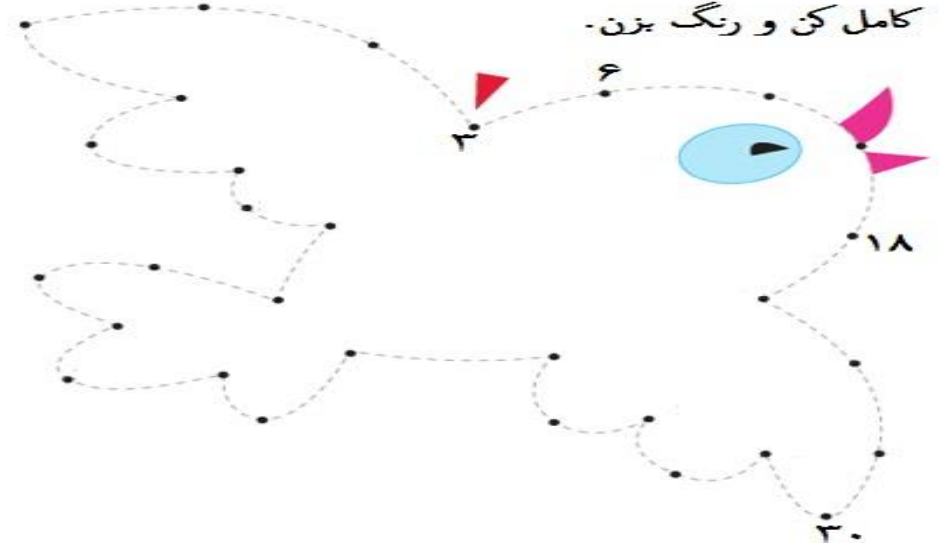
.....
.....

۲. فرزندم تصویر یک کار خوب و بد (از روزنامه جدا کن و یا نقاشی بکش) و با

خود به کلاس بیاورید.



کامل کن و رنگ بزن.



۱. در جلوی جملات، درست و نادرست بنویسید.



- برای ورزش کردن به صورت حرفه ای، اول باید تمرین داشته باشیم.
- پس از صحبت های مربی شنا، در دوره های آموزشی، نام نویسی کردم.


۲. معنی کلمه های زیر را بنویس.




۳. غلط های املائی را در متن زیر پیدا کنید. و شکل صحیح آن را بنویسید. (۳ غلط املائی)

اگر شکلی به چند قسمت مساوی تقسیم شده باشد، ساده ترین راه شمارش قسمت های آن، شمردن به ترتیب تک تک قسمت های آن است به توری که تمام آنها را فقط یک بار شمارش کنیم. آخرین عددی را که بیان می کنیم، تعداد قسمت های آن شکل را نشان می دهد. اما روش های سریع تری نیز وجود دارد. از جمله ی این روش ها، روش شمارش چند تا چند تا است یعنی دوتا دوتا یا سه تا سه تا و غیره شروع به شمردن کنیم.

برای هر یک از شکل های زیر با توجه به بسته بندی آن، یک جمع بنویس. و حاصل را حساب کنید.



..... + + =



..... + + + =

الگوهای عددی زیر را کامل کنید. ۳ - ۱۰ -

۳۲ - ۲۴ -

۰ - ۹ - ۱۸ -

۵۶ - ۶۴ -

۱- در یک ماشین توپ سازی وقتی بچه ها توپ های کهنه ی خود را به دورن آن می اندازند، برای هر توپ کهنه ۳ توپ نو از آن خارج می شود. حال اگر بچه ای ۵ توپ کهنه به درون آن بیندازد، به جای آن چند توپ نو جایزه می گیرد؟

۲- اگر تعداد مربع های یک شکل ۲۴ تا باشد. به چند روش می توانیم آن را دسته بندی کنیم؟ با رسم شکل نشان دهید.