
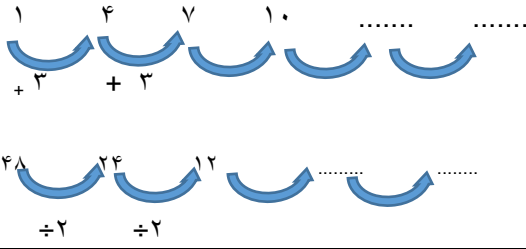

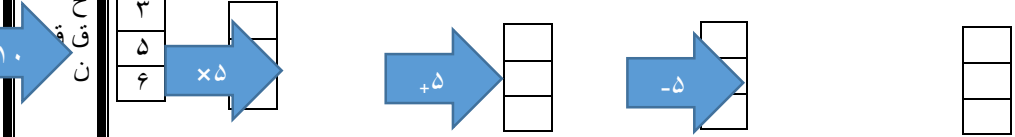


بارم	به نام خدا نام و نام خانوادگی:.....آزمون مدادکاغذی ریاضی چهارم دبستان فصل اول سال تحصیلی c6e.blogfa.com مدرسه ی زیبای من ۱۳۹۳-۹۴						
خ خ ق ق ن	۱- برای مسابقه ی فوتبال ۹۵۷۳۰ نفر تماشاچی به ورزشگاه رفته اند با توجه به این عدد به سوال های زیر پاسخ دهید؟ الف) این عدد چند رقمی است:..... (ب) رقم دهگان هزار آن چند است؟..... ج) ارزش بزرگترین رقم این عدد چیست؟..... (د) با حروف بنویسید؟..... ح) چند نفر دیگر تماشاچی بیاید تا ۱۰۰۰۰۰ نفر تکمیل شود؟.....						
خ خ ق ق ن	۲- با توجه به الگوی مقابل شکل دهم از چند دایره درس شده است؟  (1×3) $(2 \times 3) - 1$ $(3 \times 3) - 2$ ؟ ۱۰						
خ خ ق ق ن	۳- الگوی های عددی را ادامه دهید؟  						
خ خ ق ق ن	۴- جاهای خالی را کامل کنید؟ سی تا ۱۰۰۰ تا برابر است با هزار یعنی عدد:..... ۱۰ تا ۱۰۰ هزار تا برابر است با میلیون یعنی عدد:.....						
خ خ ق ق ن	۵- با توجه به جدول روبرو ، عدد نوشته شده را بخوانید <table border="1" data-bbox="295 1176 678 1265"> <tr> <td>میلیون</td> <td>هزار</td> <td></td> </tr> <tr> <td>۴۵</td> <td>۸۷۷</td> <td>۹۶۲</td> </tr> </table> میلیون و هزار و هزار و	میلیون	هزار		۴۵	۸۷۷	۹۶۲
میلیون	هزار						
۴۵	۸۷۷	۹۶۲					
خ خ ق ق ن	۶- در شکل روبرو یک چک پول ۵۰۰۰۰۰۰ ریالی را می بینید. ۵۰۰۰۰۰۰ ریال یعنی چند تومان؟..... دوتا از این چک پول ها می شود..... ریال یا تومان						
خ خ ق ق ن	۷- رقم های طبقه ی یکی (یکان، دهگان، صدگان) عددهای زیر را حذف کنید و به جای آن ها صفر بگذارید . سپس آن ها را به رقم و حروف بنویسید؟ $۵۴۳۱۷۱ \rightarrow$ $۶۰۳۸۹۱ \rightarrow$						
خ خ ق ق ن	۸- ماشین های ورودی و خروجی را کامل کنید. 						

خ خ ق ق ن	<p style="text-align: right;">۸- عدد‌ها را مقایسه کنید؟</p> <p style="text-align: center;"> 81004958 <input style="width: 30px; height: 15px;" type="text"/> 78009854 9876 <input style="width: 30px; height: 15px;" type="text"/> 8769 </p>																																								
خ خ ق ق ن	<p style="text-align: right;">۹- تساوی هارا کامل کنید؟</p> <p style="text-align: center;"> $800000 + 30000 + 6000 + 500 + 60 + 7 =$ $470074 =$ </p>																																								
خ خ ق ق ن	<p style="text-align: right;">۱۰- مانند نمونه جمع را انجام دهید؟</p> <table style="width: 100%; border-collapse: collapse;"> <tr> <td style="width: 50%; text-align: right; padding-right: 20px;"> $\begin{array}{r} 832002 \\ + 56000 \\ \hline 882002 \\ + 6000 \\ \hline 888002 \end{array}$ </td> <td style="width: 50%; text-align: right;"> $\begin{array}{r} 45035 \\ + 42000 \\ \hline \end{array}$ </td> </tr> </table>	$\begin{array}{r} 832002 \\ + 56000 \\ \hline 882002 \\ + 6000 \\ \hline 888002 \end{array}$	$\begin{array}{r} 45035 \\ + 42000 \\ \hline \end{array}$																																						
$\begin{array}{r} 832002 \\ + 56000 \\ \hline 882002 \\ + 6000 \\ \hline 888002 \end{array}$	$\begin{array}{r} 45035 \\ + 42000 \\ \hline \end{array}$																																								
	<table border="1" style="width: 100%; border-collapse: collapse; text-align: center;"> <thead> <tr> <th style="width: 15%;">ملاک ها</th> <th style="width: 15%;">خیلی خوب</th> <th style="width: 15%;">خوب</th> <th style="width: 15%;">قابل قبول</th> <th style="width: 15%;">نیاز به تلاش</th> </tr> </thead> <tbody> <tr> <td>۱- راهبرد رسم شکل الگویابی در حل مسایل به کار می برد</td> <td></td> <td></td> <td></td> <td></td> </tr> <tr> <td>۲- عدد‌های تا ۹ رقم را می خواند و می نویسد و در جدول ارزش مکانی قرار می دهد</td> <td></td> <td></td> <td></td> <td></td> </tr> <tr> <td>۳- الگوهای عددی یا هندسی ترکیب را کشف کرده و برای جمله ی مورد نظر تعمیم می دهد</td> <td></td> <td></td> <td></td> <td></td> </tr> <tr> <td>۴- الگوها و ماشین های ورودی و خروجی با ضرب و ترکیب با جمع و تفریق را انجام می دهد</td> <td></td> <td></td> <td></td> <td></td> </tr> <tr> <td>۵- گسترده ی عدد‌های تا رقم را می نویسد و محاسبه ی فرضی جمع و تفریق بین آن ها را انجام می دهد</td> <td></td> <td></td> <td></td> <td></td> </tr> <tr> <td>۶- مسئله های عددنویسی را با توجه به شرایط مسئله انجام می دهد</td> <td></td> <td></td> <td></td> <td></td> </tr> <tr> <td>۷- عدد‌های تا ۹ رقم را با هم مقایسه می کند</td> <td></td> <td></td> <td></td> <td></td> </tr> </tbody> </table> <p style="text-align: center; margin-top: 20px;"> بازخورد معلم: <input type="radio"/> خیلی خوب <input type="radio"/> خوب <input type="radio"/> قابل قبول <input type="radio"/> نیاز به تلاش بیشتر <input type="radio"/> </p>	ملاک ها	خیلی خوب	خوب	قابل قبول	نیاز به تلاش	۱- راهبرد رسم شکل الگویابی در حل مسایل به کار می برد					۲- عدد‌های تا ۹ رقم را می خواند و می نویسد و در جدول ارزش مکانی قرار می دهد					۳- الگوهای عددی یا هندسی ترکیب را کشف کرده و برای جمله ی مورد نظر تعمیم می دهد					۴- الگوها و ماشین های ورودی و خروجی با ضرب و ترکیب با جمع و تفریق را انجام می دهد					۵- گسترده ی عدد‌های تا رقم را می نویسد و محاسبه ی فرضی جمع و تفریق بین آن ها را انجام می دهد					۶- مسئله های عددنویسی را با توجه به شرایط مسئله انجام می دهد					۷- عدد‌های تا ۹ رقم را با هم مقایسه می کند				
ملاک ها	خیلی خوب	خوب	قابل قبول	نیاز به تلاش																																					
۱- راهبرد رسم شکل الگویابی در حل مسایل به کار می برد																																									
۲- عدد‌های تا ۹ رقم را می خواند و می نویسد و در جدول ارزش مکانی قرار می دهد																																									
۳- الگوهای عددی یا هندسی ترکیب را کشف کرده و برای جمله ی مورد نظر تعمیم می دهد																																									
۴- الگوها و ماشین های ورودی و خروجی با ضرب و ترکیب با جمع و تفریق را انجام می دهد																																									
۵- گسترده ی عدد‌های تا رقم را می نویسد و محاسبه ی فرضی جمع و تفریق بین آن ها را انجام می دهد																																									
۶- مسئله های عددنویسی را با توجه به شرایط مسئله انجام می دهد																																									
۷- عدد‌های تا ۹ رقم را با هم مقایسه می کند																																									
<p style="margin: 0;"> C6e.blogfa.com مدرسه ی زیبایی من محمد شاکری زاده بیکاه </p>																																									