

بسمه تعالی



دبستان دخترانه غیردولتی هستی

تکلیف آدینه

تاریخ: ۹۳/۰۱/۲۰

پایه: سوم

نام و نام خانوادگی:

ریاضی

۱- در جاهای خالی کلمه ی مناسب بنویس.

الف) فاصله ی دو خط موازی در تمام نقاط با هم است.

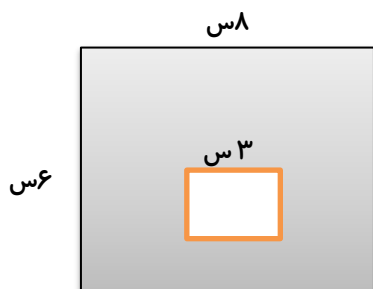
ب) حاصل ضرب هر عدد در یک برابر است با

ج) به جواب ضرب و به جواب تقسیم می گوئیم.

د) هر دایره مرکز ، شعاع و قطر دارد.

۲- محیط مربعی را به دست آور که هر طرف آن ۸ سانتی متر باشد. محیط چند برابر ضلع آن است؟

۳- مساحت قسمت رنگ شده را به دست آور.



۴- بزرگ ترین و کوچک ترین عدد چهار رقمی غیر تکراری را نوشته و اختلاف آن را بدست آور.

۵- آلیس ۹۰۰۰ تومان پول داشت. یک دفتر ۳۴۸۰ تومانی و یک جامدادی ۲۸۰۰ تومانی خرید. او چه قدر

خرج کرده و چقدر برایش باقی مانده است؟

۶- به اعداد زیر ۲۰۰۰ تا اضافه کن و سپس از بزرگ به کوچک مرتب کن.

۴۰۲۰	۱۰۰۰	۹۸۷	۳۴۰۰
_____	_____	_____	_____
_____ >	_____ >	_____ >	_____

..... و و و ۶۳ و ۷۲ و ۸۱

..... و و و ۱۶۷۰ و ۱۵۶۰ و ۱۴۵۰

۸- در جاهای خالی علامت $>$ $=$ $<$ مناسب بگذار.

$$(28 \div 7) \times 9 \quad \square \quad 6 \times 9$$

$$\frac{3}{7} \quad \square \quad \frac{2}{7}$$

$$\frac{4}{6} \quad \square \quad \frac{4}{5}$$

$$1 + 3 + 3 + 3 \quad \square \quad 2 \times 6$$

۹- رضا ۱۲ سال دارد. ۲ سال از برادرش کوچکتر و ۳ سال از خواهرش بزرگتر است. مجموع سن برادر و خواهر رضا چند سال است؟

۱۰- اکنون ساعت ۱۴:۲۰ است. دو ساعت و نیم بعد، برنامه ی کودک شروع می شود. ساعت چند برنامه شروع می شود؟

علوم

*در جاهای خالی کلمه ی مناسب بگذار.

۱) نیرویی که دو آهنربای هم نام بر هم وارد می کنند از نوع است.

۲) نیرو می تواند درمختلف به یک جسم وارد شود.

۳) ترازو وسیله ای است که با آناندازه گیری می شود.

۴) برنج و گندم در گروهطبقه بندی می شوند.

*به سوال های زیر پاسخ کوتاه بده.

۱) در داخل حبابهایی که با آب صابون درست می کنیم چه چیزی وجود دارد؟

۲) چه عاملی باعث تبدیل جامد به مایع می شود؟

۳) کاهو و کلم در کدام گروه از مواد غذایی طبقه بندی می شوند؟

۴) آیا زمین کشاورزی که فقط از ماسه تشکیل شده برای کشاورزی مناسب است؟ چرا؟

* به سوال های زیر پاسخ کامل بده.

۱) در صورتی که یکی از شیرهای آب خوری مدرسه چکه کند ، چه کاری انجام می دهی؟

۲) با توجه به اهمیت وعده غذایی صبحانه ، غذاهایی را که باید در صبحانه بخوری نام ببر.

۳) جاهایی که در آن ها گاز نقش مهم و اساسی دارد ، نام ببر.

۴) چند نوع از کاربرد اهرم ها را در زندگی نام ببر.

فارسی

۱) گزینه ی درست را با علامت * مشخص کن.

الف) کدام کلمه هم خانواده ی واژه ی « مشغول » نیست؟

۱) شاغل ۲) مشعل ۳) شغل ۴) مشغله

ب) در کدام گزینه تمام کلمات درست نوشته شده است؟

۱) محارت ، تصادف ، قصد ۲) اطراف ، فرصت ، خاطره

۳) فارغ ، ظعيف ، ريحان ۴) ماهر ، طابع ، عادل

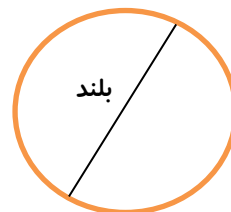
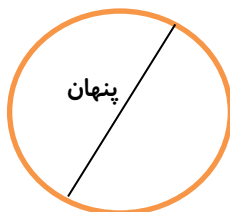
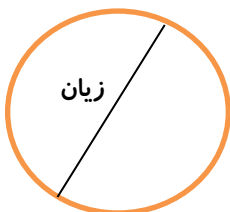
ج) زمان این جمله کدام است؟ (امام علی (ع) به افراد فقیر کمک می کردند .)

۱) گذشته ۲) حال ۳) آینده ۴) هر سه گزینه درست است.

د) کدام کلمه به معنی «چند شهید» است؟

۱) شهادت ۲) شهدا ۳) مشهد ۴) مشاهده

۲) مخالف کلمه های زیر را بنویس.





۳) با استفاده از جعبه کلمات ، جاهای خالی را کامل کن.

۱) من او را به و جوان مردی از خود برتر دیدم.

۲) هر که نان از عمل خورد/منت حام طایی نبرد.

۳) سعدی قرآن و را یاد گرفته بود.

۴) خارکنی فراهم نهاده .

۴) کلمات درهم ریخته را مرتب کن و جمله های با معنی بساز.

- شما - خیلی - دارید - می دانم - دوست - اغلب - مرا

- طول - درختان - چند - سال - بدهند - میوه - می کشد - تا

۵) در ضرب المثل های زیر واژه های گفتاری را به نوشتاری تبدیل کن.

- مار از پونه بدش میاد دم لونه ش سبز می شه :

- مار گزیده از ریسمون سیاه و سفید می ترسه :

- از کیسه ی خلیفه می بخشه .

۶) چند تا از کلمات زیر را انتخاب کن و با استفاده از آنها یک داستان بنویس.

دست ها - خورشید - ملخ - عینک آفتابی - سطل - ساعت - کیوی - موج دریا - لاک پشت - دوربین عکاسی -

شمع - جاده - لانه ی پرنده - رنگین کمان

۷) به سوال های زیر پاسخ کوتاه بده.

۱) دو شاعر بزرگ ایرانی را نام ببر.

۲) زادگاه یعنی چی ؟

۳) خاطرات یعنی

۴) به کسی که جان خود را فدای دیگران می کند چه می گویند؟

۵) هم خانواده کلمه ی انضباط چیست ؟