

نام و نام خانوادگی:

آزمون عملکردی

دستان: فاضل

پایه: چهارم ۱

نام درس: ریاضی

شیوه‌ی اجرا: فردی گروهی

موضوع: استفاده از ابزار

مدت آزمون: ۳۰ دقیقه

تاریخ آزمون: ۱۳ / /

هدف کلی: چگونگی استفاده از ابزار ریاضیات


وسایل مورد نیاز: خط کش - پرگار - گونیا

شرح فعالیت:


۱- هر یک از زاویه های خواسته شده را در کادر مربوط خودش بکش.



زاویه ی باز

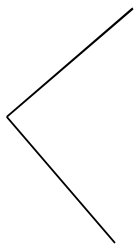


زاویه ی تند



زاویه ی راست

۲- با استفاده از خط کش و پرگار نیم ساز زاویه ی زیر را بکش.



ردیف	انتظارات	خیلی خوب	خوب	قابل قبول	نیاز به تلاش بیشتر
۱	زاویه های مربوطه را درست ترسیم کرده است.				
۲	نیم ساز مربوطه را درست ترسیم کرده است.				
۳	زاویه راست و کمان ها را با گونیا و پرگار زیبا کشیده است.				
۴	نظم و تمیزی را در فعالیت های مربوطه رعایت کرده است.				

باز خورد:

آموزگار پایه ی چهارم ۱ دبستان فاضل ورزنده