

۱- مینا یک کتاب داستان دارد که ۳۹ صفحه می باشد. او موقع خواندن کتاب متوجه شد که از صفحه ۸ یکبار به صفحه ۱۳ رسید. گویا خواهر کوچک او ورق های کتابش را پاره کرده بود. چند ورق از کتاب مینا را خواهرش پاره کرده است؟

- الف) ۱ ب) ۲ ج) ۴ د) ۵

۲- علامت های مناسب در جای خالی به ترتیب کدام گزینه درست است؟
 $5 \circ 3 \circ 9 \circ 5 = 6$

- الف) +++ ب) --+ ج) -+- د) ++-

۳- به جای علامت سوال چه عددی باید بگذاریم؟
 $3 - 4 - 6 - 9 - 13 - ?$

- الف) ۱۵ ب) ۳ ج) ۱۸ د) ۱۹

۴- از یک کلاس پایه سوم مدرسه طاهری در شهر یزد که ۲۸ نفر می باشند امروز ۶ نفر غایب بودند. اگر روی هر نیمکت کلاس ۲ نفر بنشینند چند نیمکت در کلاس امروز پر می باشد؟

- الف) ۱۱ ب) ۲۰ ج) ۱۴ د) ۱۶

۵- معلم سارا امروز به بچه ها درس جدید می داد. او روی تخته عددهای زیر را نوشت. عدد بعد از ۱۵ به نظر شما چه عددی باید باشد؟
 $9 - 11 - 13 - 15 - ?$

- الف) ۱۶ ب) ۱۷ ج) ۱۱ د) ۲۴

۶- اگر فردا تولد آیناز باشد و آن روز دوشنبه باشد، امروز چندشنبه خواهد بود؟

- الف) شنبه ب) یکشنبه ج) سه شنبه د) چهارشنبه

۷- دو ضلع یک مربع را اندازه گرفتیم ۲۴ سانتی متر شد. اگر همه ضلع های مربع را با هم اندازه بگیریم چه عددی بدست می آید؟

- الف) ۳۴ ب) ۱۲ ج) ۴۴ د) ۴۸

۸- مجموع سن میترا و خواهر و برادرش ۲۷ شده است. یکسال بعد مجموع سن این سه نفر چند خواهد شد؟

- الف) ۲۹ ب) ۳۰ ج) ۳۳ د) ۲۸

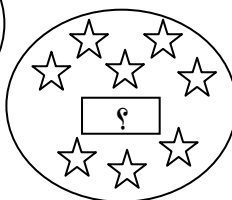
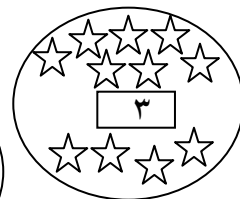
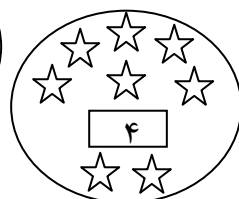
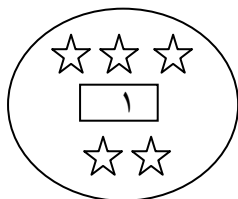
۹- اگر علی روی دایره ۳ باشد و با هر پرش از ۲ دایره عبور کند، بعد از ۲ پرش به چه عددی می رسد؟



- الف) ۱۷ ب) ۲۱

- ج) ۱۳ د) ۲۳

۱۰- به جای علامت سوال چه عددی باید بگذاریم؟



- الف) ۲ ب) ۸

- ج) ۵ د) ۱

