
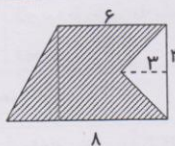
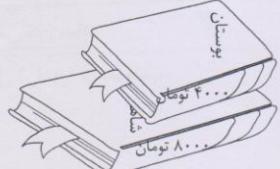


ریاضی

۱	<p>آهنگری می خواهد یک تیر آهن ۱۸ متری را طوری برش دهد که طول یکی ۲ برابر دیگری باشد بعد از برش طول هر قطعه آهن چند متر است؟ آه!</p> <p>کوچکتر $2+1=3$ بزرگتر $1 \times 2 = 2$ مجموع طول فرضی $2 \times 2 = 4$ مجموع طول هر دو $2 \times 4 = 8$</p>
۲	<p>چند درصد از شکل های مقابل مثلث است؟</p> <p>  </p> <p> $\frac{3 \times 30}{40} = 22.5\%$ $\frac{2 \times 30}{40} = 15\%$ $\frac{5}{100} = 5\%$ مجموع $22.5 + 15 + 5 = 42.5\%$ </p>
۳	<p>با توجه به عدد اعشاری ۹۱۴/۲۱۶ به سوالات پاسخ دهید.</p> <p>الف) عدد اعشاری را با حروف بنویسید. نه صروجها رده هجده صد و بیست و شانزده هزارم ب) مرتبه (ارزش مکانی) ۲ در عدد بالا چیست؟ <i>دهم</i></p>
۴	<p>اگر طول قطر مربعی ۸ سانتی متر باشد، مساحت مربع چند سانتی متر مربع است؟</p> <p>$(8 \times 8) \div 2 = 32$</p>
۵	<p>مساحت قسمت رنگی را حساب کنید.</p> <p>  </p> <p>مساحت کل $(6+8) \times 4 \div 2 = 28$ مثلث $(2 \times 3) \div 2 = 3$ هاشور $28 - 3 = 25$</p>
۶	<p>شیشه ی کلاس پنجم دبستان شکسته است. اگر اضلاع این شیشه ۰/۵ و ۱/۵ متر و قیمت هر متر مربع شیشه ۴۰۰۰ تومان باشد، هزینه ی خرید این شیشه را حساب کنید.</p> <p> $\frac{1}{5} \times \frac{1}{5} = \frac{1}{25}$ $\frac{1}{25} \times 4000 = 160$ </p> <p> $\frac{1}{5} \times \frac{1}{5} = \frac{1}{25}$ $\frac{1}{25} \times 4000 = 160$ </p>
۷	<p>امین از یک کتاب فروشی کتاب های بوستان سعدی و شاهنامه ی فردوسی را با ۱۰٪ تخفیف خریداری کرد. او برای خرید این کتاب ها چند تومان باید بپردازد؟</p> <p>  </p> <p> $\frac{12000}{100} \times 90 = 10800$ $\frac{10000}{100} \times 90 = 9000$ </p>
۸	<p>حاصل ضرب تقریبی دو عدد ۳۲۰۰ شده است. اگر یکی از اعداد ۸۵ بوده باشد، عدد دیگر کدام است؟</p> <p style="text-align: center;"> <input type="radio"/> ۳۲ <input type="radio"/> ۴۸ <input checked="" type="radio"/> ۳۵ <input type="radio"/> ۲۷ </p>

۹	<p>هواپیمای زائران ایرانی ساعت ۲۰ در فرودگاه اهواز به زمین نشست. اگر پرواز این هواپیما ۵۲ : ۱۲ : ۳ طول کشیده باشد، این هواپیما چه ساعتی از مدینه پرواز کرده است؟</p> <p>۲۰ : ۰۰ : ۰۰ ۳ : ۱۲ : ۵۲ ----- ۱۷ : ۴۷ : ۰۸</p>								
علوم									
۱	<p>کدام یک از عوامل فرسایش خاک نمی باشد؟</p> <p>سیل <input type="radio"/> زلزله <input type="radio"/> تخریب جنگل ها <input type="radio"/> کاشت درخت <input checked="" type="radio"/></p>								
۲	<p>با کدام وسیله می توان نور را تجزیه کرد؟</p> <p>لوله ی خودکار بی رنگ <input type="radio"/> قطرات ریز آب <input type="radio"/> منشور <input type="radio"/> همه ی موارد <input checked="" type="radio"/></p>								
۳	<p>کدام یک از موارد زیر چشمه ی مصنوعی نور هستند؟</p> <p>شمع <input checked="" type="radio"/> کرم شب تاب <input type="radio"/> خورشید <input type="radio"/> ستارگان <input type="radio"/></p>								
۴	<p>معادن زمین در کدام لایه قرار دارند؟</p> <p>هسته ی بیرونی <input type="radio"/> هسته ی درونی <input type="radio"/> پوسته <input checked="" type="radio"/> گوشته <input type="radio"/></p>								
۵	<p>جنس پوسته زمین از ... است.</p> <p>سنگ</p>								
۶	<p>به مواد جامد دانه ریز که از دهانه آتش فشان خارج می شوند ... می گویند.</p> <p>خاکستر</p>								
۷	<p>دو مورد از اهمیت جلبک ها را بنویسید. <u>غذای جان داران آبی - از آن ها مواد غذایی می آید که از آن ها در صنعت پستیج سازی و همبر دوزان سازی استفاده می شود</u></p>								
۸	<p>قارچ ها در چه شرایطی رشد مناسب دارند؟ <u>مکان های مرطوب، مواد غذایی مخصوصاً مایه ها و نانهای مناسب را بشود</u></p>								
۹	<p>در تبدیل شیر به ماست کدام گروه از جانداران نقش دارند؟</p> <p>ویروس ها <input type="radio"/> قارچ ها <input type="radio"/> باکتری ها <input checked="" type="radio"/> جلبک ها <input type="radio"/></p>								
فارسی									
۱	<p>جاهای خالی را با کلمه های مناسب پر کنید.</p> <p>الف: به کسی که می خواهد در مورد یک موضوع علمی مطالعه کند ... می گوئیم.</p> <p>ب: می خواستم معنی کلمه (نومید) را بدانم به همین دلیل به کتاب لغت ... مراجعه کردم.</p>								
۲	<p>برای هر کلمه یک کلمه ی هم خانواده بنویس.</p> <p>تحقیق (محقق) تاریخ (مورخ) راضی (رضایت رفا) ظلم (ظالم)</p>								
۳	<p>نهاد و گزاره ی جمله های زیر را مشخص کنید.</p> <p>مرآت ، یکی از امتحانات علمی دبستان غیر دولتی است.</p> <p>چو ایران نباشد تن من مباد.</p>								
۴	<p>شش صورت فعل (رفتن) را بنویسید.</p> <table border="1" style="width: 100%;"> <tr> <td>مفرد</td> <td>جمع</td> </tr> <tr> <td>رفتم</td> <td>رفتیم</td> </tr> <tr> <td>رفتی</td> <td>رفتید</td> </tr> <tr> <td>رفت</td> <td>رفتند</td> </tr> </table>	مفرد	جمع	رفتم	رفتیم	رفتی	رفتید	رفت	رفتند
مفرد	جمع								
رفتم	رفتیم								
رفتی	رفتید								
رفت	رفتند								