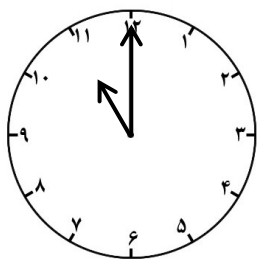


www.moalem98.blogfa.com

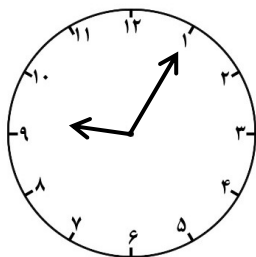
جمع و تفریق کن .

۳۳۲	۱۸۵	۲۰۴	۱۴۱	۲۸۴	۵۷۴	۳۷۸
<u>+ ۲۰۸</u>	<u>+ ۱۵۸</u>	<u>+ ۱۲۹</u>	<u>+ ۲۵۹</u>	<u>+ ۳۵۹</u>	<u>+ ۱۸۵</u>	<u>+ ۲۵۴</u>
۸۹۵	۸۴۱	۶۰۲	۷۶۰	۸۰۷	۵۸۴	۸۷۴
<u>- ۴۵۵</u>	<u>- ۴۷۸</u>	<u>- ۲۴۵</u>	<u>- ۱۳۴</u>	<u>- ۴۰۹</u>	<u>- ۳۸۹</u>	<u>- ۱۲۵</u>

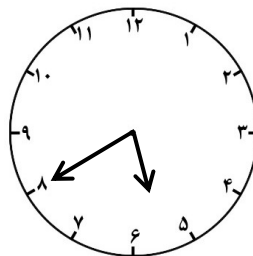
ساعت ها را بنویس .




.....



.....

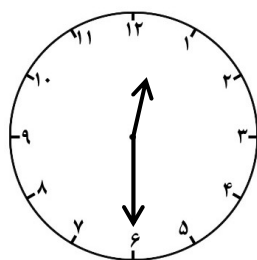


.....

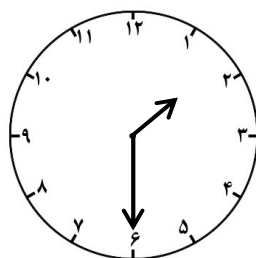


.....

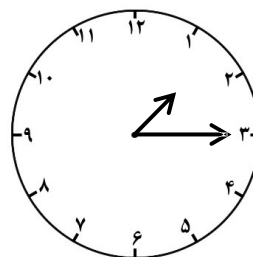
جاهای خالی را با کلمه های « نیم و ربع » کامل کن .



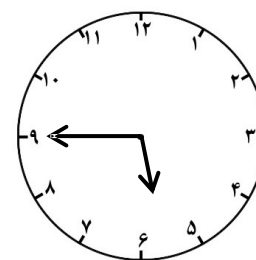
ساعت دوازده و



..... ساعت از یک گذشته

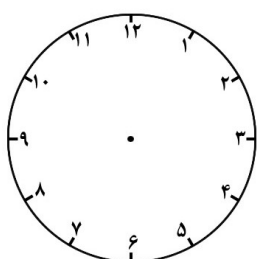


ساعت یک و

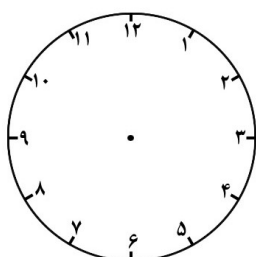


یک مانده به ۶

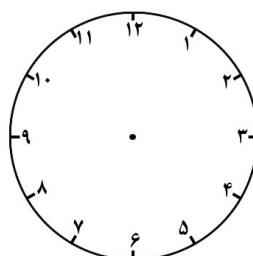
عقربه های هر ساعت را بکش .



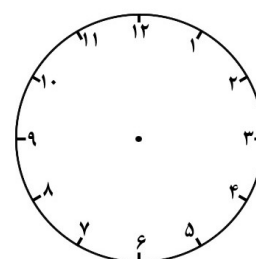
۳:۳۰



۱۱ و ربع

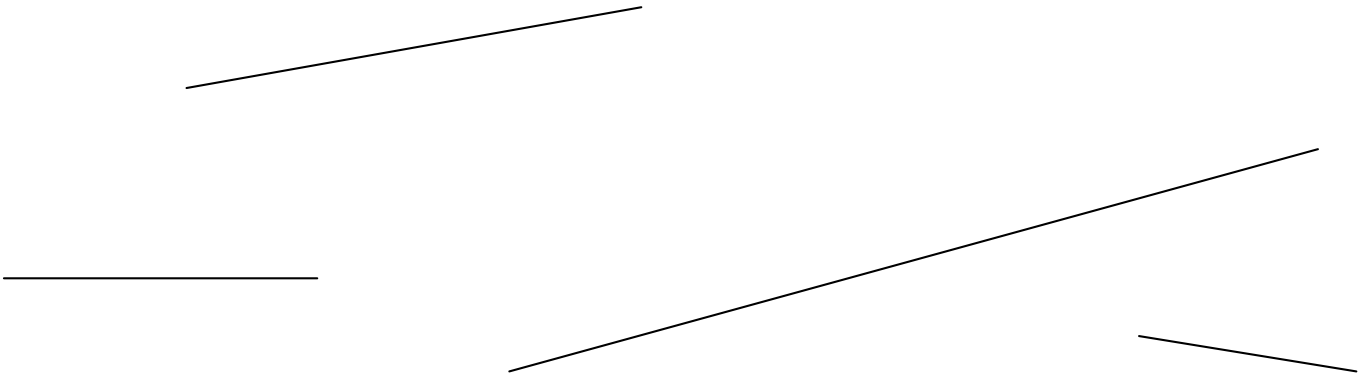


۳ و ده دقیقه




۲۰ دقیقه مانده به ۷

خط ها را اندازه بگیر و اندازه ی آن ها را روی خط ها بنویس .



اندازه ی این خط ها را به میلی متر روی آن ها بنویس .



خط های خواسته شده را بکش .

۵ سانتی متر

۷۴ میلی متر

۳۰ میلی متر

۱۰ سانتی متر و ۸ میلی متر

۵ سانتی متر و ۵ میلی متر