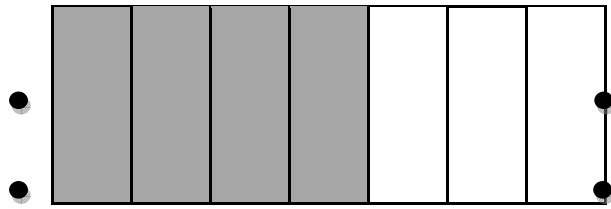


در شکل زیر ابتدا کسری را که شکل نشان می دهد را پیدا کنید. سپس نقاط رو به رو را به هم وصل کنید و یک تساوی بنویسید.



در هر یک از تساوی های زیر به جای مربع، عدد مناسب بنویسید

$$\frac{4}{7} = \frac{12}{\square}$$

$$\frac{5}{6} = \frac{\square}{24}$$

$$\frac{12}{27} = \frac{\square}{9}$$

$$\frac{35}{84} = \frac{5}{\square}$$

در هر یک از عبارت های زیر هر کدام از نماد های  $>$ ،  $<$ ،  $=$  را که مناسب است بنویسید.

$$\frac{8}{15} \square \frac{2}{15}$$

$$\frac{7}{9} \square \frac{8}{9}$$

$$\frac{2}{7} \square \frac{3}{14}$$

$$\frac{3}{11} \square \frac{9}{33}$$

جمع و تفریق های زیر را انجام دهید.

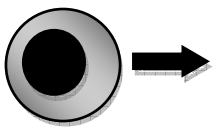
$$\frac{2}{7} + \frac{3}{7} =$$

$$\frac{7}{9} + \frac{8}{9} =$$

$$\frac{8}{10} - \frac{3}{10} =$$

$$\frac{9}{11} - \frac{3}{11} =$$

تقسیم این سلول را در چهار مرحله با رسم شکل نشان بده.



همانطور که می دانید آب دریا نوعی محلول است. حلال و حل شونده را در آن نشان دهید

حل شونده:

حلال:

مواد رسانا را با رنگ سبز و مواد نارسانا را با رنگ قرمز مشخص کن.

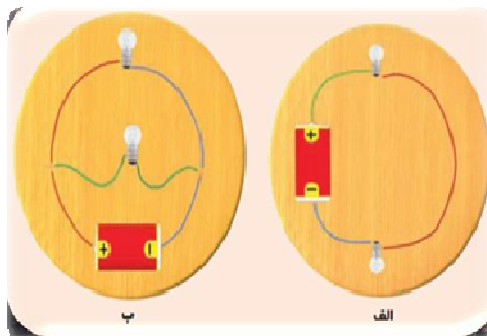
آهن

پلاستیک

چوب

مس

شش




کدام یک از مدار های زیر موازی و کدام یک متوالی است؟

شکل الف: .....

شکل ب: .....

سیم کشی اتاق های خانه ی شما جزو کدام یک از این مدار ها است؟ چرا؟

نام هر سیاره را حدس بزن و کنار آن بنویس.



در این محل ها از چه نوع آینه ای استفاده می شود

آرایشگاه  اتومبیل  سر پیچ جاده ها  کوره آفتابی

آنچه گیاه برای غذاسازی نیاز دارد				
۱	۲	۳	۴	۵

برایم بگو:

- .....آوند چیست؟
- .....علف هرز چیست؟
- .....آفت چیست؟
- .....انگل چیست؟
- .....بازتابش نور چیست؟
- .....مدار الکتریکی چیست؟
- .....آهن ربای الکتریکی چیست؟
- .....منظومه شمسی چیست؟

چگونگی به وجود آمدن:	۱	
چگونگی به وجود آمدن:	۲	انواع سنگ ها
چگونگی به وجود آمدن:	۳	

اصطلاحات زیر را تعریف کنید.

جلگه:

آبرفت:

دریا:


دانش جغرافیا:

نقشه:

ناهمواری:

دشت:

بیلاق و قشلاق:



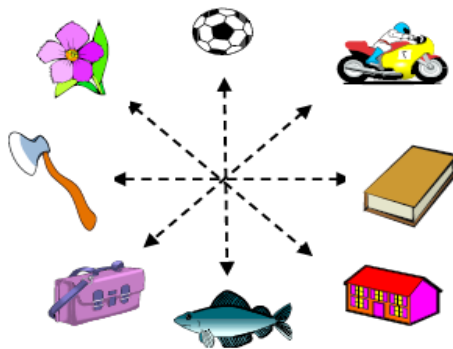
جبت شکل های زیر را بنویس.

ماهی : .....

گل .....

تبر : .....

توپ .....



کیف : .....

موتور : .....

کتاب : .....

خانه : .....

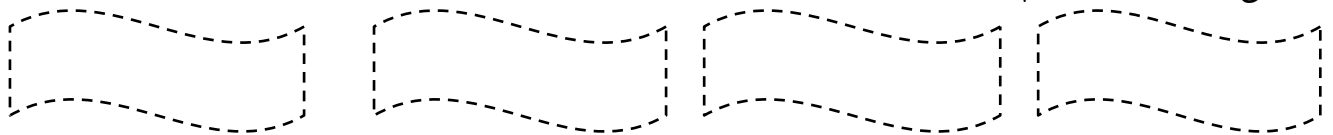
جدول زیر را کامل کن

دریای خزر	اهمیت: .....
خلیج فارس و دریای عمان	اهمیت: .....

در جدول زیر موارد خواسته شده را کامل کن.

نام دو جزیره	نام دو بندر بازرگانی	نام دو بندر نفتی
.....(۱)	.....(۱)	.....(۱)
.....(۲)	.....(۲)	.....(۲)

اولین شهرها در کنار کدام رودها به وجود آمدند؟



چهار مورد از کارهایی را که در زمان داریوش انجام شد را بنویس.

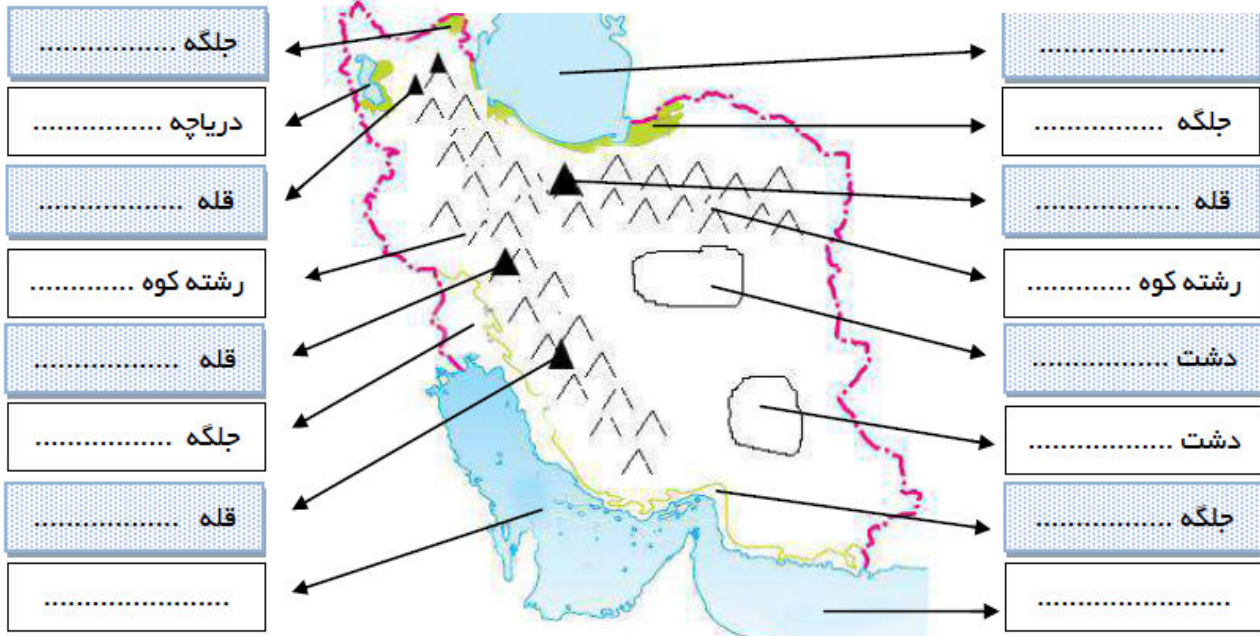
.....

.....

.....

.....

با توجه به نقشه ایران نام قسمت های خواسته شده را بنویسید.



وظیفه هر کدام از افراد زیر در مدرسه چیست؟

مدیر مدرسه:

ناظم مدرسه:

معلم مدرسه:

دانش آموز:

در مسجد چه کارهایی انجام می شود؟

معنای نظم چیست؟

.....

زندگی ایلی و عشایری چه تفاوتی با زندگی روستایی دارد؟ دو مورد بنویس.

.....

کشف آتش چه کمک هایی به انسان کرد؟ سه مورد بنویس.

.....

پایتخت مادها و هخامنشیان کجا بود؟

پایتخت اشکانیان کدام شهر بود؟ و چرا آن را تغییر دادند؟

سورنا که بود و چه کرد؟


هریک از تصویرهای زیر کدام نوع از آب و هوای ایران را نشان می دهد. و دو ویژگی آن نوع آب و هوا را بنویسید



نوع آب و هوا:.....  
 ویژگی:.....  
 ویژگی:.....



نوع آب و هوا:.....  
 ویژگی:.....  
 ویژگی:.....



نوع آب و هوا:.....  
 ویژگی:.....  
 ویژگی:.....

(۳)	(۲)	(۱)	سه گروه آریایی ها ←
			محل سکونت ←

در قسمت زیر یک خاطره خوب که در ایام تعطیلات نوروز برایت پیش آمده یا مسافرتی که در این روزها داشتی بنویس.  
 یا یک نقاشی زیبا در مورد این روزها بکش.

