

به نام خدا




نام و نام خانوادگی :
کلاس دوم
دبستان شهید اندرزگو
سال تحصیلی ۹۳ - ۹۲
شماره ی ۲۱

هر کس به من حرفی پیاموزد مرا پنده ی خود ساخته است

حضرت علی (ع)

amoozgare-andarzgoo.blogfa.com

کامل کن و رنگ بزن .



هدیه های آسمان

دین اسلام به ما سفارش می کند وقتی همدیگر را می بینیم اول و بعد حرف بزنیم .

به گفته ی امام حسین (ع) چه کاری هفتاد پاداش دارد ؟

ذکری که در پایان نماز برای درود فرستادن به پیامبر خدا می گوئیم را به همراه معنای آن بنویس .

.....

.....

منظور از آیه ی (و ما از آسمان ، آبی پاکیزه فرستادیم) کدام نعمت خداوند است ؟

کدام یک وقت نماز را به ما اعلام می کند؟

صدای خروس زنگ ساعت اذان دعا

کدام نماز سه رکعت است؟

فارسی

با کمک کلمه های (خوردم - شور - بلند) جمله ها را کامل کن .

آن قدر به غذا نمک زدم که غذا شد و به زور آن را

دیروز در بازی چند بار زمین ولی زود از جا شدم .

بچه ها هر روز با و شوق و با صدای سرود ملی را می خوانند .

پدای کلمه های زیر دو جمله بنویس که معنای آن ها فرق داشته باشد .

.....

بُرد

.....

.....

دفتر

.....

.....

مهر

.....

ریاضی

۱- محمد یک کتاب ۱۱۵ صفحه ای را می خواهد در دو روز بخواند . اگر در روز اول ۷۸ صفحه از کتاب را بخواند چند صفحه را باید در روز دوم بخواند ؟

۲- وزن حسین و برادرش روی هم ۱۲۰ کیلو است اگر حسین ۴۶ کیلو باشد برادرش چند کیلو است؟

۳- از یک موکت دو متری ، یک متر و سی و سه سانتی متر آن بریده شده است . چند سانتی متر از این موکت باقی مانده است ؟

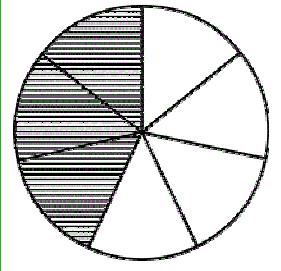
۴- قیمت یک توپ ۳۴۰ ریال است . اگر حمید ۹۵ ریال و رضا ۱۱۰ ریال داشته باشند چقدر دیگر لازم دارند تا بتوانند این توپ را بخرند ؟

جمع و تفریق های زیر را انجام دهید .

$$\begin{array}{r} 710 \\ + 136 \\ \hline \end{array} \quad \begin{array}{r} 882 \\ - 128 \\ \hline \end{array} \quad \begin{array}{r} 415 \\ + 108 \\ \hline \end{array} \quad \begin{array}{r} 905 \\ - 300 \\ \hline \end{array}$$

$$\begin{array}{r} 942 \\ - 306 \\ \hline \end{array} \quad \begin{array}{r} 614 \\ + 99 \\ \hline \end{array} \quad \begin{array}{r} 630 \\ - 521 \\ \hline \end{array} \quad \begin{array}{r} 471 \\ + 339 \\ \hline \end{array}$$

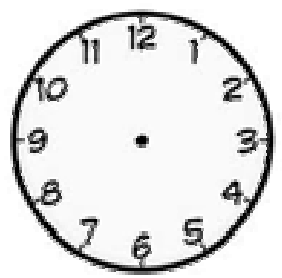
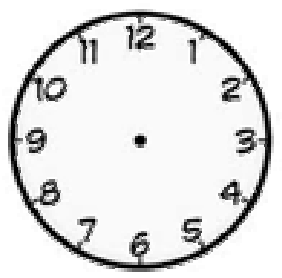
با توجه به شکل روپرو جمله ها را کامل کن .



..... قسمت از قسمت دایره رنگ شده است .

..... قسمت از قسمت دایره رنگ نشده است .

با رنگ زدن ربع ساعت و نیم ساعت را نشان بده .



کامل کن .

به عروسکی که از پلاستیک ساخته شده است می گویند .

لیوان شیشه ای یعنی

به لباسی که از پشم ساخته شده است می گویند .

همدانی یعنی

به کسی که اهل زاهدان باشد می گویند .

کاشانی یعنی

به پرسش ها پاسخ بده .

کدام رنگ از پرچم کشورمان نشانه ی خون شهیدان است ؟

نشانه ی وسط پرچم به شکل کدام گل است ؟

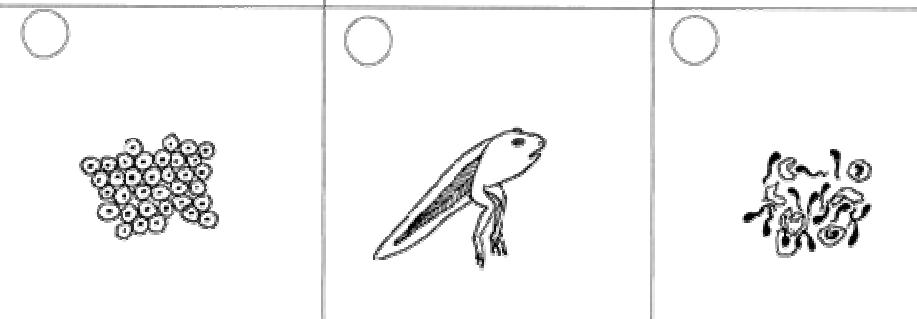
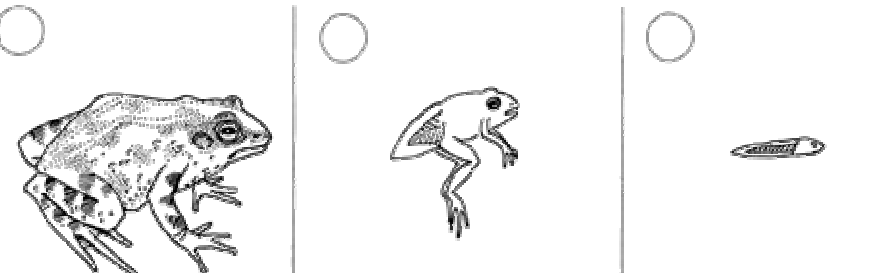
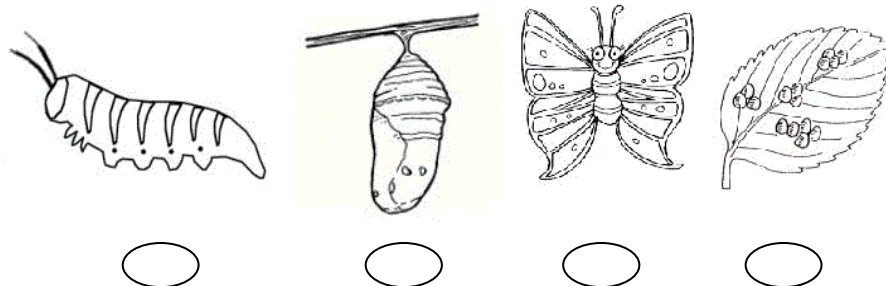
چند (الله اکبر) در پرچم کشورمان وجود دارد و یاد آور چیست ؟

کدام رنگ پرچم کشورمان نشانه ی سرسبزی است ؟

غیر از پرچم چه چیزی نماد کشور عزیزمان است ؟

علوم

مراحل رشد پروانه و قورباغه را به ترتیب شماره گذاری کن .



کرم خاکی چه فایده ای برای کشاورزی دارد ؟

