

به نام خدا



هر کس به من حرفی پیاموزد مرا پنده ی خود ساخته است

حضرت علی (ع)

amoozgare-andarzgoo.blogfa.com

ریاضی

جمع و تفریق های زیر را انجام بده .

$$211 + 423 =$$

$$210 + 661 =$$

$$634 - 255 =$$

$$888 - 263 =$$

حسین برای خریدن یک کفش به ۸۵۵ ریال پول احتیاج دارد اگر از قلکش ۳۶۰ ریال بردارد و ۲۴۵ ریال هم از پدرش بگیرد چقدر دیگر لازم دارد تا بتواند کفش را بخرد؟

بنایی برای ساختن یک دیوار که دوازده ردیف دارد و در هر ردیف ۸ بلوک سیمانی به کار رفته به چند عدد بلوک سیمانی نیاز دارد؟ (با کمک الگویابی منظم از طریق جمع جواب را پیدا کن)




.....
.....
.....
.....
.....
.....



.....
.....
.....
.....
.....

فارسی


هر کدام از این تصاویر مربوط به کدام شخص و مکان مهم کشورمان است ؟



.....

.....

.....



.....

.....

.....




.....

.....

.....

برای تصاویر یک داستان بنویس و آن ها را رنگ کن .



.....

.....

.....

.....

.....

.....

.....

.....

.....

.....

.....

.....

.....

.....

.....

.....

.....

.....

.....

.....

.....

.....

.....

کامل کن .

آزمایشگاه یعنی جایی که

فرودگاه یعنی

تفریح گاه :

عبادت گاه :

اردوگاه :

دوازده کلمه بنویس که فقط با یکی از (ها-ان) بشود آن را ترکیب

کرد .

.....

.....

.....

.....

.....

.....

.....

.....

.....

.....

.....

.....

.....

.....

.....

.....

.....

.....

.....

.....

.....

.....

.....

با کلمه های زیر جمله بساز .

جشن :

۲۲ بهمن :


راهپیمایی :

آزادی :

کشور عزیزمان :

با شکوه :

درباره ی یکی از مکانهای دیدنی کشور که به آن سفر کرده ای بنویس .



.....

.....

.....

.....

.....

.....



.....

.....

.....

.....

.....

.....