


## مسابقه علمی

پایه دوم دبستان / بهمن ماه ۱۳۹۱ / حیابی



اسم و فامیل : .....

# فارسی

۱ - املای کدام کلمه اشتباه نوشته شده است؟

- الف - حوض       ب - حیاط       پ - وضوخوانه       ت - حمله
- 

۲ - با ادب یعنی .....

- الف - کسی که ادب ندارد.       ب - کسی که با ادب است   
پ - کسی که ادب دارد       ت - کسی که با ادب نیست
- 

۳ - کدام کلمه هم با (ها) هم با (ان) جمع می شود؟

- الف - سیب       ب - گوسفند       پ - کتاب خانه       ت - سوت
- 

۴ - کدام کلمه با (سخت کوش) هم خانواده نیست؟

- الف - سخت گیر       ب - سختی       پ - سخت پوست       ت - سخن گو
- 

۵ - این گنجشک یعنی .....

- الف - گنجشک ها       ب - همان گنجشک       پ - همین گنجشک       ت - گنجشکی که دور است
- 

۶ - (ی) در پایان کدام کلمه صدای آ می دهد؟

- الف - سینی       ب - یحیی       پ - ماهی       ت - صدای
- 

۷ - جمله ی رو برو با کدام کلمه ، کامل می شود؟ ( پدرم قول داد بعضی از داستان های شاهنامه را برایم ..... )

- الف - تعریف خواهد کرد       ب - تعریف کرده       پ - گفت       ت - تعریف کند

## علوم

۸ - در ..... آب رودخانه را به آب آشامیدنی تبدیل می کنند.

- الف - استخرهای بزرگ     ب - تصفیه خانه     پ - لوله های آب     ت - حوض
- 

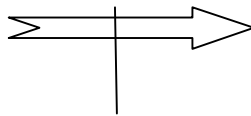
۹ - وقتی شب می شود مایع رنگین دماسنج پایین می آید. چون .....

- الف - همه جا سایه است     ب - گرمای خورشید تمام شده است

- پ - تاریک است     ت - لامپ ها روشن می شود
- 

۱۰ - بیش تر جانداران در شب .....

- الف - استراحت می کنند     ب - می خوابند     پ - راه می روند     ت - شکار می کنند
- 



۱۱ - در شکل رو برو ، باد از کدام طرف می وزد؟

- الف - بالا     ب - پایین     پ - راست     ت - چپ
- 

۱۲ - پدر علی می خواهد خاکِ خوبِ کشاورزیِ مزرعه اش از بین نرود. او باید.....

- الف - هرروز به آن آب بدهد     ب - در آن گیاه بکارد

- پ - روی آن را بپوشاند     ت - آن ها را جمع کند
- 

۱۳ - ساناز به دهانه ی بطری فوت می کند و صدا تولید می کند. چون .....

- الف .بطری می لرزد     ب - هوای داخل بطری می لرزد

- پ - هوای دهان ساناز می لرزد     ت - ساناز در حال سوت زدن است



۱۴ - مریم و مینا شکل روبرو را ساخته و جلو نور گرفته اند. کدام قسمت شکل، سایه ندارد؟

- الف - تمام شکل       ب - داخل شکل       پ - دور شکل       ت - خط وسط

۱۵ - از آتش برای گرم شدن و ..... می توان استفاده کرد

- الف - بازی       ب - آتش سوزی       پ - پختن غذا       ت - زیبایی

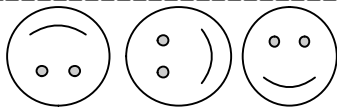
## ریاضی

۱۶ - با رقم های ۶ و ۹ و ۰ ، چندتا عدد سه رقمی می توانیم بسازیم؟

- الف - ۶ تا       ب - ۴ تا       پ - ۳ تا       ت - ۷ تا

۱۷ - عدد بعدی کدام است؟ ..... - ۵۶ - ۵۴ - ۵۲ - ۵۰

- الف - ۶۰       ب - ۴۸       پ - ۵۸       ت - ۸۵



۱۸ - شکل بعدی روی نقطه چین، کدام شکل می شود؟ .....

- الف -       ب -       پ -       ت -

۱۹ - اگر الان ساعت ۷ باشد سه ساعت و نیم دیگر، ساعت چند می شود؟

- الف - ۷ و نیم       ب - ۹ و نیم       پ - ۱۰ و ربع       ت - ۱۰ و نیم

۲۰ - حاصل جمع  $۱۴۰ + ۳۲۰$  می شود.....

- الف - ۴۴۰       ب - ۴۳۰       پ - ۴۶۰       ت - ۴۵۰

۲۱- در ..... ضلع های روبرو باهم مساوی هستند.

- الف - مربع       ب - دایره       پ - مثلث       ت - مستطیل
- 

۲۲- اندازه ی مدارِ سامان ۹ سانتی متر و ۳ میلی متر است. فکرمی کنی مدارِ سامان چند میلی متر باشد؟

- الف - ۱۲ میلی متر       ب - ۹۳ میلی متر       پ - ۳۹ میلی متر       ت - ۱۲۰ میلی متر
- 

## هدیه و قرآن

۲۳- چه کسی نیمه شب ، برای همسایه ها و دوستانش دعا می کرد؟

- الف - امام حسن ع       ب - امام حسین ع       پ - حضرت فاطمه س       ت - امام سجّاد ع
- 

۲۴- برای گرفتن وضو ، اولین کاری که انجام می دهیم چیست؟

- الف - دست هایمان را می شویم       ب - نیت می کنیم   
پ - صورتمان را می شویم       ت - دست راست را می شویم
- 

۲۵- کدام یک از پیامبران زیر از پیامبران بزرگ نیستند؟

- الف - حضرت نوح ع       ب - حضرت ابراهیم ع       پ - حضرت یوسف ع       ت - حضرت محمد ص
- 

۲۶- حضرت محمد ص به ..... معروف بود.

- الف - محمد امین       ب - نیکوکاری       پ - راستگویی       ت - خوش اخلاقی
-

۲۷- اهل بیت، ( پیامبر ص ، حضرت زهرا س ، حسن ع، حسین ع ، ..... ) بودند.

- الف - ام کلثوم       ب - امام علی ع       پ - زینب س       ت - خدیجه س
- 

۲۸- بهترین راه حرف زدن با خدای مهربان چیست؟

- الف - قرآن خواندن       ب - نماز خواندن       پ - وضو گرفتن       ت - روزه گرفتن
- 

۲۹- پیامبر ص می فرمود: اخلاق و رفتار ..... شبیه اخلاق و رفتار من است.

- الف - فاطمه س       ب - حسین ع       پ - علی ع       ت - حسن ع
- 

۳۰ - معنی پیام قرآنی ( وَاقِمِ الصَّلَاةَ لِذِكْرِي ) کدام گزینه است؟

- الف - با خواندن نماز، به یاد خدا باش       ب - ای فرزندم نماز بخوان
- پ - همه ی نعمت ها را خدا به ما بخشیده است       ت - بخورید و بیاشامید ولی اسراف نکنید
- 

۳۱- این علامت ( ) چه صدایی دارد؟

- الف - ن       ب - نُ       پ - آ       ت - نَ
- 

خسته نباشی دانش آموز کوشای من

نیازمند به تلاش بیشتر	قابل قبول	خوب	خیلی خوب