

۱. عدد ۳۰۸ را با رسم شکل و جدول نشان بده و جاهای خالی را کامل کن .

به حروف : .....

این عدد چند رقم دارد ؟ .....

رقم های آن را بنویس . .....

۲. بخوان و بنویس .

پانصد و هجده : .....

۸۷۸ : .....

سیصد و نه : .....

۶۱۰ : .....

۳. با رقم های ۳۷۱ کوچکترین عدد سه رقمی را بنویس . .....

بزرگترین عدد سه رقمی بدون تکرار رقم کدام است ؟ .....

عدد سه رقمی هستم که یکانم یکی بیش تر از کوچکترین عدد یک رقمی، دهگانم دو تا بیش تر از یکان و

صدگانم یکی کمتر از بزرگترین عدد دو رقمی . .....

۳ صدتایی و ده ده تایی و ۸ یکی برابر است با .....

۴. با رقم های ۲ و ۰ و ۷ تا می توانی عدد سه رقمی بنویس .

.....

از بین اعدادی که نوشتی اعدادی را بنویس که یکان آن کمترین باشد . .....

۵. حاصل جمع و تفریق های زیر را به دست آور .

$$\begin{array}{r} 82 \\ + 98 \\ \hline \end{array}$$

$$\begin{array}{r} 109 \\ - 8 \\ \hline \end{array}$$

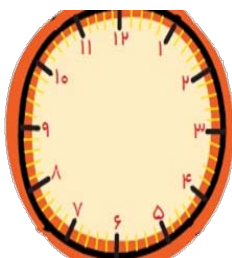
$$\begin{array}{r} 38 \\ + 42 \\ \hline \end{array}$$

$$\begin{array}{r} 98 \\ + 5 \\ \hline \end{array}$$

$$\begin{array}{r} 82 \\ - 34 \\ \hline \end{array}$$

۶. ساعت ۴:۵۰ را روی ساعت رو به رو نشان بده .

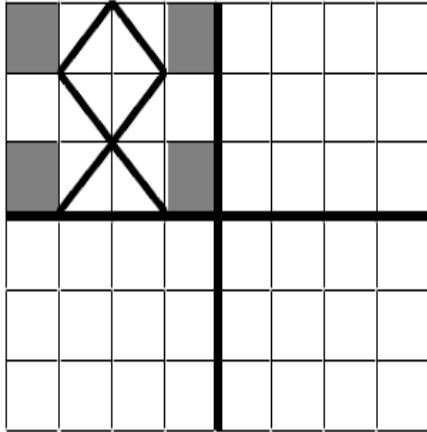
ربع ساعت بعد چند ساعت است ؟ .....




۷. علی در ساعت ۲۰ : ۷ دقیقه به سمت کتابخانه رفت و ساعت یک ربع مانده به ۸ به آنجا رسید. علی چند دقیقه در راه بوده ؟ .....

علی ساعت ۱۰ : ۸ دقیقه به طرف خانه ی دوستش رفت و ۲۵ دقیقه در راه بود . او در چه ساعتی به خانه ی دوستش رسیده ؟ .....

۸. با توجه به خط تقارن سه نیمه ی دیگر شکل را کامل کن .



۹. اعداد داخل دایره به چه عددی نزدیک تر است ؟ آن را رنگ بزن .



۱۰. الگوی مقابل را ادامه بده .

۱، ۴، ۱۰، ۱۹، .....

۳۲۴، ۳۲۶، ۳۲۸، .....

۱۱. حاصل جمع و تفریق های زیر را با حذف رقم یکان و دهگان به دست آور .

۴۳۲

۳۸۲

+۵۶۸

-۱۶۵

\_\_\_\_\_

\_\_\_\_\_

۱۲. عددی که نمونه ی باز شده نشان می دهد را بنویس .

۳۰۰ + ۰ + ۳ = .....

۸۰۰ + ۲۰ + ۰ = .....

۲۰۰ + ۵۰ + ۶ = .....

۱۳. علی ۹۸ امتیاز داشت و به یک سوال ۸ امتیازی دیگر جواب داد و بعد از آن ۳ امتیاز از دست داد. حالا چند امتیاز دارد؟

۱۴. امید در هر دست خود ۳۹ گل دارد. امید در هر دو دست خود چند گل دارد؟

۱۵. در جای خالی عدد مناسب بنویس.

$$\bigcirc + ۳۶ = ۸۵$$

۱۶. ارزش سکه های هر قسمت را بنویس.



ریال.....



ریال.....



ریال.....

۱۷. جاهای خالی را با عدد مناسب پر کن.

عدد ۲۳۷ بین عدد ..... و ..... است و به عدد ..... نزدیک تر است.

عدد ۴۱۲ بین عدد ..... و ..... است و به عدد ..... نزدیک تر است.

عدد ۳۰۸ بین عدد ..... و ..... است و به عدد ..... نزدیک تر است.

**سر بلند باشی دانشمند کوچکم**

**طیبه جلیلی**