



فرزدم ، جاهای خالی را در تقویم زیر پر کن



ولادت حضرت رسول اکرم (ص) مبارک باد



جای خالی را با اعداد یا کلمات مناسب پر کنید. ★

* هر سال فصل دارد.

* اولین فصل سال نام دارد.

* پاییز فصل سال است.

* فصل زمستان ماه دارد.

* ماه اسفند روز است. هر چهار سال یک بار اسفند روز است که به آن سال کیسه می‌گویند.

★ ماه‌های فصل تابستان روی هم چند روز می‌شود؟ (با راه حل)

★ روز، ماه و سال تولد خودتان را بنویسید.

★ با استفاده از تقویم، روزهای تعطیل پاییز و زمستان را بنویسید.

★ تعداد روزهای هر ماه را بنویسید.

مهر	دی	اسفند	تیر	خرداد	بهمن
.....

★ با استفاده از تقویم، تاریخ هر یک از وقایع زیر را بنویسید.

* روز دانش‌آموز :

* روز معلم :

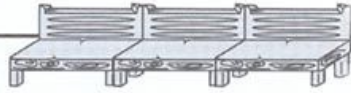
* روز مادر (زن) :

* روز درختکاری:





ایستگاه یادگیری



از سوخت برای حمل و نقل، تولید برق و گرما و ... استفاده می‌شود. ★

سوخت‌هایی مثل ذغال سنگ، بنزین، گاز طبیعی و چوب محدود هستند و دوباره به‌وجود نمی‌آیند پس با مصرف زیاد تمام می‌شوند. ★

استفاده از سوخت زیاد باعث ایجاد آلودگی هوا می‌شود و گاهی نیز خطراتی به دنبال می‌آورد. ★

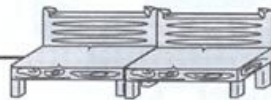
راه‌هایی مانند استفاده از سوخت‌های جایگزین، درست مصرف کردن سوخت و هدر ندادن آن و تغییر در حمل و نقل باعث صرفه‌جویی در مصرف سوخت می‌شود. ★

بعضی منابع سوخت پایان‌پذیراند مثل نفت و گاز و ذغال سنگ، ولی بعضی منابع تمام نشدنی هستند مثل باد و آب جاری و نور خورشید. ★

پیش‌تر مطالعه کن تا همیشه سرفراز بمانی.



ایستگاه فکر



کلمه‌ی مناسب را در جای خالی قرار دهید.

از سوخت برای استفاده می‌شود. (حرکت و وسایل نقلیه - پرواز باد باک) ★

گاز طبیعی و از سوخت‌هایی هستند که تمام می‌شود. (باد - بنزین) ★

استفاده بی‌اندازه از سوخت‌ها باعث می‌شود. (آلودگی هوا - از بین رفتن جنگل‌ها) ★

استفاده از وسایل یکی از راه‌های هدر نرفتن سوخت است (نقلیه‌ی عمومی - نقلیه‌ی شخصی) ★

از سوخت برای تولید نیز استفاده می‌شود. (هوا - برق) ★

در گذشته برای پخت و پز و گرم کردن خانه‌ها بیشتر از استفاده می‌شده است. (نفت - برق) ★

در روستاها از سوخت از شهرها استفاده می‌شود. (کمتر - بیشتر) ★

..... برای حرکت به سوخت نیاز ندارد. (اتومبیل - گاری) ★

در مصرف سوخت‌های تمام نشدنی باید کرد. (اسراف - صرفه‌جویی) ★

با صرفه‌جویی در سوخت هم کمتر می‌شود. (زباله‌ها - آلودگی هوا) ★



گزینه‌ی درست را علامت بزنید.

مصرف زیاد سوخت برای حمل و نقل چه مشکلی را ایجاد می‌کند؟ ★

- (الف) آلودگی هوا (ب) تمام شدن منبع سوخت (ج) هر دو مورد

از سوخت برای حرکت کدامیک از وسایل زیر استفاده می‌شود؟ ★

- (الف) دوچرخه (ب) موتورسیکلت (ج) قایق بادی

کدامیک از وسایل زیر با سوخت گاز طبیعی کار می‌کند؟ ★

- (الف) اجاق گاز (ب) سماور برقی (ج) اجاق نغالی

ویژگی استفاده از باد و خورشید برای تولید برق چیست؟ ★

- (الف) ارزان و همیشگی (ب) آلوده‌کننده (ج) موقتی

کدام یک به راحتی قابل بازگشت به طبیعت نیست؟ ★

- (الف) باد (ب) چوب (ج) نور خورشید

از سوخت چه استفاده‌هایی می‌شود؟ ★

- (الف) حمل و نقل (ب) گرم کردن خانه‌ها (ج) مورد الف و ب صحیح است.

برای حرکت اتومبیل‌ها از چه سوختی استفاده می‌شود؟ ★

- (الف) بنزین و روغن (ب) گازوئیل و بنزین (ج) آب و گاز

مضرات سوخت بنزین چیست؟ ★

- (الف) پر هزینه و آلوده کننده (ب) قابل بازگشت به طبیعت (ج) تمام نشدنی

چه راهی برای مصرف درست سوخت است؟ ★

- (الف) تعمیر وسایل نقلیه (ب) استفاده از وسایل نقلیه‌ی عمومی (ج) همه‌ی موارد

در کجا سوخت کمتری استفاده می‌شود؟ ★

- (الف) جنگل‌ها (ب) کارخانه‌ها (ج) شهرها

مقایسه کن و علامت ($< = >$) مناسب بگذار.

۱۲ ● ۹

۸ ● ۱۱

۵۰۵ ● ۶۶

۱۳ ● ۱۳۰

۸۶ ● ۲۳۴

۷۰۰ ● ۸۹

۲۱۹ ● ۳۹

۱۰۵ ● ۹۷



من برای مقایسه‌ی دو عدد اول تعداد رقم‌ها را می‌شمرم. عددی بزرگ‌تر است که رقم‌هایش بیشتر باشد.



این‌که خیلی آسان بود! اگر تعداد رقم‌ها مساوی باشد چی؟



با ارزش‌ترین رقم را مقایسه می‌کنم! در عددهای دو رقمی، رقم دهگان با ارزش‌تر است و در عددهای سه رقمی، رقم صدگان با ارزش‌تر است.

مانند نمونه مقایسه کن، علامت بگذار و عدد بنویس.

۹۷ $>$ ۶۸ چون ۹ $<$ ۶

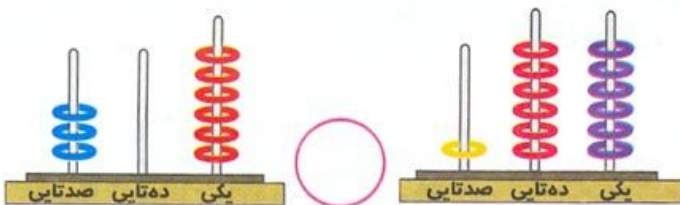
۵۱ ○ ۴۹ چون □ ○ □

۳۹۸ ○ ۴۰۱ چون □ ○ □

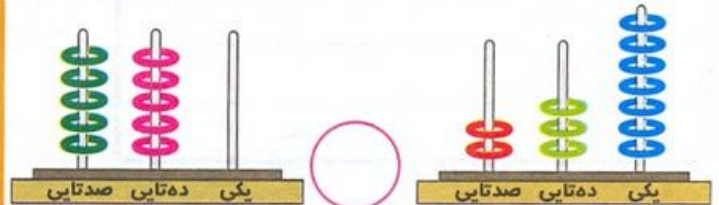
۷۱۶ ○ ۶۷۰ چون □ ○ □

۸۲۹ ○ ۷۸۲ چون □ ○ □

۱۹۵ ○ ۲۰۰ چون □ ○ □



□ ○ □ چون



□ ○ □ چون

محمد ۹۸ صفحه از یک کتاب را خوانده است. اگر ۸ صفحه ی دیگر بخواند، کتاب تمام می شود. آن کتاب چند صفحه دارد؟



زرگس در قلک ۷ صد ریالی، ۸ یک ریالی و ۴ ده ریالی دارد. او ابتدا برای پول هایش یک جمع سه عددی نوشت و سپس مقدار پول خود را محاسبه کرد. عبارتی که او نوشت را بنویس. زرگس چند ریال دارد؟ با حرف بنویس.



سامان ۸۷۴ ریال پول دارد. پول های او چند صد ریالی، چند ده ریالی و چند یک ریالی است؟

دبستان بهار تقریباً ۴۰۰ دانش آموز و دبستان دانش تقریباً ۵۰۰ دانش آموز دارد. تعداد دانش آموزان این دو دبستان تقریباً چند نفر است؟ (عبارت مناسب بنویس)

شماره ی پلاک خانه ی آقای سروش ۷۸ است. شماره ی پلاک خانه ی برادرش ۱ صدتایی بیشتر از پلاک خانه ی آقای سروش است. پلاک خانه ی برادر آقای سروش چه عددی است؟



نظر ولی محترم: