

۱- گسترده ی اعداد زیر را بنویس.

$۲۰۲۰ = \dots\dots\dots$

$۶۵۱۰ = \dots\dots\dots$


۲- در جاهای خالی عدد مناسب بنویس .

۳۹۸ سانتی متر = متر و سانتی متر

۴۳۷۸ کیلومتر = کیلو متر و متر

۱۰۰ ریال = تومان


۳- دایره ی روبه رو را به سه قسمت مساوی تقسیم کن .





یک سوم این دایره را آبی کن.

دو سوم این دایره را قرمز کن .

۴- ساعت ۴۰ : ۱۷ را روی ساعت روبه رو نشان بده .

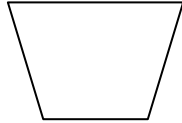


۵- عبارت های زیر را روی محور نشان بده .



۶- با رسم شکل نشان بده که کسر $\frac{1}{4} = \frac{2}{8}$ است.

۷- در شکل های زیر خط های موازی را هم رنگ کن.



۸- محمد ۷ سال و مادرش ۳۵ سال دارد. سن مادر محمد چند برابر سن اوست؟

۹- جدول زیر را کامل کن.

$\frac{\circ}{\circ}$	۶	۸	۳
۲۴			

\times	۳	۵	۸
۴			

۱۰- با توجه به پرانتزها، جاهای خالی را پر کن.

$$(3+5) \times (2+7) = \dots \times \dots = \dots \quad (2+4) + (7 \times 3) = \dots + \dots = \dots$$

۱۱- هر دست لیوان ۶ لیوان دارد. ۴ دست لیوان چند لیوان است؟

۱۲- پدر بزرگ می خواهد ۱۵ بادکنک را بین ۳ نوه ی خود تقسیم کند. به هر نوه چند بادکنک می رسد؟

نظر معلم:



نیازمند تلاش بیشتر



قابل قبول



خوب



بسیار خوب